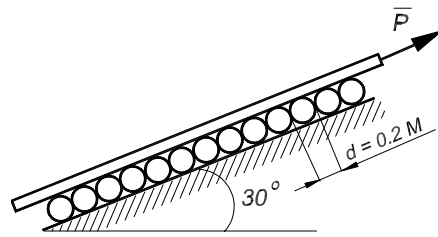
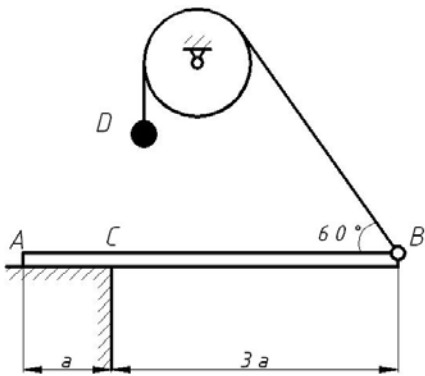


А. И. ПОПОВ

**МЕХАНИКА .
РЕШЕНИЕ ТВОРЧЕСКИХ
ПРОФЕССИОНАЛЬНЫХ ЗАДАЧ**

Часть 1



Издательство ТГТУ

ГОУ ВПО «Тамбовский государственный технический университет»

А.И. ПОПОВ

**МЕХАНИКА.
РЕШЕНИЕ ТВОРЧЕСКИХ
ПРОФЕССИОНАЛЬНЫХ ЗАДАЧ**

Часть 1

Рекомендовано Учебно-методическим объединением по университетскому политехническому образованию в качестве учебного пособия для студентов высших учебных заведений, обучающихся по направлению подготовки 220600 «Инноватика».



Тамбов
Издательство ТГТУ
2007

Рецензенты:

Заведующая кафедрой высшей математики
Ярославского государственного технического университета, доцент
Ю.К. Оленикова

**Кандидат технических наук, доцент кафедры теоретической механики
Южно-Российского государственного технического университета
*А.И. Кондратенко***

Попов, А.И.

П58 Механика. Решение творческих профессиональных задач : учебное пособие / А.И. Попов. – Тамбов : Изд-во Тамб. гос. техн. ун-та, 2007. – Ч. 1. – 108 с. – 200 экз. – ISBN 5-8265-0559-1 (978-5-8265-0559-5).

Соответствует содержанию федеральной дисциплины ОПД.Ф.01 «Механика» государственного образовательного стандарта по направлению подготовки бакалавров и дипломированных специалистов 220600 «Инноватика».

Содержит сведения о роли творчества в реализации инновационных процессов в производственном секторе, о развитии творческих способностей при решении профессионально-ориентированных задач по механике, задачи по механике для самостоятельного решения. В первой части представлены задачи статики.

Предназначено для студентов высших учебных заведений, обучающихся по направлению подготовки бакалавров и дипломированных специалистов 220600 «Инноватика», по дисциплине «Механика», а также в процессе самостоятельной работы при изучении дисциплины «Решение творческих задач», при подготовке к участию в студенческих олимпиадах. Может быть использовано в системах непрерывного профессионального образования.

УДК 531(07)
ББК В21я73-4

ISBN 5-8265-0559-1 © Попов А.И., 2007
(978-5-8265-0559-5) © ГОУ ВПО «Тамбовский государственный
технический университет» (ТГТУ), 2007

Учебное издание

ПОПОВ Андрей Иванович

МЕХАНИКА.

**РЕШЕНИЕ ТВОРЧЕСКИХ
ПРОФЕССИОНАЛЬНЫХ ЗАДАЧ**

Часть 1

Учебное пособие

Редактор О.М. Ярцева
Компьютерное макетирование Е.В. Кораблевой

Подписано в печать 16.01.2007
Формат 60 × 84/8. 6,5 усл. печ. л. Тираж 200 экз. Заказ № 41

Издательско-полиграфический центр ТГТУ
392000, Тамбов, Советская, 106, к. 14

ПРЕДИСЛОВИЕ

Предлагаемое учебное пособие предназначено для студентов учебных заведений дневных и заочных форм обучения по направлению подготовки 220600 «Инноватика», а также для тех, кто изучает механику самостоятельно. Материал книги изложен так, что им можно пользоваться при обучении по полной и сокращенной программам других специальностей вузов, входящих в УМО по университетскому политехническому образованию.

Изложены краткие сведения по теории решения творческих задач и их роли в становлении специалиста в области инноватики, истории олимпиадного движения, собран банк уникальных задач по механике, даны методические указания по их решению.

Приведенные примеры достаточно полно отражают возможности рассматриваемых творческих задач в процессе творческого саморазвития личности обучающихся, при этом самостоятельная работа студентов с использованием учебного пособия проводится параллельно с аудиторными занятиями и обеспечивается консультациями преподавателей.

Наличие большого количества творческих задач из различных разделов механики позволяет организовать эффективный контроль самостоятельной работы студентов в течение всего периода изучения механики.

Изложение курса выполнено с позиций пользователя, для которого важны осмысление и возможность использования творческих приемов для практического применения. Студенты, заинтересованные в углубленном изучении отдельных вопросов механики и более широкой практике по решению задач, необходимые материалы могут найти в учебной литературе, список которой дается в конце книги.

При подготовке пособия автором использован опыт организации олимпиадного движения по механике профессора Тамбовского государственного технического университета Владимира Ивановича Попова, доцента Омского политехнического института Валерия Алексеевича Тышкевича, доцента Томского политехнического института Михаила Петровича Шумского.

ВВЕДЕНИЕ

В середине XX в. возникла потребность в преднамеренном управлении творческой деятельностью, прежде всего, в науке и технике: необходимо было растить творческих работников, отбирать кадры, мотивировать творческую деятельность, стимулировать успех творческого акта, формировать творческие коллективы и т.п.

Особую актуальность приобретают творческие процессы в современных социально-экономических условиях. Становление рыночных отношений, усиление конкурентной борьбы требует от предприятия готовности к гибкому реагированию на динамические изменения внешних условий.

Интеграция российской экономики в мирохозяйственную систему, динамика научно-технического прогресса, необходимость разработки и внедрения наукоемких технологий во всех сферах народного хозяйства и повышения уровня благосостояния государства предопределяет возрастающую потребность современного общества в непрерывном развитии инфраструктуры производственного сектора и творческой личности, готовой к инновационной деятельности.

Развитие производственного сектора страны должно осуществляться путем непрерывного и целенаправленного процесса улучшений, модернизации, нововведений, обеспечивающих повышение качества товаров и услуг. В качестве исходного материала для развития производственного сектора инновационная (развивающая) инфраструктура использует накопленные мировой наукой достижения, и, прежде всего, технологии и прогрессивное оборудование.

Большая роль в интенсивном развитии экономики принадлежит творческому труду инженерно-технических работников на предприятиях и в научно-исследовательских организациях. Результаты этого труда – новые конструкторские или технологические решения, научные закономерности, физические явления – позволяют более полно удовлетворять насущные, и что особенно важно, будущие потребности покупателей.

Эффективность инновационной деятельности достигается, в первую очередь, совершенствованием подготовки специалистов в области инноватики для машиностроительного производства, которые вынуждены принимать управленческие решения в условиях жесткого дефицита имеющихся материальных, трудовых и финансовых ресурсов, времени, в условиях повышенной ответственности за конечный результат своей деятельности. Управленческие решения не только должны полно и всесторонне учитывать факторы окружающей маркетинговой среды фирмы, но и должны быть принципиально новыми, стимулирующими дальнейшее развитие предприятия, обеспечивающими повышение его конкурентоспособности.

Механика, являясь научной основой важнейших областей техники, продолжает интенсивно развиваться. Это стимулируется появлением новых прогрессивных технологий и инновационных производств, автоматизацией производственных процессов, созданием новых высокотехнологичных машин и механизмов, освоением макро- и микромира. Прогресс современного производства невозможен без широкого взаимодействия науки и техники. Для решения этих возрастающих по сложности задач в

области машиностроения важное значение имеют знания в области одной из фундаментальных общенаучных дисциплин – механики – науки о механическом движении и взаимодействии материальных тел.

Механическим движением называют изменение с течением времени взаимного положения тел в пространстве. Примеры таких явлений встречаются повсюду: движутся газовые и жидкостные потоки в машинах и аппаратах, различные транспортные средства (автомобили, корабли, самолеты), механизмы, машины. К тому же состояние покоя, в котором находятся различные опорные конструкции и производственные сооружения, является частным случаем движения. При взаимодействии материальных тел друг с другом происходит изменение движения этих тел или их формы.

Перечень проблем, рассматриваемых в механике, практически необъятен, и с развитием этой науки он непрерывно пополняется, образуя подчас самостоятельные области, связанные с изучением механики твердых деформируемых тел, жидкостей и газов. Современная механика представляет собой целый комплекс общих и специальных дисциплин, посвященных проектированию и расчету различных статических и динамических конструкций, сооружений, механизмов, машин, аппаратов, необходимых для развития инновационного производства.

Однако все это многообразие опирается на ряд основных понятий, законов, принципов, методов, общих для всех областей механики. Рассмотрение этих общих закономерностей движений материальных тел и методов их применения и составляет предмет теоретической (или общей) механики.

При изучении какого-либо явления необходимо выделять в нем наиболее существенное, главное, абстрагируясь от других незначительных его сторон. В результате этого исследуются некоторые модели (схемы) реальных тел, процессов, явлений. Такими научными абстракциями являются все вводимые в механике исходные положения и понятия, модели материальных тел, схемы их взаимодействий.

Уровень развития производства и нарастание информационных процессов, когда специалист не в состоянии использовать традиционные методы, «переварить» такое количество информации, определяет актуальность освоения нового, более творческого подхода к организации инновационной деятельности. При этом конкурентоспособный специалист должен обладать способностью к ранжированию информации, интуитивным чутьем на ее актуальность, умением в окружающей действительности уяснить наиболее злободневную проблему и сформулировать профессиональную задачу, определить основные информационные источники. Информация должна быть воспринята инженером, «пропущена через себя», из нее отобрано самое ценное.

Существует ряд объективных и субъективных препятствий для более широкого использования творческой деятельности в условиях современного производства. Прежде всего, это условия внешней среды, в которой должна происходить творческая деятельность – условия перемотивации, которые определяются для специалистов жесткими ограничениями во времени принятия решения и возможности использования ресурсов при возрастающей ответственности за конечный результат (который определяет судьбу фирмы и личности человека). Такая ситуация приводит к торможению творческих процессов, а иногда к их полной невозможности.

Другим очень сильным препятствием является организация образовательного процесса в учебных профессиональных заведениях, которая более ориентирована на законодательный, алгоритмизированный стиль мышления обучающихся. Молодые специалисты не готовы к встрече с реальными проблемными ситуациями, механизм разрешения которых заранее не определен.

Подготовка и проведение олимпиад по механике в технических вузах, а в последнее время и в классических университетах, являются системообразующим элементом организации творческой учебно-познавательной деятельности в высшей школе. Участие студентов в олимпиадном движении способствует более системному и глубокому усвоению профессиональных знаний, дает возможность сформировать у них готовность к творческой деятельности, развить креативный характер мышления. Все это помогает подготовить конкурентоспособного специалиста к профессиональной деятельности в современных рыночных условиях по разработке и продвижению инновационных проектов в производство.

1. ТВОРЧЕСТВО В ПРОФЕССИОНАЛЬНОЙ ДЕЯТЕЛЬНОСТИ СПЕЦИАЛИСТА В ОБЛАСТИ ИННОВАТИКИ

Творчество, нахождение новаторских, прогрессивных выходов из создавшейся ситуации всегда было основным условием развития общества. Под развитием понимается изменение какой-либо системы, в том числе всей общественной жизни, сопровождающееся закреплением и накоплением предыдущих ее состояний, в связи с чем возникает некоторая заданность, предопределенность направления последующих изменений относительно предшествующих. Можно определить развитие как способ существования совокупности взаимодействующих систем, связанный с перестройкой конкретной системы, с образованием качественно новых временных и пространственных структур. Процесс становления новой формы связан с неизбежной постоянной деформацией способа связи, возникающий в итоге постоянного видоизменения компонентов системы. Творчество – необходимое условие развития материи, образования ее новых форм.

«В общепринятом смысле творчество – условный термин для обозначения психического акта, выражающегося в воплощении, воспроизведении или комбинации данных нашего сознания, в (относительно) новой форме, в области отвлеченной мысли, художественной и практической деятельности» (Ф. Батюшков). Творчество заключено не в той деятельности, каждое звено которой полностью регламентировано заранее данными правилами, а в той, предварительная регламентация которой содержит в себе известную степень неопределенности, в деятельности, приносящей новую информацию, предполагающей самоорганизацию. «Сущность творческого процесса заключается в реорганизации имеющегося опыта и формировании на его основе новых комбинаций» (А. Матейко). «Творчество – деятельность человека, создающего новые материальные и духовные ценности, обладающие общественной значимостью» (С.Л. Рубинштейн).

В общем виде творческую способность можно определить как комплекс свойств и качеств личности, которые обеспечивают ей возможность проявить себя в любом виде человеческой деятельности творческой личностью.

Креативность – это одна из своеобразных сторон человеческого ума, отличная от тех качеств сознательной деятельности человека, которые обозначены термином интеллект. Творческий процесс – это не теоретизирование, не манипуляция понятиями и словесными формулировками, а процесс целенаправленной, практически полезной деятельности, дающей результаты сейчас, в конкретных условиях жизненных обстоятельств, которые меняются ежечасно и ежесекундно. Поэтому креативность – это всегда принятие оригинального, нового, неповторимого решения; это процесс практического разрешения актуальной проблемы. Наиболее близка нам позиция Д.Б. Богоявленской, которая вводит понятие креативной активности личности, обусловленной психической структурой, присущей креативному типу личности. Творчество является ситуативно-нестимулированной активностью, проявляющейся в стремлении выйти за пределы заданной проблемы.

Творческая компетентность специалиста – наличие креативности мышления и готовность к прогрессивному преобразованию действительности, основывающееся на имеющейся совокупности знаний, умений, навыков в своей профессиональной области, и психологической готовности к такому преобразованию в современных экстремальных внешних и внутренних условиях индивидуально и трудовом коллективе. Показатель творческой компетентности специалиста – его важнейшее личностное качество, определяющее готовность выявлять и анализировать актуальные проблемы в научной и производственной сферах, находить способы и средства для творческого их решения.

Структура творческой деятельности (креативный процесс) представляет собой сложное, многоуровневое, системное образование, в центре которого находится креативность как общая универсальная способность к профессиональной творческой деятельности (творческая компетентность) и показана на рис. 1. Основным компонентом креативности является соответствующий уровень интеллектуальной активности, основанной на творчестве как свойстве личности и на владении технологией творчества.

В процессе профессиональной деятельности специалист, как правило, сталкивается с производственными ситуациями, в которых действуют неопределенные, вероятностные условия, излишние, противоречивые и недостающие данные, когда нужно принимать решения в экстремальных условиях ограничения времени и (или) использования материальных и финансовых ресурсов. Производственные ситуации такого рода неизбежно возникают в условиях рыночной экономики, в процессе освоения или разработки новых производственных технологий, современного экономически выгодного и экологически надежного оборудования, ведения предпринимательской и коммерческой деятельности.

«Мышление всегда начинается с проблемы или вопроса, с удивления или недоумения, с противоречия. Этой проблемной ситуацией определяется вовлечение личности в мыслительный процесс» (С.Л. Рубинштейн). Следствием установки у специалиста на преодоление препятствий и решение проблемной ситуации является возникновение активной мыслительной деятельности.

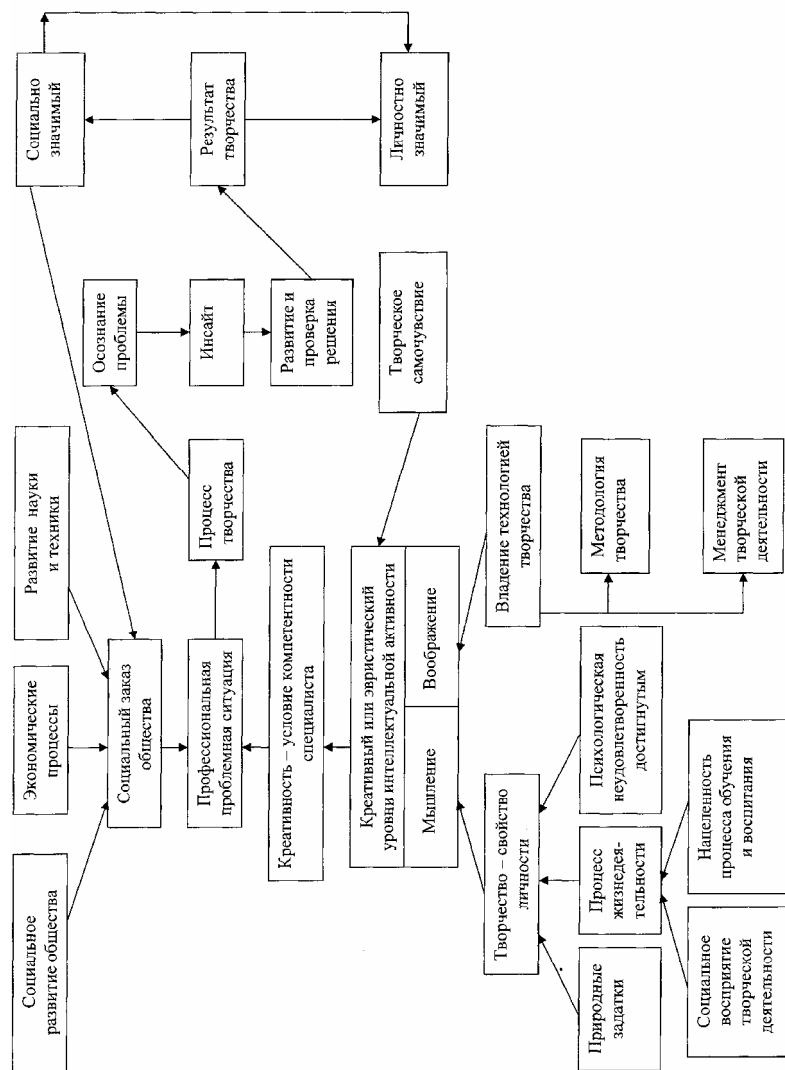


Рис. 1. Структура творческой деятельности

Результаты мыслительного анализа проблемной ситуации субъект излагает на каком-то языке (естественном или искусственном), тем самым возникает знаковая модель проблемной ситуации – задача. Естественно, что задача как модель отражает лишь некоторые стороны моделируемой проблемной ситуации. Последняя всегда богаче своей знаковой модели, хотя в структурном отношении они подобны. На следующем этапе деятельности специалист решает сформулированную задачу (или организует решение с помощью других людей), доказывает истинность ее решения, компетентность и качество предпринятых при этом действий и поступков. В случае, когда задача поступает извне в уже готовом сформированном виде, процесс мышления начинается с этапа субъективной трансформации задачи, что проявляется через стремление субъекта переформулировать ее по-своему, создать свою задачу, являющуюся как бы субъективной моделью, полученной.

Первым этапом подготовки специалиста в области инноватики к творческой деятельности является решение олимпиадных задач, в основе которой лежит творческая ситуация, требующая разрешения некоторого диалектического противоречия. Процесс творческого саморазвития личности осуществляется тем эффективнее, чем более сложные, трудные и вместе с тем посильные творческие задачи выбирает субъект обучения (рис. 2).

Задачи, которые встречаются как в профессиональной деятельности, так и в учебной практике, весьма разнообразны по содержанию и форме, но все они включают в себя:

- Предметную область – совокупность фиксированных и предполагаемых объектов разного характера, о которых явно или неявно идет речь в задаче.
- Отношения, которыми связаны объекты предметной области.
- Требование или вопрос – указание о цели задачи.
- Оператор задачи – совокупность тех действий, которые надо произвести над условиями задачи, чтобы выполнить ее требование. Решение задачи и состоит в том, чтобы найти оператор.

Пидкасистый П.И. в качестве отличительного признака творческой задачи, по сравнению с нетворческой, указывают на наличие интуитивного мышления, скачка, озарения (инсайта), происходящего при решении творческой задачи. По мнению А.Ф. Эсаулова, инсайт (генетическая интуиция) является способностью студента внезапно и невыводимо из его прошлого опыта найти оператор творческой задачи. Задача, решаемая в результате инсайта, дает обучающемуся возможность убедиться в собственной значимости и получить положительное эмоциональное переживание.

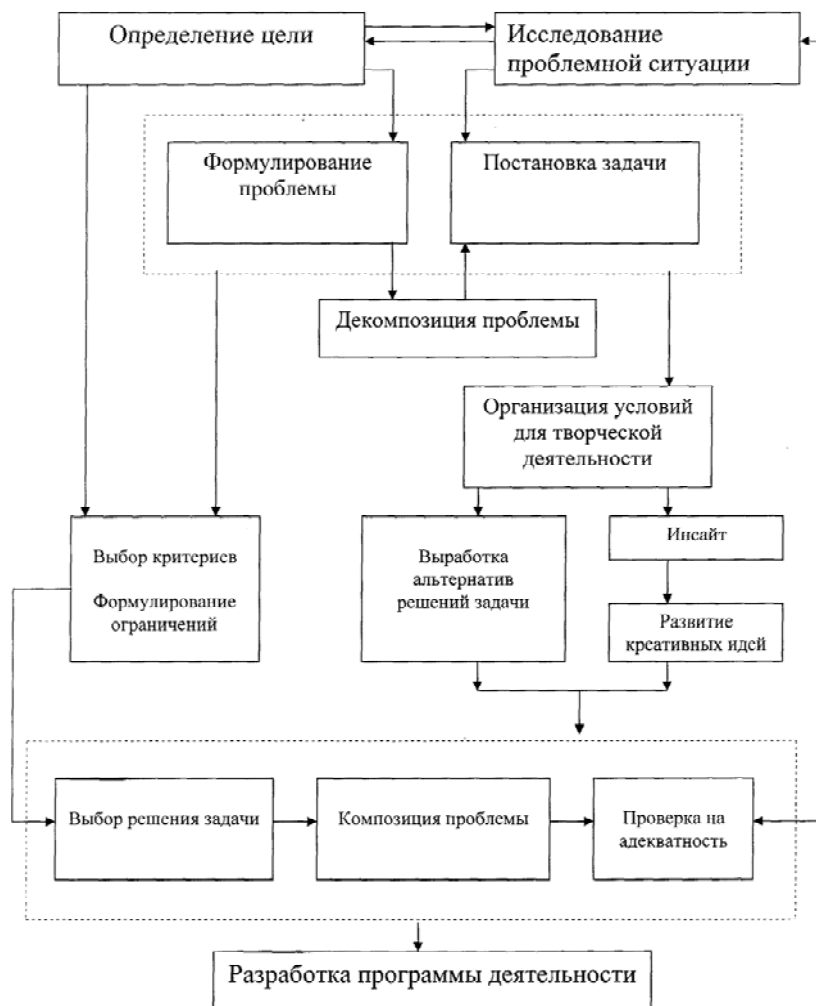


Рис. 2. Схема процесса выработки и принятия творческих решений

В работе В.И. Андреева приведена общая классификация учебно-творческих задач в связи с их использованием для развития творческих способностей личности. При подготовке и проведении олимпиад к задачам предъявляются комплексные специфические требования, поэтому мы считаем целесообразным дать укрупненную классификацию творческих олимпиадных задач (табл. 1).

1. Классификация творческих олимпиадных задач

Типы учебно-творческих задач	Виды учебно-творческих задач	Развиваемые компоненты творческих способностей личности
Задачи на решение учебной проблемной ситуации	Задачи с некорректной информацией, на выбор оптимального решения, на разработку алгоритма и поиск способа его решения, на моделирование, на доказательство, на установление причинно-следственных связей	Способность находить нужную информацию, гибкость, рационализм мышления, критичность мышления, способность к видению проблем и противоречий, способность преодолевать инерцию мышления; интеллектуально-логические способности
Задачи на управление (олимпиада)	Задачи на планирование деятельности, ее организацию и контроль, на нормирование времени и оценку результатов деятельности	Способности к самоуправлению в предстоящей творческой производственной деятельности
Задачи коммуникативно-творческие (решаемые в рамках олимпиадной микрогруппы)	Задачи на распределение обязанностей в процессе коллективной творческой деятельности, на поиск средств взаимопомощи	Коммуникативно-творческие способности
Конструкторские задачи (профессионально ориентированные задачи для инженеров)	Задачи на поиск нового конструкторского решения	Способности к конструированию (готовность к профессиональной деятельности)

Для развития творческих способностей предусматривается использование ряда специализированных задач. Среди них можно выделить задачи на рецензирование, когда обучающимся предлагается проверить решения задач своих товарищей и оценить их. В процессе работы обучающиеся анализируют этапы погружения в информационное поле проблемы и ход поиска вариантов решения, исследуют причины ошибочных суждений, узнают другие, отличные от усвоенных ими, приемы решения. В результате развивается критичность мышления, формируется способность к оценочным суждениям.

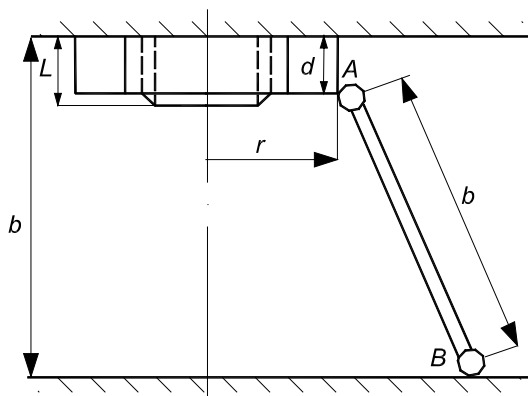
Представляется возможным выделить несколько классов творческих познавательных задач, решаемых студентами при подготовке к инновационной деятельности:

1. Неполнопоставленные, с размытыми условиями, требующие способности к «видению проблемы».
2. С парадоксальной формулировкой, «провоцирующие» на ошибку, с неопределенным, неоднозначным ответом.
3. С избыточными данными, задачи выбора, с противоречивыми условиями; базирующиеся на оптимизации процесса решения.
4. Рассчитанные на комбинирование известных способов решения задач в новый способ.
5. Ставящие целью выработку обобщающих стратегий, построение алгоритмов решения.
6. Опирающиеся на доказательство, на обнаружение и устранение ошибок.
7. Предполагающие выдвижение гипотез, построение стратегии решения.
8. Предусматривающие выделение в качестве основного этапа проверки решения с последующей его оценкой.

Приведем примеры различных типов специфичных творческих задач, характерных для олимпиад (на примере задач по теоретической механике).

Пример 1. Информационно перегруженные задачи.

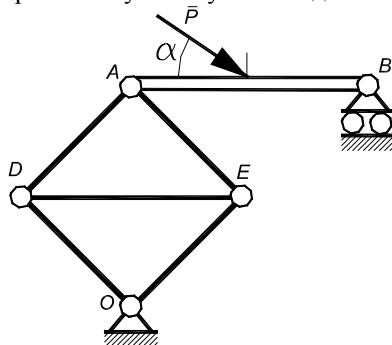
На вертикально выступающую из горизонтальной плоскости часть шпильки длиной l накручена однородная гайка толщиной d и весом P . К гайке на расстоянии r от ее оси с помощью цилиндрического шарнира присоединен однородный стержень AB длиной b и весом Q , конец которого опирается на гладкую горизонтальную плоскость. Расстояние между плоскостями равно b . Резьба правая с постоянным шагом. Приняв, что при самоотвинчивании гайки в результате взаимодействия со шпилькой ускорение ее центра тяжести C постоянно, найти скорость и ускорение точки B в момент схода гайки со шпильки, если давление на опору в этот момент равно половине веса системы и гайка к этому моменту совершила пять оборотов. Вычисления провести при $r = d = l = b/2$ и $P = Q$.



Комментарий. Задача интересная, построенная на реальном практическом материале, но попробуйте понять условие за ограниченное время.

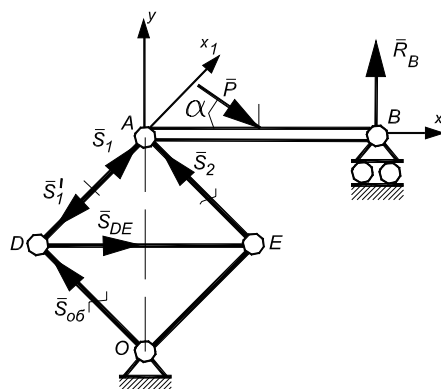
Пример 2. Задачи «провокационные».

Горизонтальная балка AB левым концом A шарнирно соединена со стержневым квадратом $ADOE$, установленным так, что $AO \perp AB$; правый конец B балки закреплен на шарнирно-подвижной опоре. К середине балки приложена сила P под некоторым углом α . Пренебрегая весом стержней квадрата, соединенного между собой и с опорой O шарнирно, а также весом балки, по сравнению с силой P , определить, при каком угле α усилие в диагональном стержне квадрата будет минимальным.



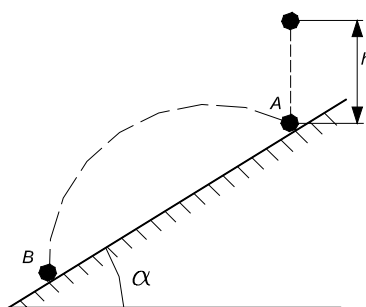
Комментарий. Решение, вроде бы, очевидно. Объект равновесия – балка AB , на которую действуют реакции S_1 и S_2 стержней AD и AE , реакция R_B шарнирно-подвижной опоры и сила P . Записав условия равновесия для балки AB получим выражение для силы S_1 . Затем рассмотрим равновесие узла D и найдем силу S_{DE} . Сила минимальна, если производная равна нулю.

Ответ найден. Но попробуем рассматривать равновесие узла E , а не D . Ответ будет другим. И тут мы задумываемся, а будет ли равновесие вообще.



Пример 3. Задача на знание базового курса.

Шарик падает без начальной скорости с высоты h на наклонную плоскость с углом наклона α . Отразившись в точке A от плоскости, он попадает в точку B . Считая удар абсолютно упругим и пренебрегая сопротивлением воздуха, определить расстояние AB .



В настоящее время все большую актуальность приобретает мысль о том, как наряду с выработкой у обучающихся умений решать уже готовые, четко сформулированные учебные задачи, помочь им самостоятельно усматривать, выявлять и ставить новую задачу, вычлняя ее из сложных (или даже противоречивых) обстоятельств реальной действительности. При этом наиболее ответственной стадией технического творчества, по мнению М.Е. Поморцева, является постановка задачи, которую он называл конструктивным подходом к ее возможному решению, а сам процесс решения технических задач, проходящих через эту стадию, – конструктивно-техническим. Важным этапом подготовки к инновационной деятельности является формирование умения формулирования проблемы, приобретаемое, в том числе и при подготовке студентами своих собственных творческих задач.

Остановимся подробнее на изучении механизма творческой работы. Энгильмейер П.К. подчеркивал, что в процессе размышления над задачей изобретателю как «откровение» приходит в голову конкретный путь ее решения. Однако ссылка на характерный для внезапного решения интуитивный проблеск новой идеи в виде «озарения» никак не раскрывает самого анализа того процесса, который приводит к решению. Для психологического анализа важен не сам по себе факт «озарения», а не сразу раскрывающиеся обстоятельства, которые опосредуют и предвосхищают искомое решение. Такое предвосхищение вначале может быть лишь приблизительным, но именно оно как бы проторяет путь к выявлению особенностей мыслительного поиска, лежащего в основе достигаемого решения. Детерминированный процесс решения происходит не сразу, а постепенно, в виде конкретных стадий, в проявлении которых раскрываются новые условия его осуществления. Брушлинский А.В. вполне справедливо обращает особое внимание на то, что только в ходе самого мышления создаются внутренние условия для его дальнейшего развития, которые в свою очередь обеспечивают новые шаги мышления. С позиции учета такой детерминированной природы мышления А.В. Брушлинский отмечает: «Неизвестное не есть какая-то «абсолютная пустота», с которой вообще невозможно оперировать. Оно с самого начала включает в «сеть» отношений между различными элементами (условиями) задачи, и только исходя из таких отношений его и можно искать».

Эта включенность неизвестного в определенную «сеть» отношений между различными элементами задачи требует преобразования этих изначально сложившихся отношений, т.е. требует достаточного глубокого и разностороннего преобразования, точнее, переформулирования всего структурно-компонентного состава задачи.

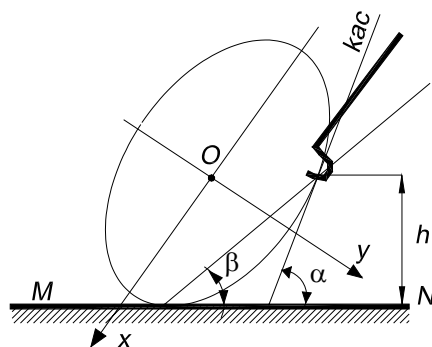
Рубинштейн С.Л. отмечал, что «от решения элементарных задач надо перейти к изучению творческого мышления ученого, конструктора-изобретателя...», ибо в результате анализа процессов решения весьма трудных (конструкторско-технических) задач можно выявить как их стадийный процесс преобразования, так и относительные особенности высокопродуктивной умственной деятельности, обеспечивающий продвижение с каждой предыдущей стадии на последующую. В процессе этого продвижения не только усложняется и глубоко преобразуется структурно-компонентный состав задачи, включающий в себя ее условия и требования, но и одновременно пробуждаются как бы дремлющие до этого умственные возможности изобретателя, и прежде всего, его инверсионное мышление.

В процессе усмотрения задачи особенно ярко раскрывается поисковый стиль умственной деятельности, проявляющийся в умении не только «заподозрить» существование новой идеи или задачи, но и зафиксировать в сознании еще крайне фрагментарные, но все же вполне конкретные ее признаки.

По мнению В.Г. Разумовского, основным признаком творческой задачи является наличие определенного требования, выполнимого на основе знания физических законов в отсутствие каких-либо прямых и косвенных указаний на те физические явления, законами которых следует воспользоваться для выполнения этого требования.

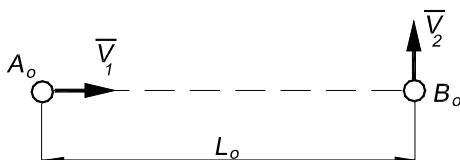
Рассмотрим еще несколько примеров творческих задач и предложим рекомендации по их решению.

Пример 4. Мальчик бежит с постоянной скоростью V и с помощью водила катит перед собой обод, имеющий форму эллипса с полуосями a и b ($a > b$). Точка касания водила с ободом находится на постоянной высоте h над землей. Выразить угловую скорость ω обода, катящегося без проскальзывания, как функцию от α , β . Вычислить ω при $OX \perp MN$.



Комментарий. Решение этой задачи предполагает большие математические выкладки. Целесообразно вначале рассмотреть частный случай, когда обод является окружностью. Затем использовать средства информационных технологий и численно решить задачу.

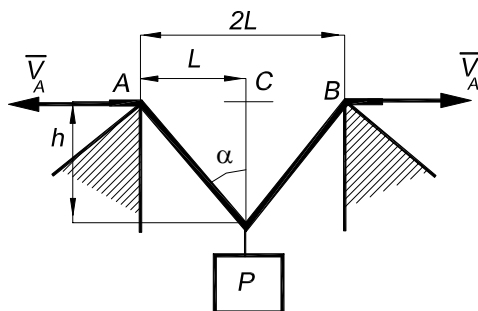
Пример 5. Две точки A и B движутся по прямым, расположенным в одной плоскости, с постоянными скоростями V_1 и V_2 . В начальный момент времени расстояние между точками равно l_0 , направления скоростей указаны на чертеже. Определить кратчайшее расстояние между точками A и B .



Комментарий. Насколько усложнится задача, если одна из скоростей будет направлена постоянно на другое тело (следящая система). На Всероссийской олимпиаде участник решил аналогичную задачу (про зайца и догоняющую его лису) графически и получил ответ с допустимой погрешностью. Попробуйте. Для аналитического решения необходимо перейти в другую систему отсчета.

Пример 6. Груз P поднимается с помощью двух тросов, движущихся в противоположных направлениях с одинаковыми скоростями ($\vec{V}_A = -\vec{V}_B$).

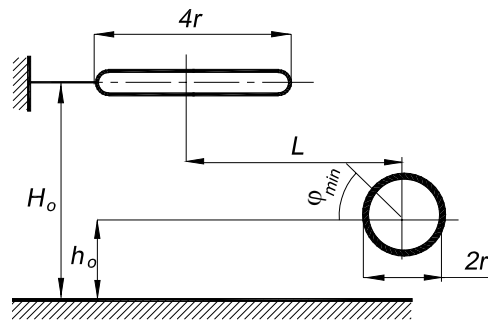
Определить скорость и ускорение груза.



Комментарий. Возможно решение методами механики, а возможно и аналитическими, если вспомнить, что скорость груза – это производная от его перемещения.

Пример 7. Под каким наименьшим углом к горизонту φ_{\min} следует бросить баскетбольный мяч, чтобы он пролетел сверху сквозь кольцо, не ударившись в него. Толщиной кольца, изменением скорости мяча за время пролета через кольцо и сопротивлением воздуха пренебречь.

Комментарий. Интересная и доступная задача даже для школьников. Необходимо вспомнить законы баллистического движения и сообразить условие пролета мяча через кольцо.



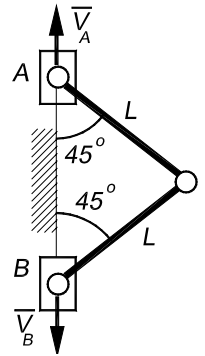
Пример 8. Определить скорость и ускорение точки C плоского механизма в положении, указанном на рисунке, если известны скорости V_A и V_B , а ускорения точек A и B равны нулю.

Комментарий. Начните с частного случая – скорости точек A и B равны. Возможен аналитический метод решения. Интересно рассмотреть и случай несимметричного механизма.

Эсаулов А.Э. предложил отображение процесса инверсионного мышления, состоящее из шести стадий. В условиях учебной олимпиадной среды обучающийся проходит все шесть указанных стадий (рис. 3).

Очень важным этапом инверсионного мышления, на наш взгляд, является формирование замысла задачи. На занятиях по решению творческих инженерных задач обучающиеся сами усматривают в реальном производстве и научных исследованиях проблемные ситуации, требующие творческого подхода к их решению, сами определяют цель исследования, основные структурные элементы изучаемого объекта и их взаимосвязи, ограничения, накладываемые внешней средой на возможные решения, сами формулируют задачу и информируют о ней других членов коллектива.

Эффективное нахождение решения поставленной задачи возможно при сформированном умении мыслить по ходу решения возникшей задачи, что, с одной стороны, заключается в умении воспроизвести и сохранить имеющуюся систему знаний и действий, которая предписывается этими знаниями, с другой, быть способными преобразовать и построить принципиально новую систему, зависящую, прежде всего, от постепенно раскрывающихся и преобразующихся вопросов и целей задачи.



Замысел задачи	<i>Усмотрение задачи</i>	
	<i>Выявление задачи</i>	<i>Уровень частносистемных ассоциаций.</i>
		<i>Уровень внутри системных ассоциаций.</i>
		<i>Уровень межсистемных ассоциаций.</i>
	<i>Постановка задачи</i>	<i>Уровень инверсионного сочленения.</i>
		<i>Уровень инверсионного совмещения.</i>
		<i>Уровень инверсионного замещения.</i>
		<i>Уровень инверсионного обращения.</i>
	<i>Условно-схематическое решение задачи</i>	
	<i>Реальное решение задачи</i>	
<i>Критический анализ найденного решения</i>		

Рис. 3. Процесс инверсионного мышления

Представляется целесообразным выделить следующие этапы методической модели решения творческой задачи:

1. Погружение в информационное поле предполагаемой задачи через постановку проблемы, восприятие условий и описание проблемы.

2. Разработка информационно-логической модели задачи через установление взаимосвязи между исходными данными, выявление основных законов и границ их применения при решении данной задачи.

3. Проверка адекватности разработанной модели условиям постановки задачи.

4. Разработка алгоритмической структуры задачи, определение ее оптимальности.

5. Разработка технологии реализации алгоритмической структуры задачи, проведение анализа адекватности технологии предложенным средствам реализации.

6. Проведение анализа полученных результатов с позиции корректности постановки проблемы, адекватности разработанной информационно-логической модели постановке проблемы, оптимальности алгоритмической структуры и эффективности технологии реализации.

Анализируя опыт участия студентов в предметных олимпиадах (на примере олимпиад по теоретической механике), мы выделили основные факторы, препятствующие успешному нахождению решения задачи:

а) на этапе погружения в информационное поле некоторые значащие элементы информации остаются невостребованными, недостаток или избыток данных вызывает психологический дискомфорт;

б) на этапе разработки информационно-логической модели взаимосвязь между основными структурными элементами устанавливается без учета основных закономерностей протекания процесса, что не позволяет говорить об адекватности модели поставленной проблеме;

в) практически всегда отсутствует проверка промежуточных этапов решения и конечного результата на адекватность, что является, на наш взгляд, недопустимым для специалиста, претендующего на конкурентоспособность.

Интересно проследить творческий процесс решения олимпиадных задач изнутри. Вот как его описывает победитель Всесоюзной олимпиады по теоретической механике 1985 г., профессор А.Э. Пушкарев:

«Начался конкурс. Десять задач. Как решать?! Может, так: сначала одну: продумать, найти решение, оформить, потом вторую... Стоп, время кончилось. Нет, это непродуктивно. Может, использовать метод, давно известный творческим работникам, – трудную научную проблему, рукопись отложить на некоторое время, и решение, или слова придут (иногда во сне). То есть использовать свое подсознание – ведь известно, что оно работает еще лучше сознания, особенно при решении нетривиальных задач. Но как его запустить, заставить работать? Олимпиада – интересная модель работы подсознания. Здесь помогает такая тактика. Быстро просмотреть все задачи, набросать рисунки к каждой, попробовать подобрать подходы к решению (примерно полчаса). Часто в восьмидесяти процентах задач – полный туман, не видно, как решать, где здесь руководящая идея. Если задача простая и решение сразу видно, то лучше ее отложить, только оценить время, необходимое на оформление (примерно, час, поэтому за час до срока надо записать все решенные задачи – иначе не успеть – и эта ситуация дисциплинирует, давая навык оценки времени (все не успеть), и подтверждает общий принцип – чем-то жертвовать, чтобы спасти целое). И только теперь стоит начать решать самую сложную задачу – конечно, решение не находится. Дойти до точки, где не видно пути, – и взять другую задачу. Тут необходимо рассчитать силы, и, как ни жалко, расстаться с теми задачами, решение которых вообще не просматривается – в крайнем случае, останется время в конце – досмотреть их. Время ограничено, его нельзя тратить зря – тебя сюда прислали не удовлетворять свое любопытство, а отстаивать честь своей родины, причем никто тебе об этом не говорил – знаешь сам. Так пройдет примерно два часа. Все, тупик. Пора переключиться и оформить решение простеньких задач – на них не надо тратить умственной энергии, это обязательная программа. А подсознание уже запущено и в это время кипит, работает. Через два с половиной–три часа в нескольких задачах вдруг появляются идеи, становится прозрачным путь к решению. Ставим проблему: так развить подсознание, чтобы оно успевало выявлять решение не позднее трех часов после начала обдумывания (кому они будут нужны на следующий день).

Через четыре часа после начала олимпиады может наступить усталость, и такая, что не хватит сил записать уже решенные задачи. Поэтому к началу четвертого часа стоит перейти к оформлению – может, больше ничего сегодня в голове и не появится».

2. МЕХАНИКА – ОСНОВА ПОДГОТОВКИ К ИННОВАЦИОННОЙ ДЕЯТЕЛЬНОСТИ НА ПРЕДПРИЯТИЯХ МАШИНОСТРОЕНИЯ

Творческие задачи встречаются во всех областях знаний. Объекты в теоретической механике являются математической моделью реальных механизмов. Для разработки наиболее оптимальной конструкции машины необходимо исследовать движение всех ее звеньев и выявить основные силовые факторы, определяющие это движение.

Проведение олимпиад по теоретической механике в вузах СССР началось еще в середине 70-х гг. XX в. Сначала они проводились только в вузах на уровне академических групп и затем вузовский тур.

Придавая огромное значение роли олимпиад по теоретической механике в повышении качества подготовки будущих специалистов, в более полном развитии способностей и дарований студенческой молодежи, в привитии им навыков самостоятельной работы и умения принимать правильные решения в экстремальных условиях, в 1981 г. Минвузом СССР и Секретариатом ЦК ВЛКСМ было принято решение о проведении Всесоюзного тура олимпиады под эгидой «Студент и научно-технический прогресс». С этого момента проведение олимпиад приняло более организованный характер. поэтапное проведение I – Вузовского, II – Республиканского и III – Всесоюзного туров сделали предметную олимпиаду по теоретической механике массовым соревнованием студентов.

Базовым вузом по проведению III – Всесоюзного тура был определен Ижевский механический институт на пять лет (1981 – 1985 гг.). Победителями этих олимпиад в 1982 – 1985 гг. были следующие студенты: Д.В. Файнгауз (Ленинградский политехнический институт), М.Б. Демидов (МВТУ), А.И. Иващенко (МАИ), А.Э. Пушкарев (Ижевский механический институт).

В марте 1986 г. аналогичным постановлением на следующие пять лет (1986 – 1990 гг.) базовым вузом по проведению III – Всесоюзного тура был утвержден Белорусский политехнический институт. На III тур практически всегда и в полном составе приезжали представители всех 15 союзных республик и Москвы и Ленинграда.

За пять лет в олимпиаде приняли участие 251 студент из 70 вузов страны. Среди участников – 16 студенток, 7 иностранных студентов. Лучшие достижения – у студентов Москвы, Ленинграда и РСФСР. Призерами олимпиады стали шесть студентов Ленинграда, четыре – Москвы, четыре – РСФСР и один – БССР. Победителями олимпиад в 1986 – 1990 гг. были А. Попов (ТИХМ, г. Тамбов), С. Баранов (ЧПИ, г. Челябинск), С. Шубин (МСИИ, Москва), В. Синильщиков (ЛМИ, Ленинград), А. Тялин (ТИХМ, г. Тамбов).

Вузы, студенты которых неоднократно занимали 1 – 10 места в конкурсе: ЛГТУ (Ленинград) – пять раз, ТТУ (г. Таллин) – четыре раза, МГТУ, МСИИ, МАИ (Москва), БПИ (г. Минск) – три раза. Замечательного успеха добился ТИХМ, студенты которого – победители олимпиады 1986 и 1990 гг. Дважды входили в десятку сильнейших студенты МИНИГ (Москва) и ЛИТМО (Ленинград), КПИ (г. Кишинев), Н-НПИ (г. Н. Новгород).

Программа олимпиады не ограничивалась конкурсом. Начиная с 1987 г., ежегодно проводились научно-технические конференции участников олимпиады. Тематика докладов разнообразна. Это, в первую очередь, прикладные задачи (изучение движения центрифуги, манипулятора, шасси самолета и т.п.).

Всероссийские олимпиады проводятся с 1982 г. В 1982, 1983, 1986 – 1990 гг. они проводились в Омском политехническом институте, в 1984 и 1985 гг. – в Алтайском политехническом институте. Наивысших результатов здесь добились студенты А.Ф. Валлер (Астраханский технологический институт рыбной промышленности), Е.Б. Кивенко (Томский политехнический институт), С.Р. Ашихмин (Казанский авиационный институт), В.М. Серов (Куйбышевский авиационный институт), А.И. Попов (Тамбовский институт химического машиностроения), С.В. Баранов (Челябинский политехнический институт), Р.Е. Гильманов (Казанский авиационный институт), А.И. Кудашов (Горьковский политехнический институт), А.В. Морозов (Ижевский механический институт).

После первых двух пятилетних циклов в 1991 г. проведение Всесоюзной олимпиады по теоретической механике было поручено Пермскому политехническому институту (с 1992 г. – Пермский государственный технический университет). В 1991 г. было принято решение совместить Всероссийскую олимпиаду с Всесоюзной.

На приглашение откликнулись и прибыли на олимпиаду команды шести союзных республик – Азербайджана, Белоруссии, Таджикистана, Туркмении, Узбекистана и Украины. Из России в олимпиаде приняли участие команда Москвы, команды восьми регионов (Центрального, Центрально-Черноземного, Волго-Вятского, Северо-Кавказского, Поволжского, Уральского, Западно-Сибирского и Восточно-Сибирского), а также команда хозяев олимпиады – Пермского политехнического института.

Всего в олимпиаде 1991 г. участвовали 44 студента из 23 городов и 26 вузов. Первые четыре места заняли украинские и белорусские студенты: Геннадий Степанов (г. Донецк), Виталий Кравец (г. Запорожье), Игорь Герасимович (г. Могилев) и Эдуард Цвирко (г. Минск).

Основным новшеством в программе олимпиады стало проведение командного компьютерного конкурса, где студентам предлагалось с помощью ЭВМ решить задачу по теоретической механике, не имеющую аналитического решения.

В 1992 г. олимпиада проводилась уже в ранге Межреспубликанской. В связи с усилением экономического кризиса она собрала рекордно малое число участников – всего 21 студент из 15 вузов. В олимпиаде приняли участие команды трех республик (Азербайджана, Беларуси, Украины), четырех регионов России (Центрально-Черноземного, Волго-Вятского, Поволжского, Уральского) и команда ПГТУ. Победителем в теоретическом и компьютерном конкурсах опять стала команда Украины.

Начиная с 1993 г., олимпиада стала проводиться как Всероссийская, но все же традиция участия бывших республик СССР сохранилась. На этот раз кроме россиян, приехали только две команды – Белоруссии и Узбекистана. Число участников возросло – 42 студента из 22 вузов. Победителями теоретического конкурса стали Олег Гусев (г. Ярославль), Константин Вешняков (г. Нижний Новгород) и Наиль Мубинов (г. Пермь).

С 1994 г. в олимпиаде стали участвовать не только студенты технических вузов, но и студенты-механики Уральского государственного университета. Число участников продолжало расти, и в 1995 г. достигло 50 человек. Победителями теоретического конкурса в 1994 г. стали Марат Сабирзянов (г. Ижевск), Алексей Монастыренко и Иван Мороз (Санкт-Петербург), в 1995 г. – Алексей Гун (г. Челябинск), Александр Пределин (г. Екатеринбург) и Валерий Вуколов (г. Самара). В компьютерном конкурсе в 1994 г. победу одержала команда г. Ижевска, а в 1995 г. – команда Санкт-Петербурга.

Из «иноземных» участников с 1994 г. остались только представители Республики Беларусь, которые и поныне приезжают не только на Всероссийские, но и на Уральские региональные олимпиады. А начиная с 2001 г., и российские студенты стали приезжать в г. Минск на олимпиаду Беларуси.

В 1996 – 2003 гг. олимпиады проводились Уральским государственным университетом, а с 2004 г. – Казанским государственным университетом имени В.И. Ульянова-Ленина.

Конкурсное задание разрабатывается рабочей группой базового вуза. Следуя традиции, установленной Ижевским механическим институтом, на конкурс выносятся восемь задач: две – по статике, две – по кинематике, четыре – по динамике. В зависимости от сложности задачи, оценивались баллами от 3 до 10. Предполагается, что с наиболее простыми задачами могут справиться все студенты.

Отбор задач, подготовленных рабочей группой в избыточном числе, проводился на заседании жюри, с участием руководителей делегаций в день конкурса.

При самостоятельном решении творческих задач по механике обучающиеся должны внимательно изучить следующие разделы механики по рекомендуемым методическим источникам.

1. Основные понятия статики. Модели материальных тел. Сила, момент силы. Системы сил и их преобразования.
2. Равновесие тела под действием системы сил.
3. Равновесие системы тел.
4. Трение. Трение покоя и трение скольжения. Момент трения качения.
5. Аналитическая статика. Принцип возможных перемещений.

3. ЗАДАНИЯ ДЛЯ САМОСТОЯТЕЛЬНОЙ РАБОТЫ ПО СТАТИКЕ

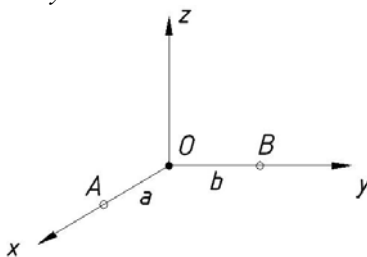
3.1. ОСНОВНЫЕ ТЕОРЕМЫ СТАТИКИ

1. (СССР, 1986, 4 балла)

К твердому телу приложены две пары сил с моментами m_1 и m_2 , расположенными в плоскостях $A_1x + B_1y + C_1z + D_1 = 0$ и $A_2x + B_2y + C_2z + D_2 = 0$, соответственно. Определить проекции \bar{m} момента результирующей пары на координатные оси.

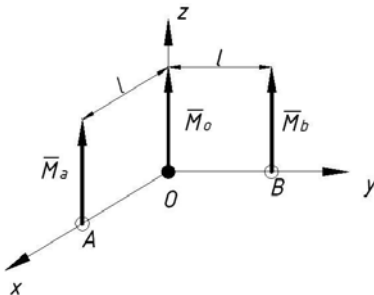
2. (СССР, 1987, 7 баллов)

Главные моменты некоторой системы сил относительно центров O , A и B одинаковы по величине $M_O = M_A = M_B = m$. Главный вектор этой системы сил по величине равен V и параллелен оси z ; $OA = a$, $OB = b$. Определить углы, составляемые главными моментами M_O , M_A , M_B с плоскостью xOy .



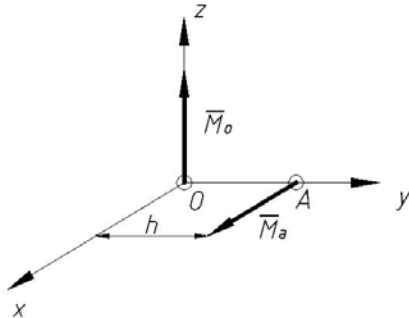
3. (БССР, 1986, 3 балла)

Главные моменты системы сил относительно центров O , A , B направлены, как указано на чертеже, и равны по величине: $M_O = M$, $M_A = 4M$, $M_B = 5M$. Докажите, что система сил приводится к равнодействующей, определите модуль равнодействующей.



4. (БССР, 1987)

Главные моменты системы сил относительно центров O и A равны M_O и M_A и направлены, как указано на чертеже. Докажите, что система сил не имеет равнодействующей. Определите проекцию главного вектора системы на плоскость XOZ .

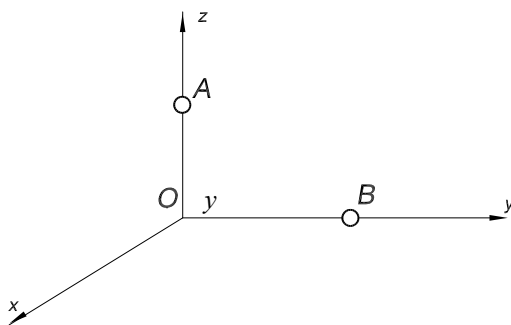


5. (БССР, 1983)

Сформулировать в аналитической форме условие, при котором две силы $P_1 (P_{1x}, P_{1y}, P_{1z})$ и $P_2 (P_{2x}, P_{2y}, P_{2z})$, приложенные соответственно в точках $A_1 (a_1, b_1, c_1)$, $A_2 (a_2, b_2, c_2)$, лежат в одной плоскости.

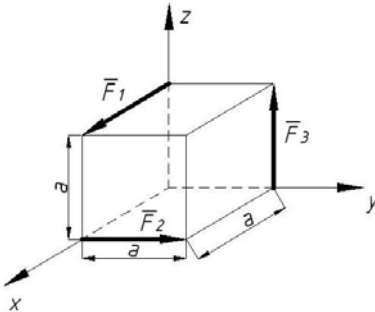
6. (БССР, 1985)

M_O, M_A и M_B – главные моменты пространственной системы сил относительно центров O, A, B соответственно; $M_O = 3Fhk$; $M_A = 3Fhk$; $M_B = 5Fh$; $OA = OB = h$. Определить модуль главного вектора этой системы сил.



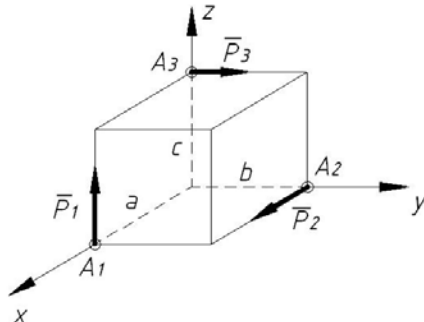
7. (Л., 1984, 3 балла)

Какую наименьшую по величине и параллельную оси Ox силу Q надо приложить к кубу, чтобы система четырех сил F_1, F_2, F_3, Q имела равнодействующую? Считать $F_1 = F_2 = F_3 = F$.



8. (Л., 1983)

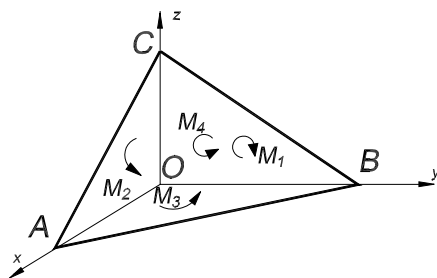
На тело действуют три силы: $\vec{P}_1 = P\vec{k}$, $\vec{P}_2 = P\vec{i}$, $\vec{P}_3 = P\vec{j}$, приложенные в точках $A_1(a, 0, 0)$, $A_2(0, b, 0)$, $A_3(0, 0, c)$, соответственно. Какой должна быть зависимость между a, b и c , чтобы система сил приводилась к равнодействующей?



9. (Белорус. политех. ин-т, 1982)

К тетраэдру $OABC$ приложены пары сил с моментами M_1, M_2, M_3, M_4 , расположенные в плоскостях YOZ, ZOx, XOY и ABC , соответственно. Определить момент результирующей пары сил, если $M_1 = 4 \text{ Н} \cdot \text{м}$; $M_2 = 3 \text{ Н} \cdot \text{м}$; $M_3 = 1 \text{ Н} \cdot \text{м}$; $M_4 =$

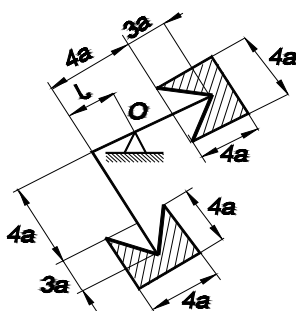
$3 H \cdot m; OA = OB = OC.$



3.2. РАВНОВЕСИЕ ПЛОСКОЙ СИСТЕМЫ СИЛ

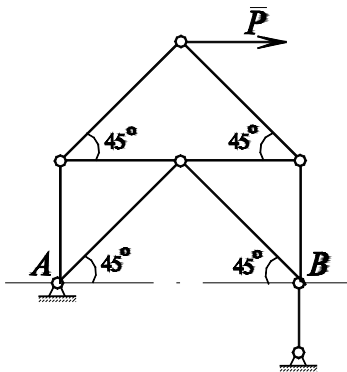
1. (СССР, 1984, 4 балла)

Жесткая конструкция, состоящая из двух одинаковых тяжелых однородных пластин, соединенных тонким, изогнутым под прямым углом, стержнем пренебрежимо малого веса, удерживается в равновесии на опоре O . Считая коэффициент трения стержня об опору равным f , найти максимальное значение l , при котором тело будет удерживаться на опоре в равновесии. Размеры и форма пластин показаны на рисунке.



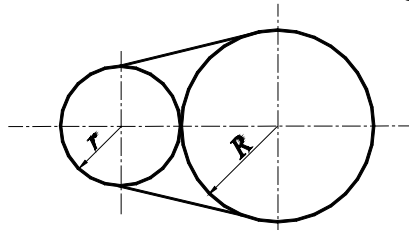
2. (СССР, 1986, 3 балла)

Определить усилие S в стержне AB плоской фермы, закрепленной и нагруженной, как указано на рисунке.



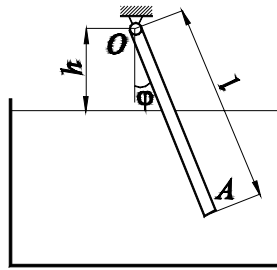
3. (СССР, 1987, 4 балла)

Два диска радиусами R и r , расположенные на горизонтальной плоскости, стянуты упругой нитью жесткостью c . Диски давят друг на друга с силами, равными Q . Как изменится длина нити, если ее перерезать? Трение отсутствует.



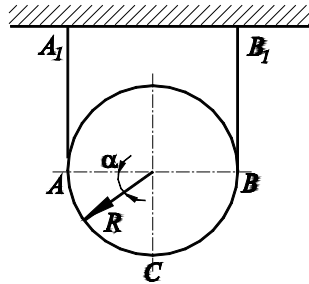
4. (СССР, 1988, 10 баллов)

Тонкий однородный стержень OA длины l концом O закреплен шарнирно на высоте h над горизонтальной поверхностью жидкости, в которую опущен второй его конец. Плотность жидкости равна ρ , плотность стержня $k\rho$ (k и ρ – постоянные). Определить значения угла φ при равновесии стержня. Исследовать устойчивость положений равновесия.



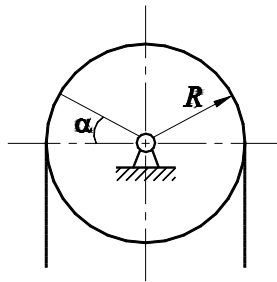
5. (СССР, 1988, 4 балла)

Однородный диск весом P и радиусом R удерживается в равновесии с помощью невесомой нити, концы которой прикреплены к потолку. Найти натяжение нити и давление на единицу длины нити как функцию угла α на участке ACB . Ветви нерастяжимой нити AA_1 и BB_1 вертикальны, трение не учитывать.



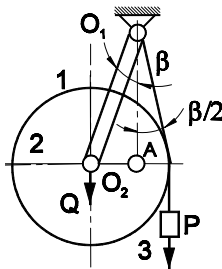
6. (РСФСР, 1985, 3 балла)

Однородная цепь веса P и длины $2\pi R$ перекинута через гладкий блок, имеющий горизонтальную ось. Определить в случае равновесия силу натяжения цепи T_α в ее произвольном поперечном сечении.



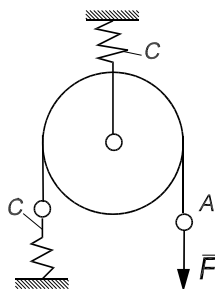
7. (РСФСР, 1989, 3 балла)

Цилиндр 2 веса Q и радиуса r соединен шарнирным невесомым стержнем O_1O_2 длиной $2r$ с опорой O_1 ; к оси O_1 прикреплен на нити груз 3. Система находится в равновесии; при этом вертикальная прямая O_1A делит угол β пополам. Определить вес P груза 3.



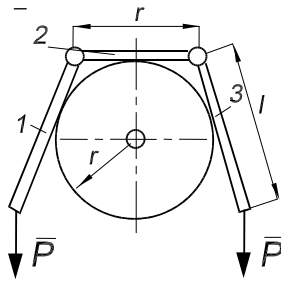
8. (Арм. ССР, 1987)

На сколько переместится конец перекинутой через подвижный блок нити (точка A), если к нему приложить силу F ? Жесткость пружины c .



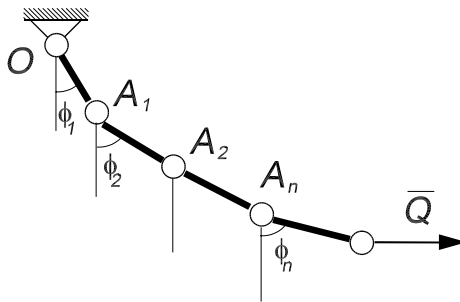
9. (БССР, 1983, 3 балла)

Три невесомых стержня, расположенных в вертикальной плоскости, опираются на цилиндр радиуса r . Средний стержень длиной r – горизонтален, боковые стержни имеют одинаковую длину l . Определить давление среднего стержня на цилиндр в зависимости от длины l боковых стержней, если к их концам приложены одинаковые силы P , направленные вертикально вниз.



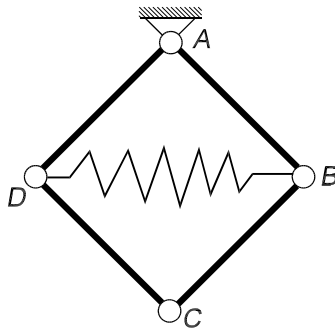
10. (БССР, 1982)

Цепь, состоящая из n одинаковых стержней, подвешена в вертикальной плоскости. P – вес одного стержня; Q – заданная горизонтальная сила; O, A_1, A_2, \dots, A_n – шарниры. Найти углы ϕ_k ($k = 1, 2, \dots, n$) стержней с вертикалью в положении равновесия.



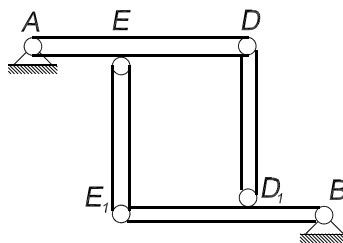
11. (БССР, 1984)

Конструкция, изображенная на рисунке, состоит из четырех одинаковых стержней массы M и длины l каждый, соединенных шарнирами и расположенных в вертикальной плоскости. Шарниры D и B соединены пружиной. В состоянии равновесия стержни образуют квадрат. Определить жесткость c пружины, если в ненапряженном состоянии она имеет длину $2l\sqrt{2}$.



12. (Лит. ССР, 1988)

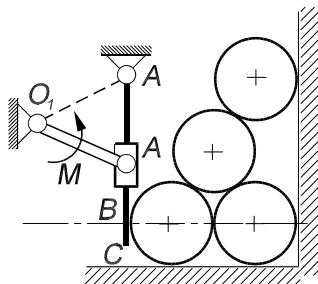
Конструкция состоит из двух балок AD и BE_1 одинаковой длины, соединенных между собой посредством двух шарнирных стержней EE_1 и DD_1 . Масса балки BE_1 в два раза больше массы балки AD , расстояние $ED = E_1D_1 = 1/3 E_1B$. Определить усилия в стержнях и реакции опор A и B при равновесии системы.



13. (Молд. ССР, 1983, 3 балла)

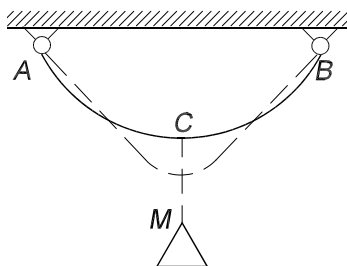
Вертикальная плита OC удерживает в равновесии четыре одинаковые, горизонтально лежащие трубы весом P каждая. Найти минимальную величину момента M , приложенного к рычагу O_1A длиной r при условии, что

$$\angle AO_1O = \pi/2, \angle AOO_1 = \pi/6, OB = 2\sqrt{3}r.$$



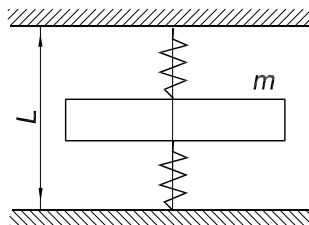
14. (УССР, 1985, 3 балла)

Тяжелая гибкая нить ACB , закрепленная в точках A и B , как показано на рисунке, находится в равновесии. В некоторый момент времени к нити в точке C подвешивают груз M , переводящий нить в новое положение равновесия, обозначенное на рисунке пунктиром. Куда переместится при этом центр тяжести нити?



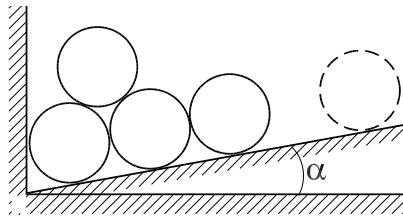
15. (УССР, 1986, 3 балла)

Тонкая пластинка массы m зажата между двумя вертикальными пружинами. Длина каждой пружины в свободном состоянии равна l . Под действием силы P верхняя пружина сжимается на Δ_1 , нижняя – на Δ_2 . Определить положение пластинки при равновесии.



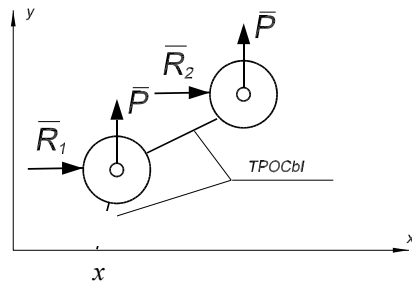
16. (УССР, 1986, 3 балла)

При каком минимальном количестве одинаковых труб нижнего ряда система не раскатится, если не учитывать трение? Угол $\alpha = 2^\circ$.



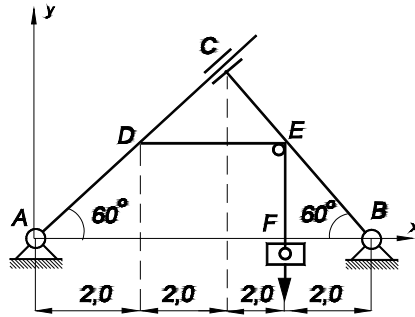
17. (Л., 1986, 3 балла)

Написать зависимости, определяющие положение равновесия системы двух одинаковых воздушных шаров, показанной на рисунке. P – подъемная сила каждого шара, R_1 и R_2 – силы давления ветра на шары, зависящие от высоты y_i : $R_i = R_0 + k_0 y_i$, где R_0 и k_0 – постоянные. Расстояния от точки x_0 до центра первого шара и между центрами шаров равны l_0 . Весами тросов и силами давления ветра на них пренебречь.



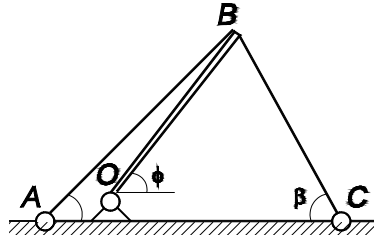
18. (Л., 1986, 3 балла)

Для конструкции, показанной на рисунке, определить реакции опор A и B и усилия взаимодействия во втулке, допускающей относительно скольжение без трения вдоль AC . $P = 12,0$ кН. Стержни AC и BC , а также блок E и нить DEF считать невесомыми. Размеры блоков не учитывать.



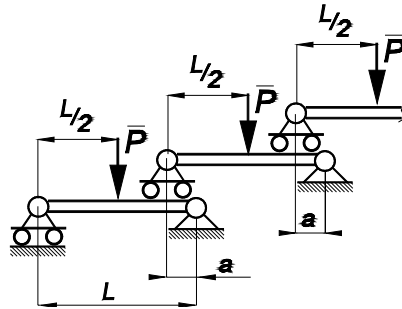
19. (Л., 1987)

Однородный тяжелый стержень OB шарнирно закреплен в точке O и удерживается в равновесии в вертикальной плоскости невесомым тросом ABC . Считая угол ϕ известным, найти условие, которому должны удовлетворять углы α и β , если трение между тросом и стержнем в точке B отсутствует.



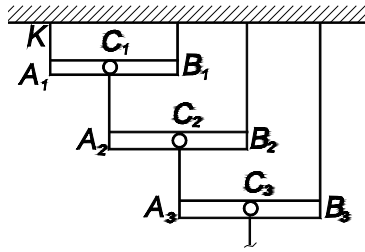
20. (Л., 1982)

В системе, состоящей из n балок, каждая из последующих опирается левым концом на предыдущую балку, а правым — на шарнирно-неподвижную опору. К каждой балке приложена сила P в середине пролета l . Определить реакцию опоры A .



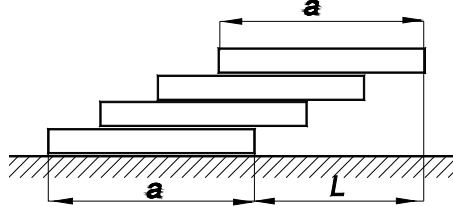
21. (Л., 1982)

Система состоит из n одинаковых горизонтальных стержней весом P каждый, укрепленных при помощи тросов. Найти натяжение троса A_1K , если $C_1B_1/A_1B_1 = C_2B_2/A_2B_2 = \dots = C_nB_n/A_nB_n = 1/4$.



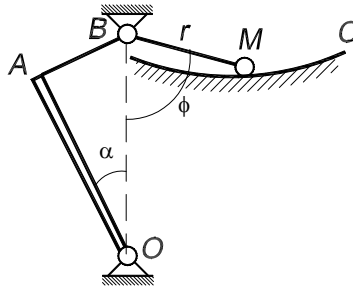
22. (Л., 1984)

Гладкие однородные бруски одинакового веса и длины уложены один на другой так, как показано на рисунке. Найти такую максимальную длину L (как функцию от числа n брусков), чтобы система n брусков оставалась в состоянии покоя.



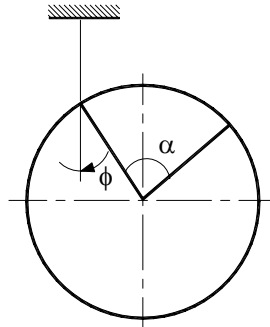
23. (М., 1977)

Плоская система состоит из однородного стержня OA длиной a и весом Q и груза M весом P , соединенных нитью ABM длиной l , перекинутый через блок B . Найти уравнение кривой BMC в координатах r и φ ($r = BM$), чтобы при любом угле $\alpha < \pi/2$ система находилась в равновесии; $OA = OB$; $l = a\sqrt{2}$. Трением пренебречь.



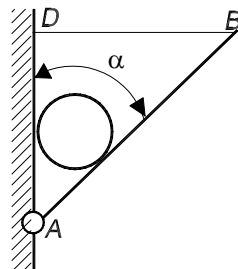
24. (Зап.-Сиб. зона, Новосибирск. ин-т ж/д трансп., 1990)

Из круга вырезали сектор с центральным углом α , а из окружности – дугу с таким же центральным углом. Получившиеся тела подвесили на нитях, как указано для первого тела на рисунке. Определить углы φ и φ_1 , образуемые радиусами элементов круга и окружности с вертикалью при равновесии тел.



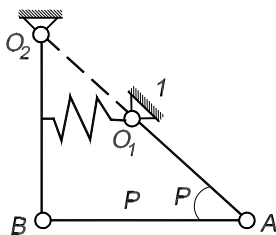
25. (Брянск, 1986)

Круглое бревно весом $2Q$ и радиусом r касается вертикальной стены и удерживается в горизонтальном положении двумя одинаковыми балками AB длиной l и горизонтальными тросами BD . При каком угле α натяжение тросов будет наименьшим? Найти также наименьшее натяжение тросов. Весом балок и трением пренебречь; в точке A – шарнир.



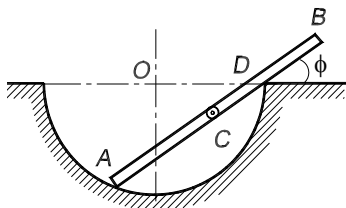
26. (Свердловск, 1985)

В стержневой системе, расположенной в вертикальной плоскости, $AO_1 = O_1O_2$, стержни 1 и 2 однородны и имеют веса P_1 и P_2 , соответственно. Определить силу натяжения пружины, если в положении равновесия системы, изображенном на рисунке, угол $O_1AB = \alpha$, $ABO_2 = 90^\circ$, точки A , O_1 и O_2 лежат на одной прямой.



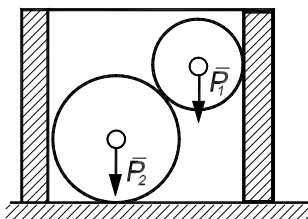
27. (Брянск. ин-т трансп. машиностр., 1987)

Однородный стержень AB длины $2l$ опирается на полуокружность радиуса R . Определить, пренебрегая трением, угол φ в положении равновесия стержня.



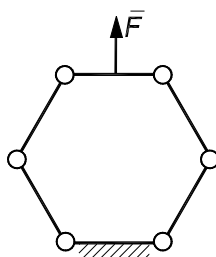
28. (МИИТ, 1979)

На горизонтальной гладкой поверхности стоит прямой полый цилиндр радиуса a . Внутри цилиндра находятся два шара весами P_1 и P_2 и радиусами r_1 и r_2 , соответственно. Нижний шар лежит на горизонтальной плоскости. Определить наименьший вес цилиндра, при котором шары его не опрокинут. Толщиной стенок цилиндра и трением пренебречь.



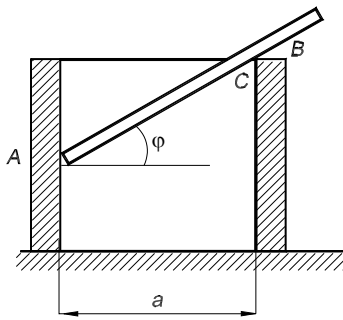
29. (МИИТ, 1981)

Шесть одинаковых однородных стержней веса P , связанных шарнирно своими концами, образуют правильный шестиугольник, расположенный в вертикальной плоскости. Нижний стержень закреплен в горизонтальном положении. Какую направленную вертикально вверх силу нужно приложить к середине верхнего горизонтального стержня, чтобы система находилась в равновесии?



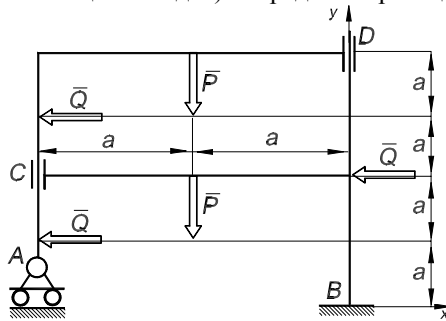
30. (МИИТ, 1980)

На горизонтальной плоскости стоит абсолютно гладкий цилиндр диаметра a и веса P . В него опускают однородную палочку AB длины $2l$ и веса Q , которая занимает положение равновесия под углом φ к горизонту. Найти угол φ и наименьший вес Q_0 палочки, при котором она в состоянии опрокинуть цилиндр, а также реакции в точках A и C в начальный момент опрокидывания. Указать соотношение между a и l , при котором возможно равновесие палочки. Толщиной стенок цилиндра пренебречь.



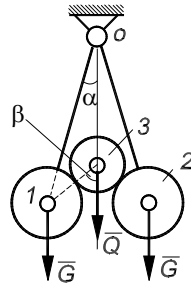
31. (МИИТ, 1978)

Конструкция состоит из двух частей, соединенных с помощью втулок C и D . Внутренние поверхности втулок гладкие. Стержни входят во втулки без зазора (скользящая посадка). Определить реакции опор конструкции в точках A и B .



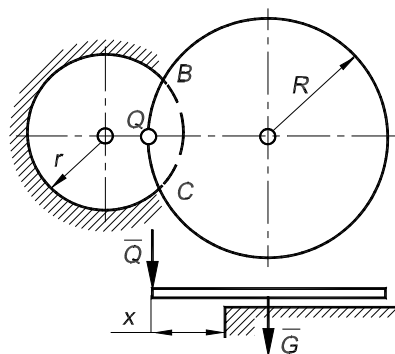
32. (Омск. политех. ин-т, 1982)

К концам двух невесомых стержней, подвешенных на шарнире O , прикреплены цилиндры 1 и 2 весом G каждый. Третий цилиндр весом Q опирается на два первые так, что вся система находится в равновесии. Найти зависимость между углами α и β .



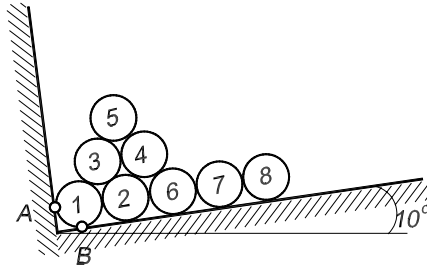
33. (Омск. политех. ин-т, 1983)

Над круглым отверстием в полу радиусом r положена тонкая круглая пластинка весом G и радиусом R ; к ее краю приложена сила Q так, что пластинка может поворачиваться около прямой BC . При каком расстоянии x сила Q будет минимальной?



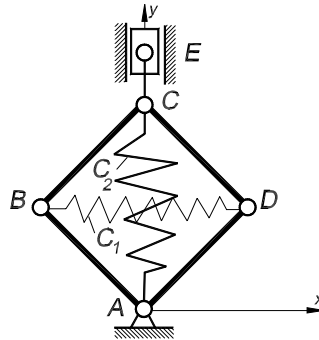
34. (Гамбовск. ин-т хим. машиностр., 1983)

Раскатится ли система восьми одинаковых цилиндрических труб? Трение не учитывать. Определить реакции опор, действующие на трубу с номером 1.



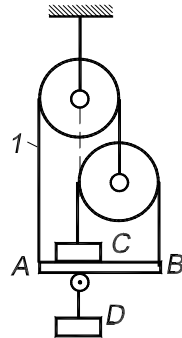
35. (Тамбовск. ин-т хим. машиностр., 1988)

Четыре однородных стержня массой m и длиной l каждый с помощью шарниров образуют квадрат $ABCD$, противоположные вершины которого соединены пружинами жесткостью c_1 и c_2 ; длины пружин в недеформированном состоянии одинаковы. К вершине C квадрата с помощью невесомого стержня CE прикреплен ползун массой M , который может скользить в вертикальных направляющих. Пренебрегая трением, найти деформации пружин при равновесии.



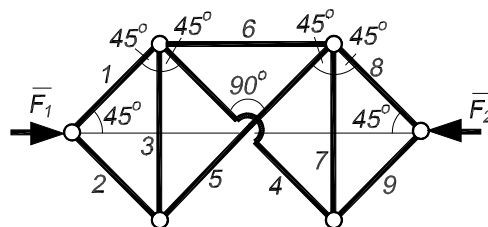
36. (Тамбовск. ин-т хим. машиностр., 1988)

Два груза C и D веса P каждый с помощью невесомых блоков одинакового радиуса, веревок и балки AB приведены в состояние равновесия, причем балка горизонтальна. Определить усилие в ветви l веревки, если все ветви вертикальны, а ось блока с неподвижным центром и точка подвеса груза D лежат на одной вертикали.



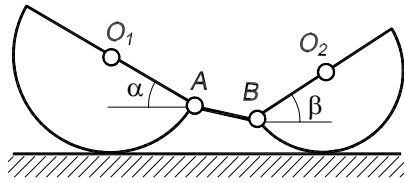
37. (Тамбовск. ин-т хим. машиностр., 1989)

Определить усилие в стержне b стержневой конструкции, нагруженной одинаковыми по модулю силами F_1 и F_2 , которые направлены по одной прямой.



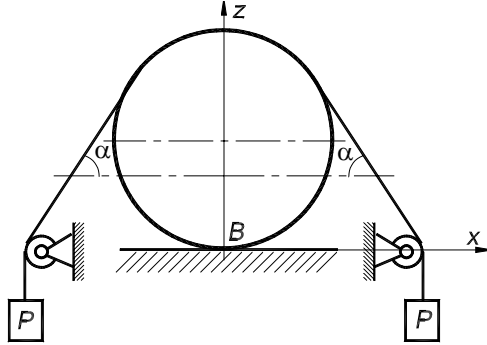
38. (Тамбовск. ин-т хим. машиностр., 1989)

Два однородных полудиска O_1A и O_2B радиусов R и r соединены шарнирно однородным стержнем AB . Веса дисков – P , Q , вес стержня – p . Система расположена в вертикальной плоскости, полудиски опираются о горизонтальный гладкий пол. Определить углы α и β при равновесии системы.



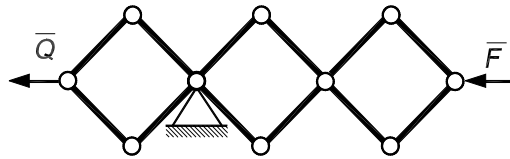
39. (Тамбовск. ин-т хим. машиностр., 1989)

На горизонтальной гладкой опоре расположен круглый цилиндр весом $2Q$ и радиусом r , разрезанный вертикальной плоскостью, проходящей через его ось. Чтобы части цилиндра не распались на середине его длины, на него накинута нить, несущая на концах грузы весом P каждый. Участки нити, непосредственно сходящие с цилиндра, образуют с горизонтом равные углы α . Определить наименьшую величину P , при которой части цилиндра будут в покое. Найти также силу взаимодействия частей цилиндра и реакцию опоры при минимальном весе грузов.



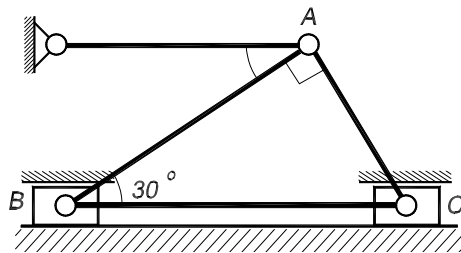
40. (Тамбовск. ин-т хим. машиностр., 1988)

Шарнирный трехкратный параллелограмм находится под действием горизонтальных сил F и Q . Сила F задана. Определить величину силы Q , которая обеспечивает равновесие параллелограмма.



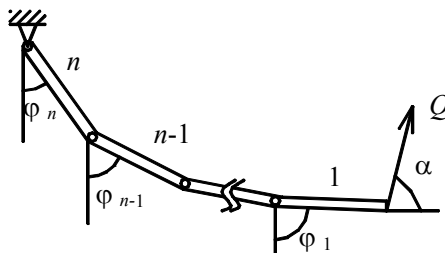
41. (Томск. политехн. ин-т, 1987)

Конструкция состоит из трех однородных стержней одинакового веса P , соединенных шарнирно в точке A , и невесомых ползунов B и C , связанных нерастяжимой нитью. Конструкция расположена в вертикальной плоскости. Трение в направляющих отсутствует. Углы между стержнями указаны на чертеже. Определить усилия в стержнях узла A .



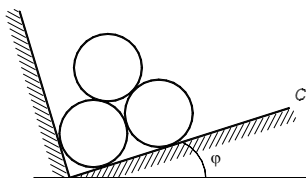
42. (Россия, 1996, 3 балла)*

Система, состоящая из n одинаковых однородных стержней веса P каждый, подвешена в вертикальной плоскости. Один конец этой системы шарнирно закреплен, а на второй действует сила Q , образующая угол α с горизонтом ($P > Q \sin \alpha$). Определить углы, которые образуют стержни с вертикалью в положении равновесия. Трением в шарнирах пренебречь.



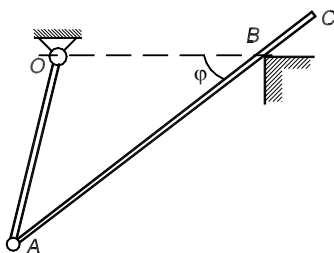
43. (Россия, 1997, 3 балла)

Три гладких однородных цилиндра опираются на две взаимно перпендикулярные плоскости AB и BC . Каков наименьший угол наклона φ плоскости BC , при котором система сохраняет равновесие?



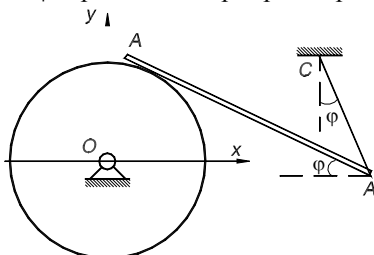
44. (Россия, 1998, 5 баллов)

Два однородных стержня: OA длиной l , весом P и AC длиной $2l$, весом $2P$, соединены шарниром A . Стержень OA укреплен шарнирно, а стержень AC опирается на острие B . Определить, при каком угле φ система находится в равновесии в вертикальной плоскости, если расстояние $OB = l$ (отрезок OB – горизонтальный).



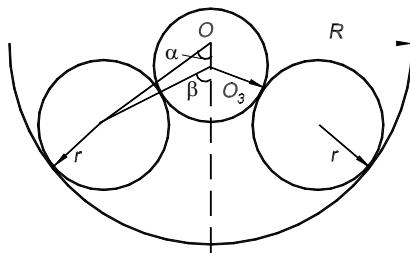
45. (Россия, 2000, 5 баллов)

Тонкий однородный стержень длиной $2r$ опирается на шероховатый диск радиуса r и удерживается в равновесии невесомой нитью длины r . Определить координаты точки C прикрепления нити, если угол наклона стержня с горизонталью равен φ и нить составляет с вертикалью также угол φ . Трением в шарнире O пренебречь.



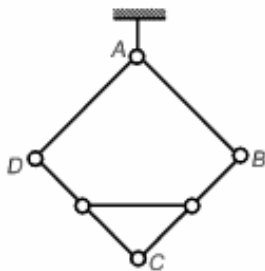
46. (Поволжье – Урал, Оренбург, 2001, 6 баллов)

Два однородных цилиндра массой m каждый положены на внутреннюю поверхность полого цилиндра. Они удерживают третий цилиндр массы M . Определить зависимость между углами α и β в положении равновесия. Проскальзывания нет.



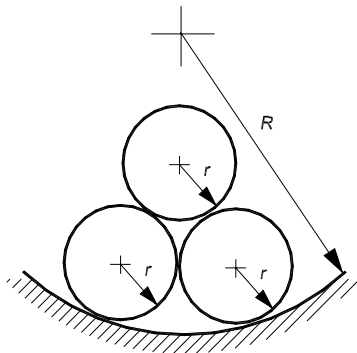
47. (Тамбов, ТИХМ, 1992, 4 балла)

Стороны ромба $ABCD$, подвешенного в точке A , сделаны из тяжелых однородных стержней, соединенных шарнирно. Середины сторон BC и CD соединены невесомым стержнем-распоркой, которая фиксирует ромб. Зная вес P ромба и длины его диагоналей $AC = a$ и $BD = b$, определить усилие в распорке.



48. (Тамбов, ТГТУ, 1996, 4 балла)

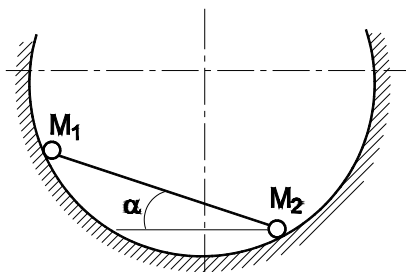
Три одинаковые трубы радиуса r находятся в равновесии в неподвижно закрепленной трубе радиуса R , располагаясь в два ряда. Все трубы малого радиуса касаются друг друга, при этом трубы нижнего ряда касаются также трубы большего радиуса. Найти наибольшее значение R , при котором равновесие системы еще возможно.



3.3. СИСТЕМА СХОДЯЩИХСЯ СИЛ

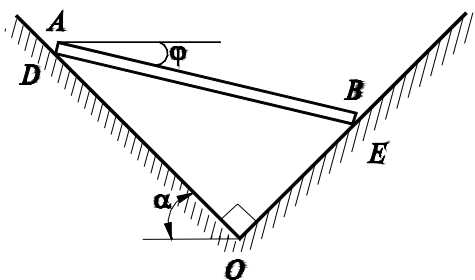
1. (СССР, 1986, 3 балла)

Две тяжелые точки M_1 и M_2 соединены между собой невесомым жестким стержнем, находящимся внутри гладкой сферы. Длина стержня и радиус сферы равны. Определить при равновесии угол α между стержнем и горизонтом, если масса точки M_2 в два раза больше массы точки M_1 .



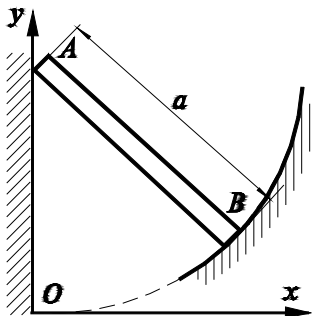
2. (СССР, 1990, 5 баллов)

Концы расположенного в вертикальной плоскости тяжелого однородного стержня могут скользить в прорезях взаимно перпендикулярных плоскостей OD и OE . Плоскость OD составляет с горизонтом угол α . Пренебрегая трением, определить значение угла φ при равновесии стержня. Будет ли положение равновесия стержня устойчивым?



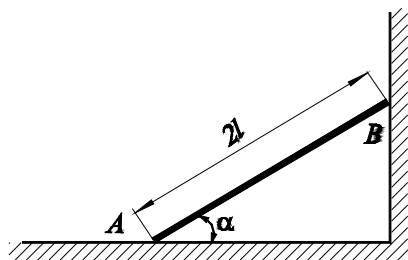
3. (РСФСР, 1982, 3 балла)

Однородный стержень длины a опирается одним концом A на гладкую вертикальную стенку, другим B – на гладкий профиль, расположенный в вертикальной плоскости. Какова должна быть форма профиля, чтобы стержень мог оставаться в покое в любом положении?



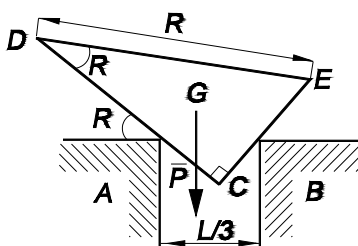
4. (РСФСР, 1987, 3 балла)

Однородный стержень AB весом G опирается на шероховатые горизонтальную и вертикальную плоскости. Угол α и коэффициент f трения таковы, что стержень не находится в равновесии. Определить величину и направление наименьшей силы P , которая должна быть приложена в центре тяжести стержня для того, чтобы стержень в данном положении был неподвижным.



5. (Аз. ССР, 1984, 3 балла)

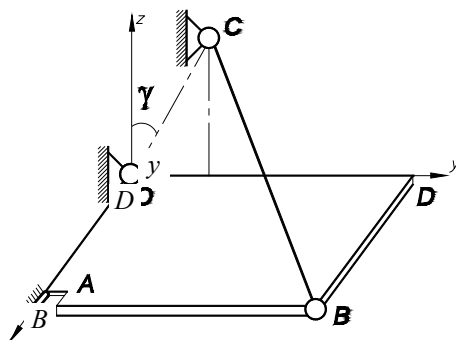
Гладкий однородный прямоугольный клин с указанными на рисунке размерами и веса P вложен прямым углом между краями двух столов одинаковой высоты, находящихся друг от друга на расстоянии $l/3$. Один из острых углов клина равен α . Найти положение равновесия клина и давление клина на опоры в точках A и B .



3.4. РАВНОВЕСИЕ ПРОСТРАНСТВЕННОЙ СИСТЕМЫ СИЛ

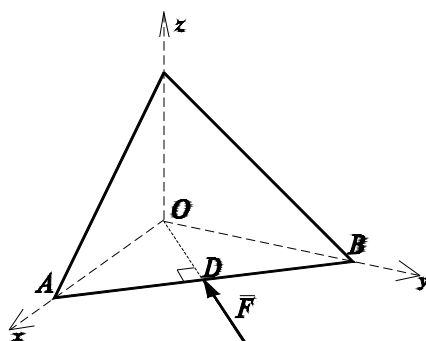
1. (СССР, 1983, 10 баллов)

Тяжелая тонкая однородная прямоугольная плита $OABD$ весом Q удерживается в горизонтальном положении сферическим шарниром O , цилиндрическим шарниром A и тонким тяжелым стержнем CB весом P . Стержень прикреплен сферическими шарнирами к плите в точке B и к вертикальной стене в точке C . Считая трение во всех шарнирах пренебрежимо малым и угол γ известным, найти составляющую реакции цилиндрического шарнира A , параллельную оси Oy .



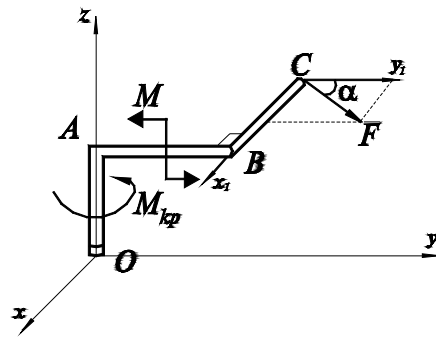
2. (СССР, 1988, 5 баллов)

Однородная равносторонняя пластинка веса P стороной $AB = l$ опирается на горизонтальный пол XOY , ее стороны AC и BC касаются стен XOZ и YOZ . Пренебрегая трением, определить силу \vec{F} (лежащую в плоскости XOY), удерживавшую пластинку в равновесии.



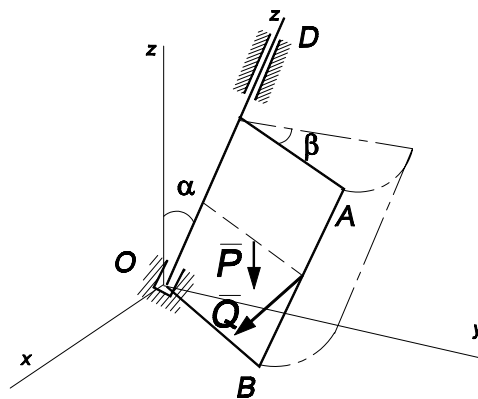
3. (СССР, 1989, 4 балла)

Конец O ломаного стержня $OABC$ жестко зашпелен. Стержень нагружен крутящим моментом $M_{кр}$, парой сил с моментом M , расположенной в плоскости YOZ , и силой F . Сила F расположена в плоскости X_1CY_1 ($X_1//X$, $Y_1//Y$) и составляет с осью Y_1 угол $\alpha = 60^\circ$. Определить модуль реактивного момента заделки, если $OA = a$, $AB = b$, $BC = c$. Проведите вычисления при $a = 1$ м, $b = 2$ м, $c = 0,5$ м, $F = 2$ Н, $M_{кр} = 0,5$ Н·м, $M = 1$ Н·м.



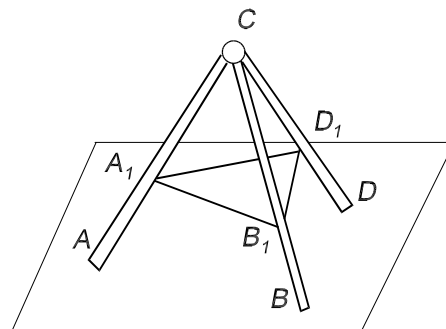
4. (Аз. ССР, 1984, 3 балла)

Дверь $OBAD$ может вращаться вокруг оси OZ при пренебрежимо малом трении в подшипниках O и D . Ось OZ образует с вертикалью угол α . Под действием только своего веса дверь остается в вертикальной плоскости zOz_1 . Найти положение равновесия двери, если к середине ребра AB приложена сила Q , перпендикулярная плоскости ее полотна. Считая дверь однородной прямоугольной пластиной с размерами $2a$ и $2b$ ($AD = 2a$, $OD = 2b$) и веса P , определить реакции опор O и D .



5. (БССР, 1984)

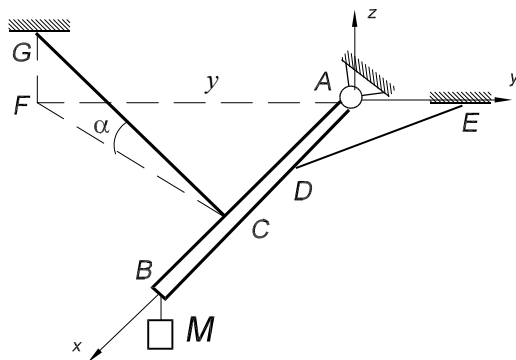
Стержни CA , CB и CD одинаковой длины соединены в точке C сферическим шарниром, концами A , B , D опираются на гладкую горизонтальную плоскость. Середины стержней A_1 , B_1 , D_1 связаны нитями, длины которых в два раза меньше длин стержней. Определить натяжение нитей, если стержни однородные и масса каждого равна M .



6. (Каз. ССР, 1985, 3 балла)

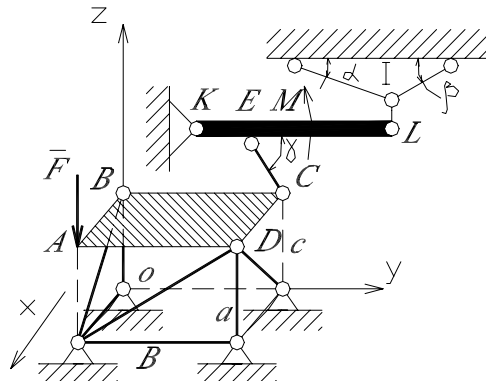
Однородная балка AB весом P и длиной $4a$ прикреплена к вертикальной стене сферическим шарниром A и удерживается перпендикулярно стене невесомыми растяжками DE и GC , причем DE лежит в горизонтальной плоскости, а GC составляет с этой плоскостью угол α .

К концу B балки подвешен груз M весом Q . Определить реакцию шарнира A и натяжение растяжек, если $AE = AD = DC = a$, $AF = 2a$.



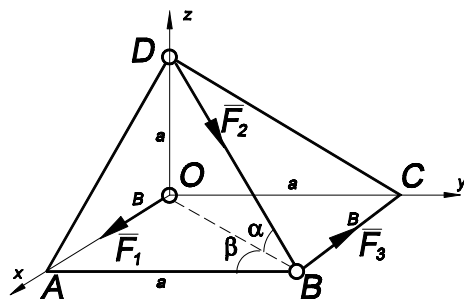
7. (Узб. ССР, 1986, 3 балла)

Однородная прямоугольная плита $ABCD$, вес которой P , удерживается в горизонтальном положении стержнями 5, 6, 7, 8, 9. Однородный стержень KL весом Q закреплен в плоскости OYZ стержнями 1, 2, 3, 4. Определить усилия в стержнях 1 и 2, считая все стержни невесомыми, если $P = 8$ кН; $Q = 6$ кН; $P = 4$ кН, $M = 3$ кН·м, $a = b = c = 2$ м; $KL = 5$ м; $KE = 2$ м; $\alpha = \beta = \gamma = 45^\circ$; $KL \parallel OY$.



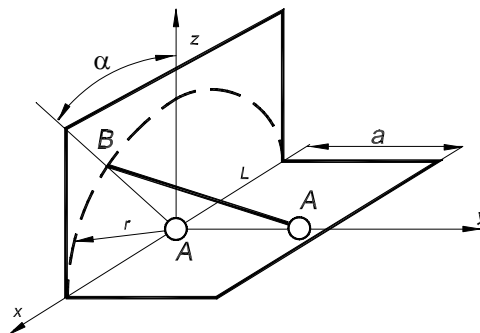
8. (Л, 1983)

Система состоит из трех сил: F_1, F_2, F_3 , приложенных к вершинам O, B, D пирамиды. При каком значении $OA = BC = b$ угол между главным вектором и главным моментом данной системы будет равен 120° ? $F_1 = F_2 = F_3 = P$, $AB = OC = OD = a$.



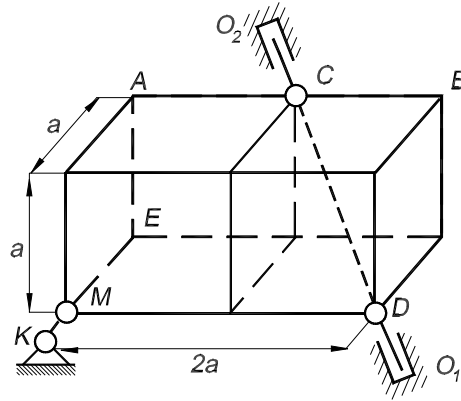
9. (Коммунарск. горно-металлург. ин-т, 1978)

Однородный тонкий стержень AB длиной l и весом Q шарнирно укреплен в точке A и опирается на вертикальную стену другим концом B . Вертикальная стена находится на расстоянии a от шарнира A . В момент возможного возникновения движения стержня определить значение угла α , который образует с вертикальной плоскостью YOZ плоскость OAB . Коэффициент трения между концом B стержня и стеной равен f . Трением в шарнире пренебречь.



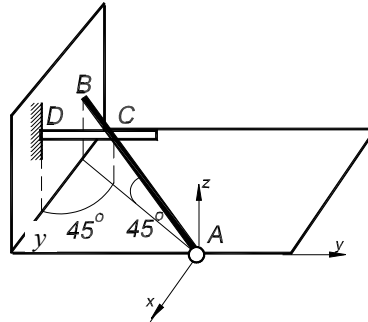
10. (МВТУ, 1980)

Однородный прямоугольный брус размерами $a \cdot a \cdot 2a$, имеющий возможность вращаться вокруг оси O_1O_2 , удерживается в равновесии нитью MK . Ось O_1O_2 проходит через вершину D и среднюю точку C ребра AB , точка K лежит на продолжении прямой ME , ребро EA вертикально. Определить натяжение нити MK , если вес бруса P . Трением в опорах пренебречь.



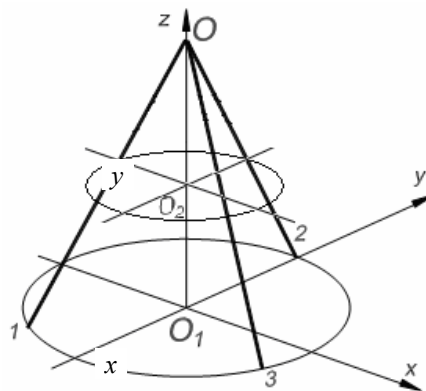
11. (Новочеркасск. политех. ин-т, 1982)

Однородная балка AB весом P , прикрепленная к полу шарниром A , опирается концом B на гладкую вертикальную стену, а промежуточной точкой C на гладкий стержень DC , заделанный в стену перпендикулярно к ее плоскости. Балка с плоскостью пола и ее горизонтальная проекция с плоскостью стены составляет равные углы по 45° . Определить реакцию шарнира A и реакции опор в точках B и C , если $AB = 4 BC$.



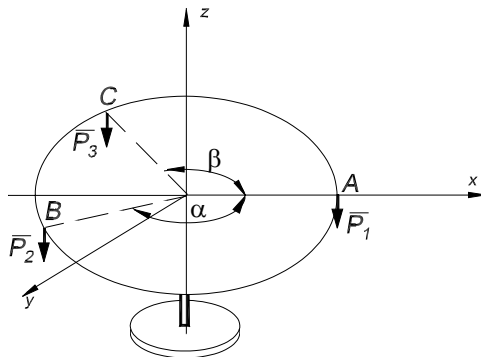
12. (Тамбовск. ин-т хим. машиностр., 1989)

Круглое кольцо радиуса R посредством трех нитей одинаковой длины, прикрепленных к кольцу в равноотстоящих друг от друга точках, подвешено к неподвижной точке O . На образовавшийся таким образом конус надето меньшее кольцо радиуса r , равного с первым веса. Кольцо это при равновесии системы делит нити пополам. Найти отношение расстояний колец от точки O .



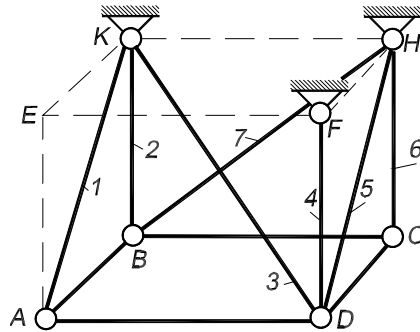
13. (Тамбовск. ин-т хим. машиностр., 1989)

Круглая невесомая пластинка покоится в горизонтальном положении, опираясь центром на острие O . Разместить по окружности пластинки, не нарушая равновесия, грузы $P_1 = 1,5$ кН, $P_2 = 1$ кН, $P_3 = 2$ кН в точках A , B и C , т.е. найти углы α и β .



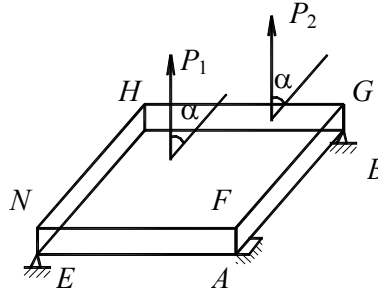
14. (Тольяттинск. политехн. ин-т, 1986)

Для крепления прямоугольной плиты $ABCD$ можно использовать любые из семи заданных шарнирных стержней. Указать все возможные комбинации стержней, обеспечивающие жесткое и статически определенное крепление плиты при любом ее нагружении.



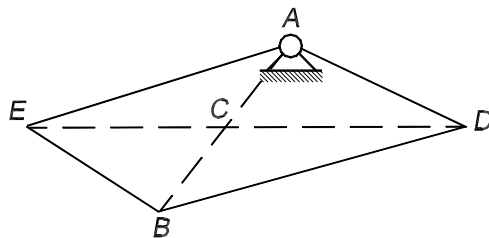
15. (СНГ, 1992, 3 балла)

Прямоугольная однородная плита весом Q соединена с неподвижной опорой цилиндрическим шарниром A и сферическим шарниром B . Плита удерживается в горизонтальном положении острием E , упирающимся в гладкую поверхность нижней грани плиты. К верхней грани плиты $FGHN$ приложены две параллельные силы, равные P и лежащие в плоскости этой грани. Линии действия сил образуют острый угол α со стороной NH , а центр тяжести плиты находится от них на равных расстояниях. Определить реакции опор, если известно, что $AF = AB/5 = AE/10$.



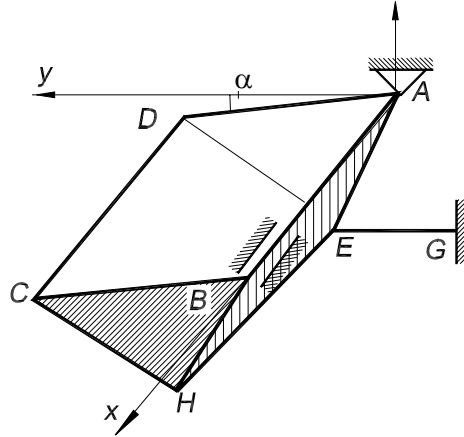
16. (Россия, 1993, 4 балла)

Однородный горизонтально расположенный квадрат $ADBE$ весом P с диагоналями $AB = DE = 2l$ прикреплен в точке A к неподвижной опоре сферическим шарниром. Квадрат уравновешен некоторой дополнительной системой активных сил, о которой известно: 1) линия действия равнодействующей этой системы проходит через точку B ; 2) если к этой системе добавить вес квадрата, то при приведении новой системы сил к точке D ее главный момент равен $Pl\sqrt{5}/2$. Определить реакцию шарнира A , пренебрегая толщиной квадрата.



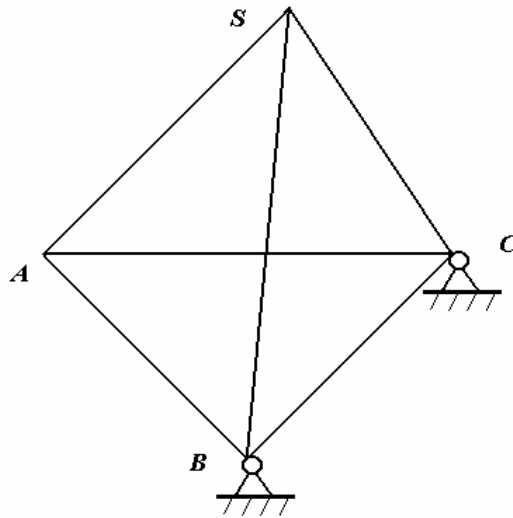
17. (Россия, 1995, 4 балла)

Невесомый симметричный треугольный короб $ABCDEH$ длиной $AB = CD = 4l$ со сторонами $AE = DE = l$ и углом $AED = \pi/2$ удерживается в равновесии сферическим и цилиндрическим шарнирами в точках A и B , соответственно, и невесомым стержнем EG . Ось шарниров A и B горизонтальна, а стержень EG расположен горизонтально в перпендикулярной ей плоскости. В короб наливается максимально возможное количество жидкости с массовой плотностью ρ . Определить величину реакции в шарнире A , если край короба AD составляет угол $\varphi = 15^\circ$ с горизонтом.



18. (Тамбов, ТИХМ, 1993, 4 балла)

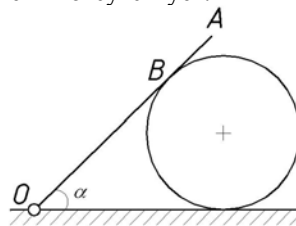
Треугольная пирамида $SABC$ с равными ребрами и весом P расположена так, что ее основание ABC горизонтально, а вершины B и C закреплены с помощью неподвижных шарниров. В центре тяжести каждой боковой грани приложены силы, равные по модулю P и направленные перпендикулярно к граням вовнутрь пирамиды. Какую надо приложить в вершине S силу F , параллельную вектору \overline{AB} , чтобы пирамида находилась в данном положении в равновесии? Трение в шарнирах не учитывать.



3.5. ЗАДАЧИ С ТРЕНИЕМ

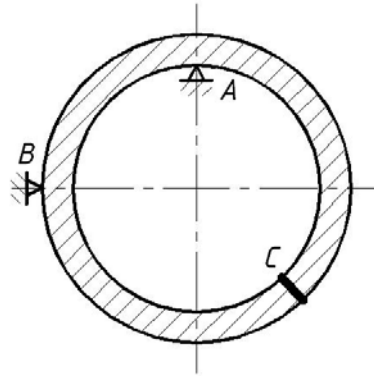
1. (СССР, 1982, 3 балла)

Тяжелая балка OA , закрепленная одним концом в шарнире O , опирается в точке B на шар весом P , лежащий на неподвижной горизонтальной плоскости. Определить угол α при равновесии, если коэффициент трения шара о балку и горизонтальную плоскость одинаков и равен f . Трение качения отсутствует.



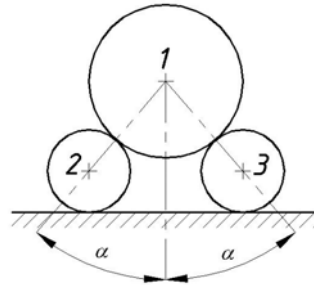
2. (СССР, 1983, 3 балла)

Однородное кольцо весом P свободно опирается в точках A и B на неподвижные призмы, которые расположены, соответственно, на вертикальном и горизонтальном диаметрах кольца. Считая коэффициенты трения кольца о призмы одинаковыми, определить такое их значение, при котором точечный груз C весом Q , закрепленный в любом месте правой половины кольца, будет оставлять последнее в покое. Поперечными размерами кольца пренебречь.



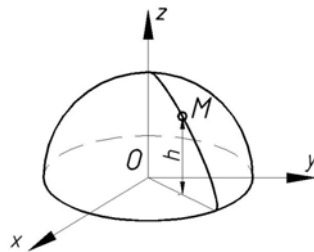
3. (СССР, 1986, 4 балла)

Цилиндр 1 веса Q_1 опирается на два одинаковых цилиндра веса Q_2 , как показано на рисунке. Коэффициент трения скольжения между цилиндрами равен f . Определить максимальный угол α и минимальный коэффициент трения f_0 между цилиндрами 2 и 3 и опорной поверхностью.



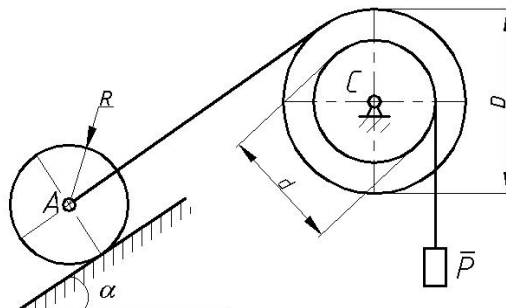
4. (СССР, 1987, 5 баллов)

Поверхность параболического купола описывается уравнением $z = H - (x^2 + y^2)/H$. На высоте h на купол был положен груз. При каких значениях h возможно равновесие груза, если коэффициент трения между грузом и куполом f ?



5. (СССР, 1987, 6 баллов)

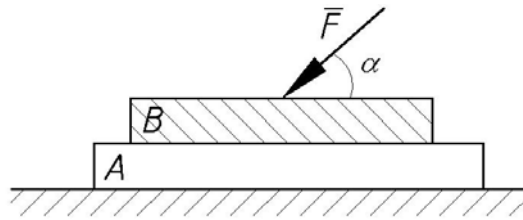
Цилиндр веса Q и радиуса R лежит на шероховатой плоскости, наклоненной к горизонту под углом α , и удерживается тросом, намотанным на барабан ступенчатого вала диаметра D . На барабан диаметра d намотан трос, к концу которого подвешен груз веса P . Коэффициент трения качения цилиндра A о плоскость равен δ , коэффициент трения скольжения равен f , при этом $\text{tg } \alpha > \delta/R, f > \delta/R$. При каких значениях P система будет находиться в равновесии?



6. (СССР, 1989, 6 баллов)

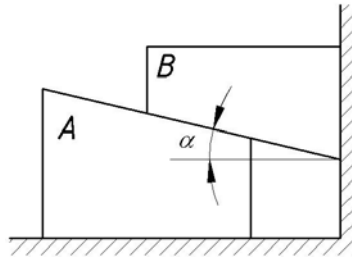
На верхней грани прямоугольного бруса A веса P_1 находится прямоугольный брус B веса P_2 . Брус A опирается нижней гранью на горизонтальную плоскость, причем коэффициент трения между ними равен f_1 . Коэффициент трения между брусками

A и B равен f_2 . К брусу B приложили силу под углом α к горизонту. При каких значениях силы F система будет оставаться в равновесии?



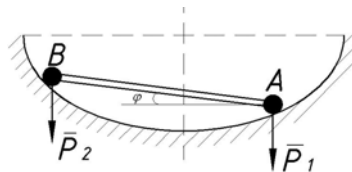
7. (СССР, 1990, 4 балла)

Призма B опирается на клин A и вертикальную стену. Массы призмы и клина одинаковы. Трение между клином и призмой пренебрежимо мало. Коэффициенты трения между клином и полом, призмой и стеной одинаковы и равны f . Наклонная плоскость клина составляет с горизонтом угол α . При каких значениях f призма и клин будут оставаться в покое?



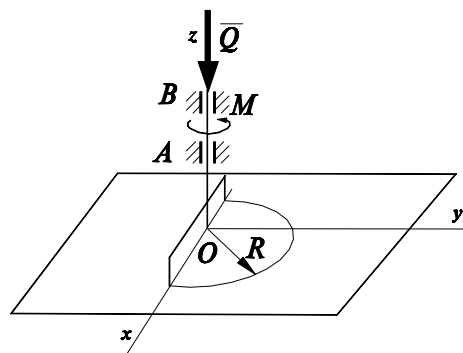
8. (РСФСР, 1982, 3 балла)

Система, состоящая из двух шаров A и B с весами P_1 и P_2 ($P_1 > P_2$) и соединяющего их невесомого стержня длиной l , помещена в сферическую чашу радиуса $r = 0,5\sqrt{2}l$, коэффициент трения скольжения шаров о поверхность чаши равен f . Найти наименьшее значение угла φ между стержнем и горизонтом, при котором система может находиться в покое внутри чаши. Размерами шаров пренебречь.



9. (РСФСР, 1984, 5 баллов)

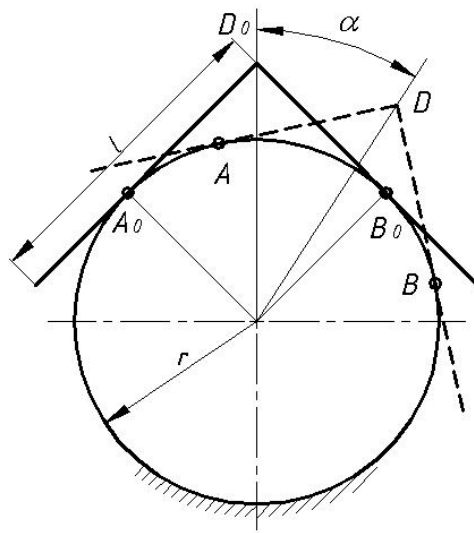
Жесткая стержневая фигура опирается равномерно полуокружностью на негладкую горизонтальную плоскость. Пренебрегая весом фигуры и трением в подшипниках A и B , определить для случая покоя наибольший движущий момент M и соответствующие реакции опор, если даны: радиус R , вертикальная сила Q и коэффициент сцепления f ($OA = AB = R$).



10. (РСФСР, 1987, 5 баллов)

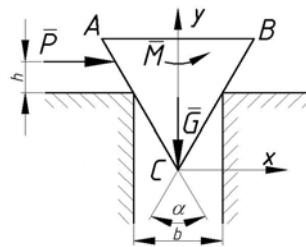
Плоский угольник состоит из двух одинаковых тонких однородных стержней. Стержни жестко соединены между собой в вершине D под углом 90° . Угольник установлен на неподвижную горизонтальную шероховатую цилиндрическую опору радиуса r , коэффициент трения скольжения $f_0 = 0,268$. Угольник поворачивают по часовой стрелке на угол α из начального положения A_0B_0 , останавливают и затем освобождают без толчка. После освобождения угольника возможны два случая: 1) в точке B стержень соприкасается с опорой, 2) в точке B между ними имеется небольшой зазор $\Delta l \ll r$.

Опишите качественно дальнейшее движение угольника после его освобождения и определите предельные значения угла α , при которых угольник будет иметь различные состояния равновесия – безразличное, устойчивое, неустойчивое. Сопротивлением перекачивания пренебречь.



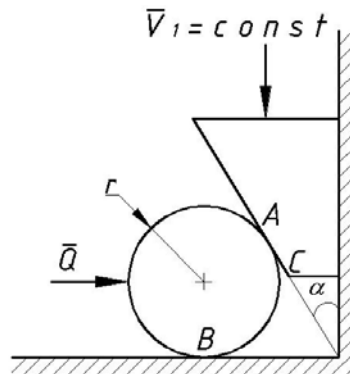
11. (РСФСР, 1988, 5 баллов)

В паз шириной b помещена негладкая призма весом G , сечение которой – равнобедренный треугольник с углом α при вершине C . К призме приложена пара сил с моментом M и наименьшая уравнивающая сила P , перпендикулярная силе G и параллельная оси x , при которой призма будет находиться в покое. Определить реакцию связи и силу P . Дано: коэффициент трения f , $\alpha = 4\varphi$, $\operatorname{tg} \varphi = f$, $M = bG$, $h = 3/2 fb$.



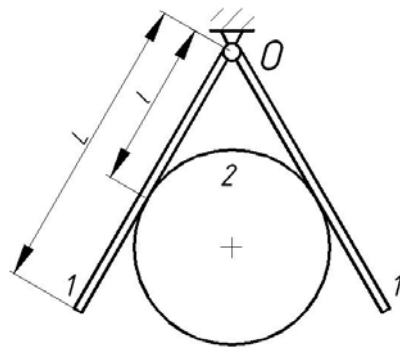
12. (РСФСР, 1988, 5 баллов)

Клин равномерно перемещается вертикально вниз, касаясь гладкой стены и шероховатой поверхности катка. Каток при этом может перемещаться по негладкой горизонтальной плоскости. Исследовать влияние угла α клина и коэффициента трения f связей A и B на характер движения цилиндрического катка. Силу N_A , перпендикулярную к стороне AC клина, считать постоянной. Каток невесомый.



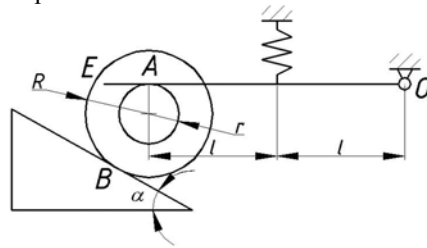
13. (РСФСР, 1990, 3 балла)

Шар 2 веса G_2 и радиуса r удерживается силами трения между одинаковыми пластинками l веса G_1 каждая, шарнирно подвешенными на горизонтальной оси O . Поперечными размерами пластин пренебречь. Длина пластины равна L , расстояние от оси O до точки касания пластины с шаром – l , коэффициент трения между шаром и пластиной – f . Считая заданными указанные геометрические размеры, найти условия, которым должны удовлетворять величины f , G_1 , G_2 при равновесии системы.



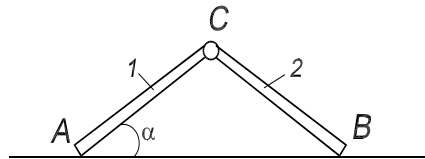
14. (РСФСР, 1990, 3 балла)

Определить деформацию λ пружины жесткостью c для системы, изображенной на рисунке в положении предельного состояния равновесия. Исходные данные: отношения радиусов двухступенчатого катка $r/R = 0,2$, коэффициент сцепления в точках A и B контакта катка с горизонтально расположенным невесомым стержнем OE и наклоненной к горизонту под углом $\alpha = 30^\circ$ плоскостью $f = 0,577$, отношение коэффициента трения качения катка в точке B к большому радиуса катка $\delta/R = 0,5$, вес катка равен Q , в точке O – шарнир.



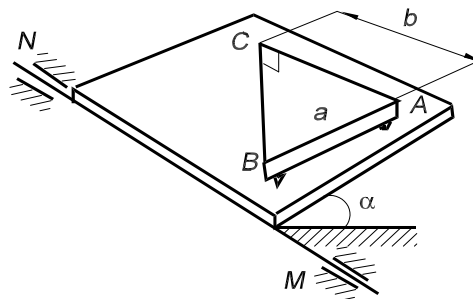
15. (БССР, 1985, 3 балла)

Однородные стержни 1 и 2 одинаковой длины с массами m_1 и m_2 , расположенные в вертикальной плоскости, соединены идеальным шарниром C , а концами A и B опираются на шероховатую плоскость. Коэффициент трения между стержнями и полом равен f . Определить наименьший угол α наклона стержней к горизонту в состоянии равновесия.



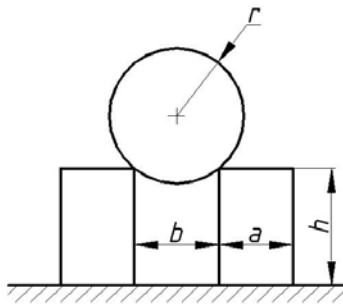
16. (БССР, 1982)

Треугольная пластина весом P лежит на наклонной плоскости и опирается на нее шаровой катковой опорой A и двумя штгьями B и C . Коэффициенты трения скольжения штгьерей B и C о плоскость, соответственно, f_1 и f_2 ($f_1 < f_2$). Определить угол α , при котором пластина потеряет равновесие, $CA \parallel MN$.



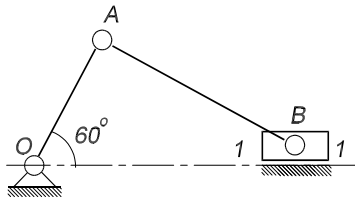
17. (БССР, 1982)

Цилиндр веса P опирается на два одинаковых параллелепипеда того же веса. Радиус цилиндра r и размеры параллелепипедов a и h заданы. Коэффициент трения между параллелепипедами и горизонтальной плоскостью равен f . Каким условиям должно удовлетворять расстояние b между параллелепипедами для того, чтобы система находилась в равновесии? Трением между цилиндром и параллелепипедами пренебречь.



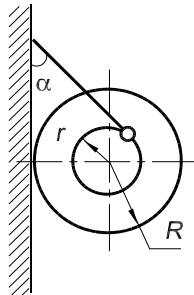
18. (Латв. ССР, 1983, 3 балла)

Кривошипно-ползунный механизм, расположенный в вертикальной плоскости, находится в равновесии в указанном на рисунке положении. Вес стержней OA и AB одинаков, ползун B – невесомый, опирается на шероховатую поверхность $l-l$. Определить, коэффициент трения скольжения между ползуном и поверхностью $l-l$, пренебрегая трением в шарнирах.



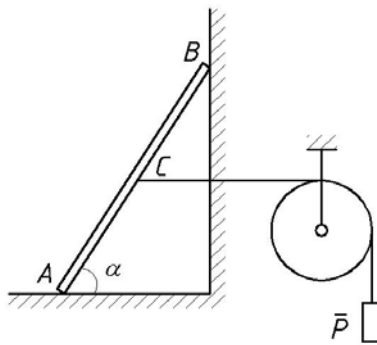
19. (Латв. ССР, 1988)

Катушка весом G , радиусами r и R удерживается в равновесии при помощи нити и негладкой вертикальной стены. Определить наименьший коэффициент трения f между катушкой и стеной, если угол $\alpha = 30^\circ$ и $r/R = 0,2$.



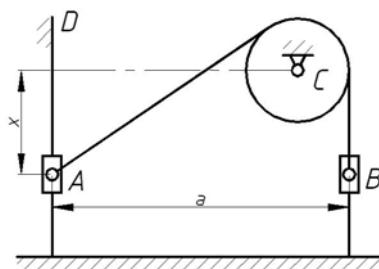
20. (Лит. ССР, 1987)

Однородный стержень AB веса G опирается одним концом на гладкий пол, другим – на шероховатую вертикальную стену; коэффициент трения стержня о стену равен f . Определить наибольший и наименьший вес груза P , чтобы стержень оставался в равновесии, если $AC = BC$, угол наклона стержня к горизонту равен α .



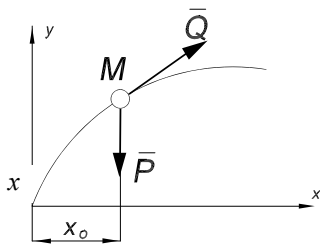
21. (Молд. ССР. 1984, 3 балла)

Два груза A и B , связанные невесомой нерастяжимой нитью ACB , могут двигаться по вертикальным направляющим, расстояние между которыми равно a . Коэффициент трения в направляющей груза A равен f , а трением в направляющей груза B можно пренебречь. Каковы пределы изменения расстояния $x = DA$, в которых возможно равновесие системы, если груз B в n раз тяжелее груза A ? Размерами идеального блока C можно пренебречь.



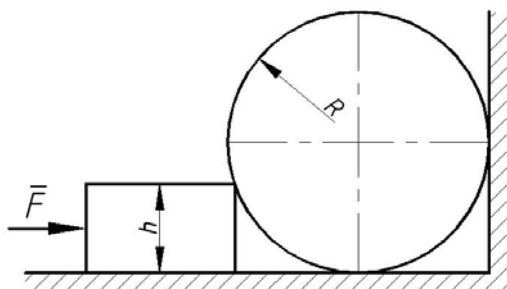
22. (УССР, 1988)

К точке M весом P , находящейся в равновесии в положении $x = x_0$ на шероховатой кривой $y = f(x)$ приложена сила Q , направленная по касательной к кривой вверх. Определить модуль этой силы, если коэффициент трения $f < (dy/dx)(x_0)$. Рассмотреть частный случай $y = \sin(x)$.



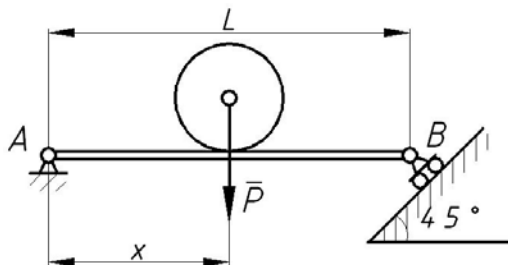
23. (Л., 1984, 3 балла)

Гладкий шар радиуса R и веса P , касаясь вертикальной стены, покоится на шероховатом горизонтальном полу (коэффициент трения скольжения равен f). С какой минимальной по величине силой F следует прижать к шару брусок высоты h , чтобы шар оторвался от пола?



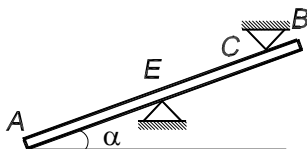
24. (Л., 1985)

Шарнирная опора A балки не закреплена, а установлена на шероховатую плоскость с коэффициентом трения f . Шарнирно-подвижная опора B расположена на наклонной плоскости под углом 45° к горизонтали. Определить точку приложения силы P (абсциссу x), при которой возможно смещение опоры A . Вес балки $2P$. Чему должны равняться f и x для того, чтобы в предельном равновесии балки вертикальные составляющие реакций опор A и B были бы одинаковыми?



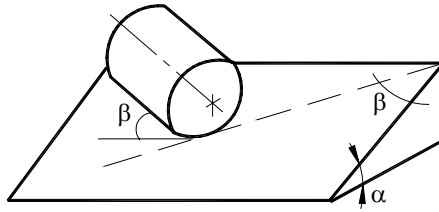
25. (М., 1987)

Тонкий однородный стержень AB веса P , который наклонен к горизонту под углом α , опирается на неподвижные призмы. Коэффициент трения стержня о призмы f . Какова должна быть длина стержня l , чтобы он находился в равновесии, если $CE = a$, $BC = b$?



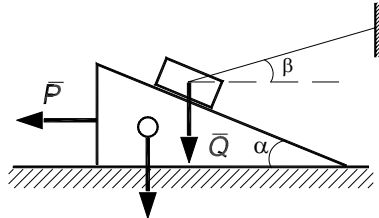
26. (Зап.-Сиб. Зона, Новосибирск. ин-т ж/д трансп., 1990)

Однородный цилиндр помещен на наклонную плоскость, составляющую угол α с горизонтом так, что его образующие составляют угол β с горизонтальной линией, проведенной на плоскости. Определить условия, при которых цилиндр будет в покое, если f – коэффициент трения скольжения, δ – коэффициент трения качения, r – радиус цилиндра.



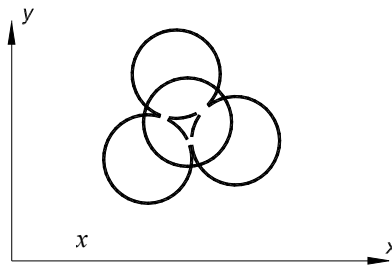
27. (Зап.-Сиб. зона, Новосибирск. ин-т ж/д трансп., 1990)

Груз веса Q привязан к неподвижной опоре тросом, составляющим с горизонтом угол β , и помещен на призму веса G , наклонная грань которой составляет угол α с горизонтом. Определить минимальную силу P , приводящую систему в движение, если угол трения груза о призму и призмы о плоскость равен φ .



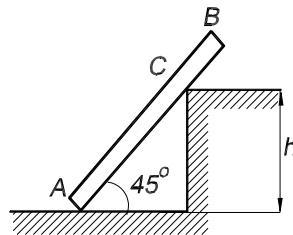
28. (Брянск, 1987)

На трех однородных, соприкасающихся друг с другом, шарах одного радиуса лежит сверху такой же четвертый шар. Какими должны быть коэффициенты трения скольжения между двумя шарами f_1 и между шаром и горизонтальной опорной плоскостью f_2 , чтобы система была в равновесии?



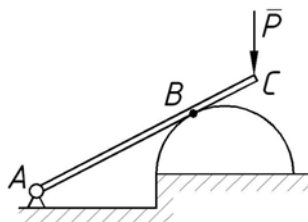
29. (Белорусс. политех. ин-т, 1983)

Однородный тяжелый стержень AB длиной $2h$ расположен в вертикальной плоскости. Концом A он опирается на шероховатый пол, а промежуточной точкой C – на выступ высотой h . В точке A коэффициент трения f равен $0,6$. Будет ли стержень находиться в равновесии? Трением в точке C пренебречь.



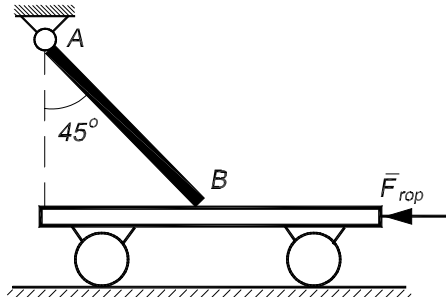
30. (Иркутск. политех. ин-т, 1986)

Стержень AC шарнирно закреплен на опоре в точке A и касается полудиска радиуса R и веса Q в точке B . Коэффициент трения скольжения между полудиском и опорной горизонтальной плоскостью $f = 0,5$. Какую вертикальную силу P надо приложить к стержню в точке C , чтобы сдвинуть вправо полудиск, если $AC = 2AB = 2R$? Весом стержня и трением в контактной точке B пренебречь.



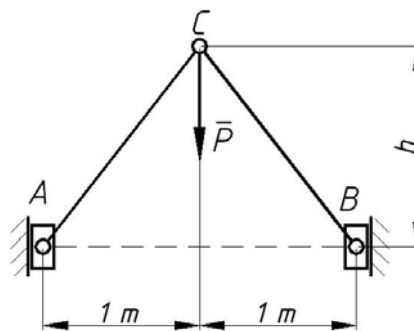
31. (МАТИ, 1982)

Однородный стержень AB шарнирно укреплен в точке A и опирается в точке B о неподвижную тележку. Коэффициент трения в точке B равен $0,3$, а сила давления стержня на тележку равна N . Сдвинется ли тележка влево, если приложить к ней горизонтальную силу, равную $0,25N$?



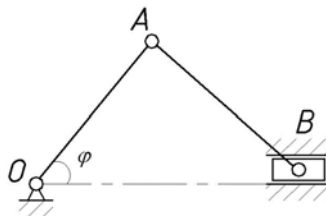
32. (МВТУ, 1986)

Какому условию должен удовлетворять размер h самотормозящего механизма, чтобы приложенная к узлу C сила P не могла вызвать скольжения ползунов A и B по вертикальным направляющим? Коэффициент трения $f = 0,2$; расстояние между направляющими 2 м.



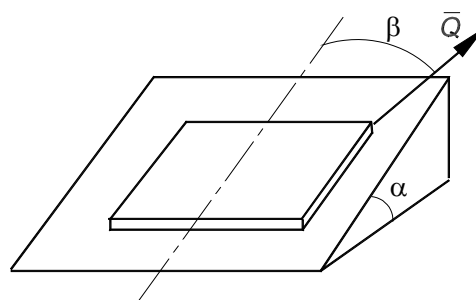
33. (МНИТ, 1979)

Определите наименьшее значение угла φ наклона кривошипа к горизонту, при котором шатунно-кривошипный механизм OAB будет находиться в равновесии. Кривошип OA , шатун AB и ползун B имеют одинаковый вес, равный P . Шатун и кривошип считать однородными стержнями, трением в шарнирах пренебречь. Коэффициент трения между ползуном и горизонтальной поверхностью f , $OA = AB = a$.



34. (МИИТ, 1978)

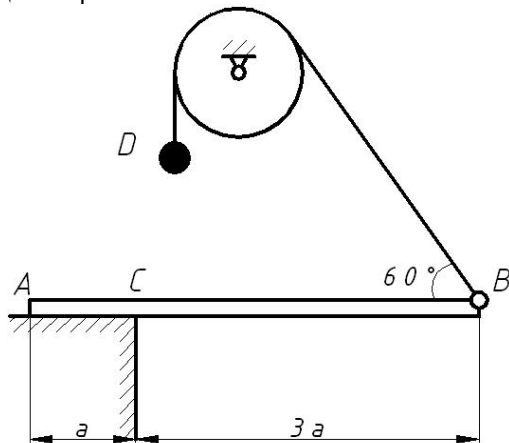
Тело весом P покоится на шероховатой наклонной плоскости с углом наклона α . Коэффициент трения тела о плоскость равен f . Какому условию подчиняются величины α и f ? К телу прикладывают силу Q , лежащую в наклонной плоскости и направленную под углом β к линии наибольшего ската. При каком минимальном значении силы Q равновесие нарушится?



35. (Новочеркасск. политех. ин-т, 1982)

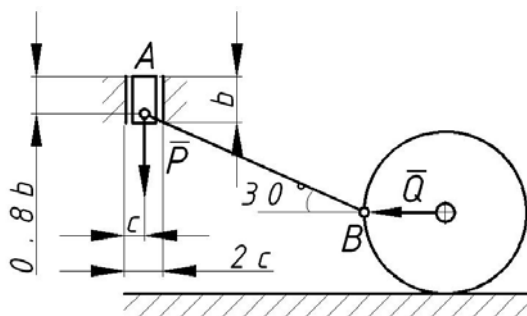
Однородная балка AB весом P , опирающаяся концом A на горизонтальную шероховатую поверхность, удерживается в горизонтальном положении нитью, образующей с ней угол 60° и переброшенной через блок. К концу нити подвешен груз D

весом Q . Определить вес Q , при котором балка в указанном горизонтальном положении останется в равновесии, если коэффициент трения на опоре равен f . Исследовать решение.



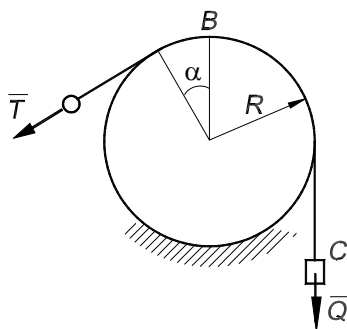
36. (Омск. политех. ин-т, 1983)

Система состоит из ползуна A , который может скользить по вертикальным направляющим стержня AB длиной $l = 2r$, однородного диска весом P_1 и радиусом r , в точках A и B – шарниры. На ползун действует вертикальная сила P_2 . Определить минимальную горизонтальную силу Q , которую надо приложить в центре диска при равновесии системы; $b = r$, коэффициенты трения скольжения и качения – f и δ , соответственно; ширина ползуна – $2c$, трение в шарнирах не учитывать.



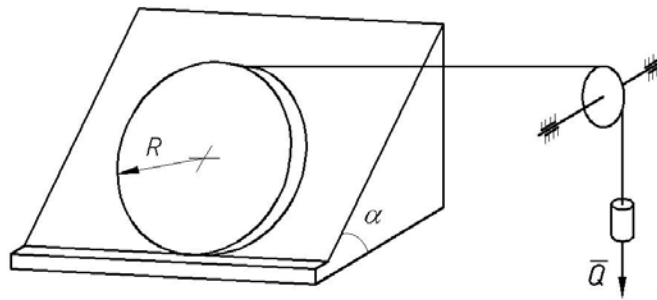
37. (Тамбовск. ин-т хим. машиностр., 1985)

Какую силу T надо приложить к нити, перекинутой через неподвижный блок, чтобы удержать в равновесии груз весом Q , закрепленный на другом ее конце? Коэффициент трения нити о блок f ; α и R даны.



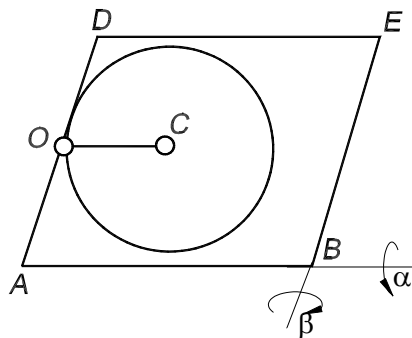
38. (Тамбовск. ин-т хим. машиностр., 1987)

На наклонной плоскости с углом наклона α к горизонту лежит однородный диск весом P и радиусом R . На диск намотана нить. К свободному концу нити, перекинутой через неподвижный блок, подвешен груз весом Q . При каком значении Q диск будет равномерно скользить по плоскости, совершая одновременно качение без скольжения по бортику AB ? Коэффициент трения скольжения равен f , трение качения и трение на блоке не учитывать.



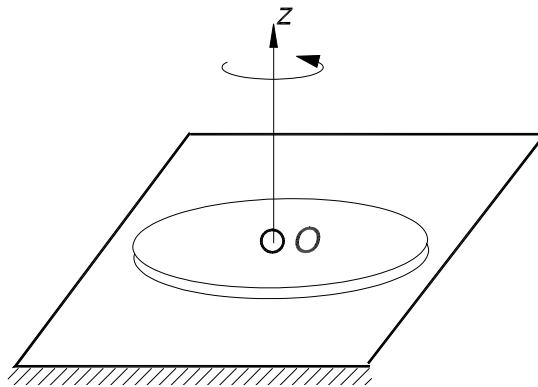
39. (Тамбовск. ин-т хим. машиностр., 1987)

На горизонтальной прямоугольной платформе $ABED$ в некоторой точке O стороны AD шарнирно прикреплен точкой обода однородный диск весом P и радиусом R . Платформу последовательно поворачивают в указанных на рисунке направлениях на угол $\alpha = 60^\circ$ вокруг стороны AB , затем на угол $\beta = 30^\circ$ вокруг стороны BE . Первоначально точка O и центр диска C лежали на прямой, параллельной стороне AB . Определить минимальные значения коэффициентов трения f_1 и f_2 , при которых диск будет оставаться в равновесии после первого и второго поворотов платформы. Давление диска на опору равномерно распределено по площади.



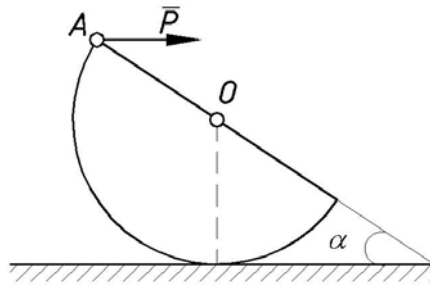
40. (Тамбовск. ин-т хим. машиностр., 1989)

Однородный сплошной диск радиуса R и веса P лежит на шероховатой горизонтальной плоскости. Какой по модулю момент M способен вызвать вращение диска вокруг оси OZ , перпендикулярной плоскости диска и проходящей через центр O , если давление диска на опорную плоскость распределено равномерно, а коэффициент трения скольжения о плоскость равен f ?



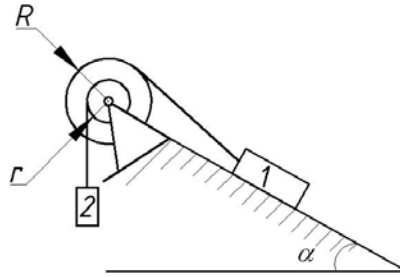
41. (Тамбовск. ин-т хим. машиностр., 1989)

На шероховатой горизонтальной плоскости лежит полушар веса Q и радиуса r . В точке A на него действует горизонтальная сила P . Найти угол α в предельном состоянии равновесия шара, если $P = \frac{1}{8}Q$. Под каким углом β надо приложить в точке A минимальную силу P , чтобы она обеспечила предельное состояние равновесия при некотором угле α_{\min} ? Найти P_{\min} и α_{\min} .



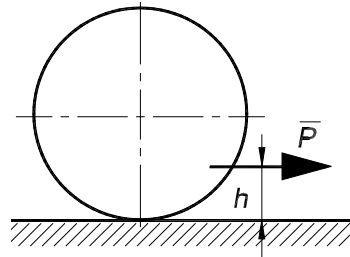
42. (Томск. политехн. ин-т, 1985)

Груз 1 веса P_1 лежит на шероховатой, наклоненной к горизонту на угол α плоскости и удерживается нитью, намотанной на ступень блока радиуса R . Коэффициент трения груза о плоскость равен f , $r = R/2$. При каком весе P_2 груза 2 система будет находиться в равновесии?



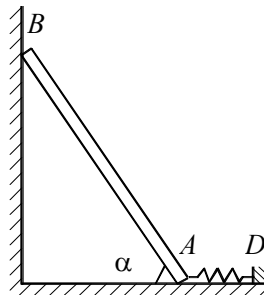
43. (Томск. политехн. ин-т, 1985)

На какой высоте h следует приложить горизонтальную силу P , чтобы каток, вес которого $10P$, равномерно скользил по горизонтальной поверхности без качения? Обозначить: f – коэффициент трения скольжения; δ – коэффициент трения качения.



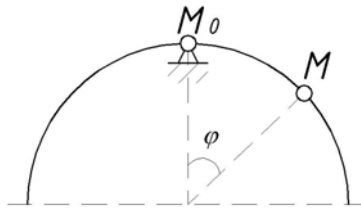
44. (СНГ, 1992, 4 балла)

Однородный тонкий стержень длиной $AB = l$ и весом P опирается в точке B на шероховатую поверхность с коэффициентом трения $f < 1$, а в точке A – на гладкую горизонтальную поверхность. В точке A к стержню прикреплена пружина жесткостью c , второй конец которой закреплен в точке D . Пружина не деформирована, когда стержень вертикален. Определить, при каких значениях угла α стержень будет находиться в равновесии, если $P = 2cl$.



45. (Россия, 1993, 5 баллов)

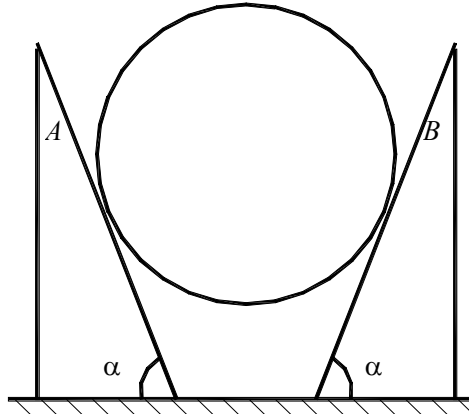
Тонкая проволока, изогнутая в виде полуокружности, свободно висит на уголке, опираясь на него в точке M_0 . Определить: 1) при каких значениях коэффициента трения f возможно равновесие полуокружности, если точку контакта перенести в положение M , определяемое углом φ ; 2) при каком угле φ минимальное значение коэффициента трения, обеспечивающее равновесие, является наибольшим. Найти этот максимум.



46. (Россия, 1994, 5 баллов)

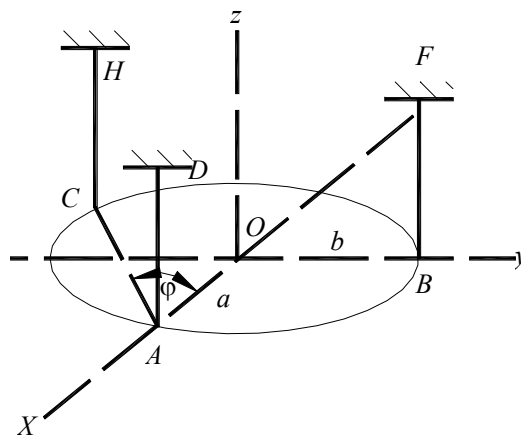
Две однородные треугольные призмы одинаковых размеров, сделанные из разных материалов, находятся на неподвижном основании, ребра их параллельны, и призмы удерживают в равновесии невесомый полый цилиндр, в который медленно наливают жидкость. Веса призм A и B , соответственно, равны $P_1 = 1$ кН, $P_2 = 2$ кН. Коэффициент трения между призмой A и цилиндром, а также неподвижной поверхностью $f_1 = 0,2$, для призмы B , соответственно, $f_2 = 0,15$. Угол при основании призмы $\alpha = 60^\circ$.

Определить, какая из призм начнет скольжение первой, а также силу трения между другой призмой и горизонтальной поверхностью в этот момент, если положение цилиндра обеспечивает неопрокидывание призм.



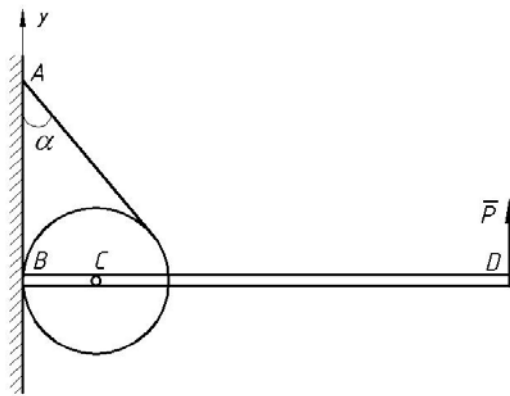
47. (Россия, 1994, 3 балла)

Однородная пластина весом P в виде эллипса с полуосями a и b удерживается в горизонтальном положении тремя вертикальными нитями AD , BF , CH . Точки A , B и C лежат на пересечении эллипса, соответственно, с осями x , y и линией, проходящей через точку A и составляющей угол φ с осью x . Определить силу натяжения нитей, если $\text{tg } \varphi = b/2a$.



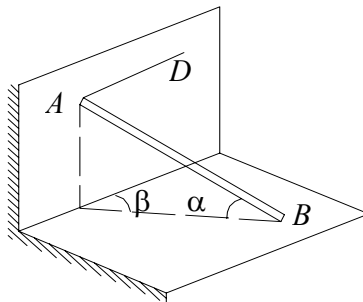
48. (Россия, 1995, 4 балла)

Однородный диск весом P и радиусом r находится в вертикальной плоскости. В точке B он касается неподвижной вертикальной стенки с коэффициентом трения $f = \sqrt{3}/15$. Невесомая нить намотана на диск и образует со стенкой угол $\alpha = 60^\circ$. К диску жестко прикреплен однородный стержень BD длиной $8r$, расположенный горизонтально. На конец стержня действует вертикальная сила $F = 2P$. При каком значении веса стержня конструкция будет находиться в равновесии? Какой вес стержня обеспечивает равновесие при любом коэффициенте трения?



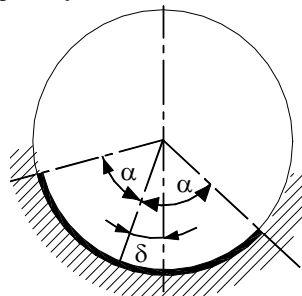
49. (Россия, 1996, 4 балла)

Тяжелый однородный стержень AB одним концом A опирается на гладкую вертикальную стену, а другим концом B – на шероховатый горизонтальный пол. Конец A стержня удерживается горизонтальной нитью AD . Указать область значений для углов α и β , при которых стержень AB будет находиться в покое в указанном на рисунке положении, если коэффициент трения скольжения между концом B стержня и полом равен f .



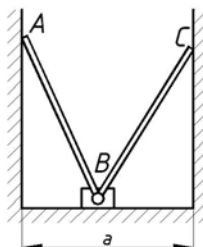
50. (Россия, 1997)

Гибкая однородная лента расположена внутри полого шероховатого цилиндра, ось которого горизонтальна. Лента образует дугу окружности с центральным углом 2α . Каково наибольшее значение угла δ с вертикалью, при котором лента не соскальзывает, если коэффициент трения скольжения равен f ?



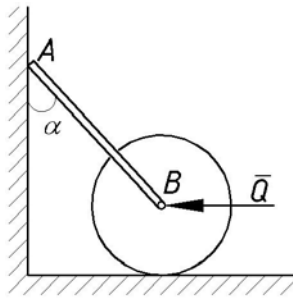
51. (Россия, 1998, 6 баллов)

Одинаковые однородные стержни AB и BC длиной l соединены цилиндрическим шарниром, на оси которого укреплен невесомый ползун B . Стержни опираются в точках A и C на вертикальные гладкие стенки, расположенные на расстоянии a друг от друга ($a < l$). Ползун может скользить по шероховатому горизонтальному полу с коэффициентом трения f . При каком соотношении между a и l эта система будет находиться в равновесии в любом положении ползуна на плоскости?



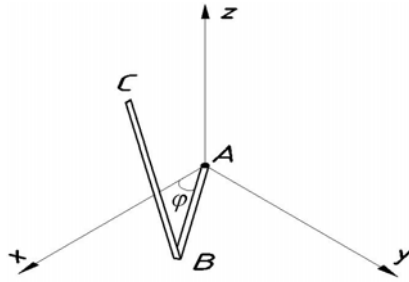
52. (Россия, 1999, 5 баллов)

Рукоятка катка, шарнирно соединенная с его осью, опирается своим концом A на вертикальную гладкую стенку. Вес рукоятки равен P , ее длина l , вес катка также равен P , его радиус r . В точке B к катку приложена горизонтальная сила $Q = 2P$. При каком угле α возможно равновесие системы, если коэффициент трения скольжения между катком и горизонтальной плоскостью равен f , а коэффициент трения качения равен δ ?



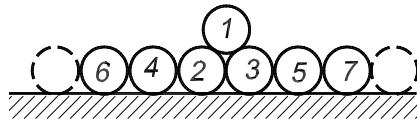
53. (Россия, 2000, 5 баллов)

Два одинаковых тонких однородных стержня AB и BC жестко скреплены в точке B под прямым углом. Стержень AB расположен на шероховатой горизонтальной плоскости xAy с коэффициентом трения f , его крепление в точке A допускает поворот вокруг оси стержня AB и перемещение в положительном направлении оси z . Стержень BC в точке C опирается на вертикальную гладкую стену xAz . При каком значении f предельное значение угла φ при равновесии составляет 30° ? Считать, что равнодействующие сил трения и нормальных реакций шероховатой плоскости приложены в одной точке, вертикальной составляющей реакции опоры A пренебречь.



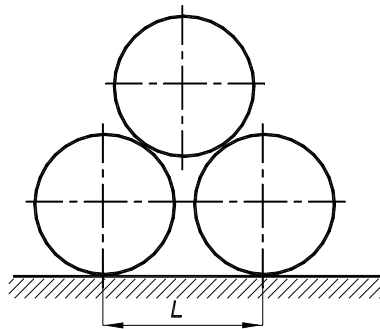
54. (Томск. политехн. ин-т, 1985)

Раскатятся ли трубы на горизонтальном полу, если коэффициент трения скольжения между поверхностями труб $f = 0,2$? Трубы и пол считать абсолютно твердыми. При каком минимальном количестве труб нижнего ряда система не будет раскатываться? Зависит ли результат от количества труб, если учитывать трение качения?



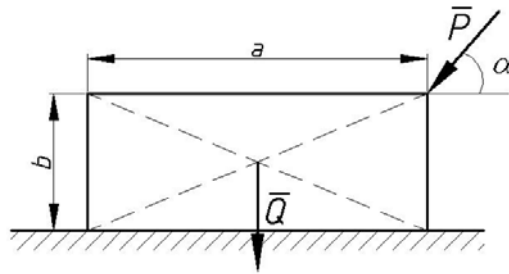
55. (Россия, 2001, 5 баллов)

Три одинаковых однородных диска радиуса R расположены в вертикальной плоскости, как указано на рисунке. Коэффициент трения между дисками, а также опорной поверхностью и дисками одинаков и равен f ($f < 1$). Определить максимальное расстояние между центрами нижних дисков и область допустимых значений коэффициента трения при равновесии системы.



56. (Россия, 2001, 6 баллов)

Однородный прямоугольник с основанием a , высотой b и весом Q лежит на шероховатой горизонтальной плоскости с коэффициентом трения f . Каким условиям удовлетворяет величина силы P , для которой прямоугольник находится в равновесии при любом значении угла α ($0 \leq \alpha \leq \pi/2$)? Сила P расположена в плоскости прямоугольника.

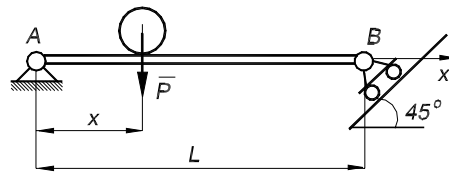


57. (Урал, Оренбург, 2000, 3 балла)

Дана система n материальных точек с массами m_k и координатами $x_k, y_k, z_k, k = 1 \dots n$. На каждую точку действует сила притяжения к некоторому центру Q : $F_k = f m_k M_k Q$, где f – одно и тоже для всех точек. Определить координаты точки Q , если известно, что система находится в равновесии.

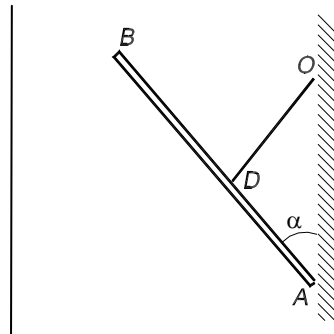
58. (Урал, Оренбург, 2000, 4 балла)

Балка AB весом $2P$ имеет шарнирную опору в точке A , не закрепленную, а установленную на шероховатую плоскость. Коэффициент трения между плоскостью и опорой равен f . Шарнирно-подвижная опора B расположена на наклонной плоскости, образующей угол 45° с горизонтом. Определить точку приложения силы P (абсциссу x), при которой нарушается равновесие, а также чему должны равняться f и x для того, чтобы в предельном положении равновесия балки вертикальные составляющие реакции опор A и B были бы одинаковы?



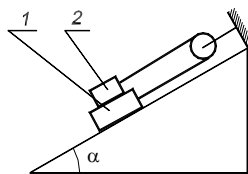
59. (Поволжье – Урал, Оренбург, 2001, 6 баллов)

Картина AB подвешена к вертикальной стене с помощью нити, прикрепленной к гвоздю в стене (O) и к картине в точке D . Определить длину нити OD и расстояние DA , для которых в положении равновесия сила трения обращается в нуль при любом значении угла α . Длина $AB = 2l$.



60. (Тамбов, ТГТУ, 1995, 4 балла)

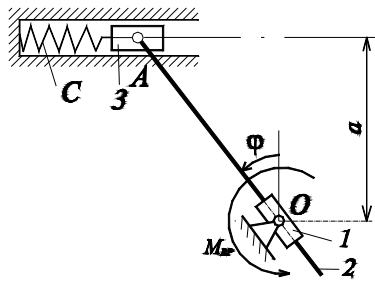
На гладкой наклонной плоскости с углом наклона α находятся два груза 1 и 2 друг на друге, коэффициент трения скольжения между ними равен f . Грузы соединены нитью, перекинутой через неподвижный блок. Вес верхнего тела P_2 . Найти вес P_1 нижнего тела при равновесии системы.



3.6. ПРИНЦИП ВОЗМОЖНОГО ПЕРЕМЕЩЕНИЯ

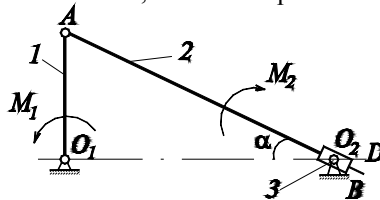
1. (СССР, 1982, 3 балла)

В плоском механизме звенья невесомы, связи идеальные. К цилиндру 1 приложен известный момент $M_{вп}$ пары сил. Найти величину деформации пружины, если жесткость пружины равна c и механизм в указанном на рисунке положении, определенном углом φ , находится в покое. Стержень 2 может свободно скользить в цилиндре 1 .



2. (СССР, 1984, 5 баллов)

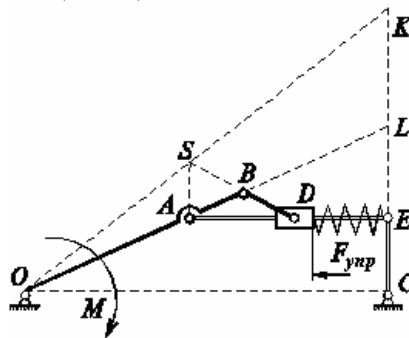
В плоском механизме на кривошипе O_1A действует пара сил с известным моментом M_1 . Найти минимальное значение момента M_2 пары сил, приложенной к звену 3 и обеспечивающей равновесие механизма в указанном на рисунке положении, если $AO_1O_2 = 90^\circ$, $O_1O_2A = \alpha$, $O_1A = r$, $CO_2 = O_2D = a$, коэффициент трения между стержнем 2 и втулкой 3 равен f ; трение в шарнирах O_1, A, O_2 пренебрежимо мало, все звенья механизма невесомые, контакт стержня 2 со втулкой 3 имеет место только в точках C и D .



3. (СССР, 1985, 8 баллов)

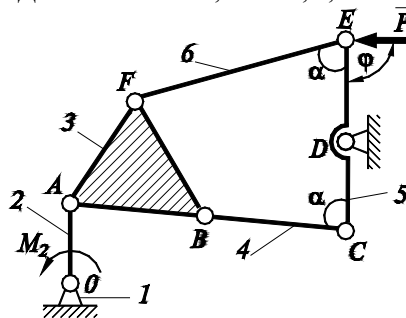
Плоский механизм с невесомыми звеньями находится в равновесии. Момент M пары сил, приложенной к звену OAB , уравновешен силой упругости пружины. Показать, что абсолютная величина силы упругости пружины при данном положении механизма может определяться равенством

$$F_{\text{упр}} = M SK / (LK OS), AS \perp AE, EC \perp OC, AE \parallel OC.$$



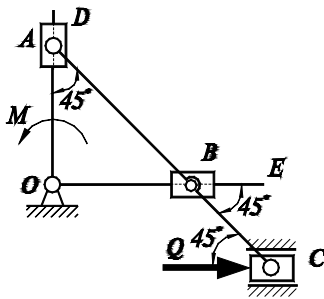
4. (РСФСР, 1983, 5 баллов)

Определить момент пары M_2 , уравновешивающий механизм в данном его положении, и реакции в шарнирах C, D и E рычага 5. Шарнир B находится на прямой AC . Дано: $OA = CE = l$, $CD = 0,5l$, $\alpha = 60^\circ$, $\varphi = 90^\circ$; внешняя сила P .



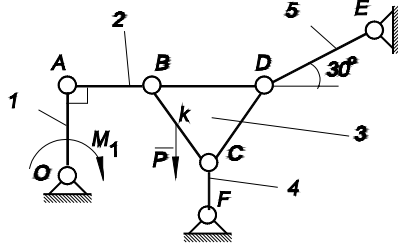
5. (РСФСР, 1984, 5 баллов)

В плоском кулиском механизме ползуны A и B могут перемещаться вдоль стержней кривошипа DOE . Пренебрегая трением и весом звеньев механизма, определить силу Q , уравновешивающую действие момента M , $AB = BC = l$.



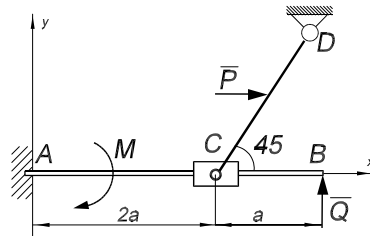
6. (РСФСР, 1986, 3 балла)

К равносоставленному трехшарнирному звену BCD приложена сила P. Определить уравновешивающий момент M_1 механизма. Размеры стержней одинаковы и равны l, $KB = KC = 0,5l$; стержни OA, CF и сила \vec{P} перпендикулярны стержню BD.



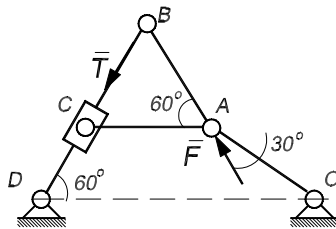
7. (Турк. ССР, 1988)

Заделанный в стену горизонтальный стержень AB соединен со стержнем CD скользящим шарниром C. К середине CD приложена горизонтальная сила P, на стержень AB действует пара сил с моментом M и вертикальная сила Q. Определить реакции в заделке и шарнире C, если $P = 4$ Н; $M = 12$ Н·м; $Q = 16$ Н; $a = 1$ м.



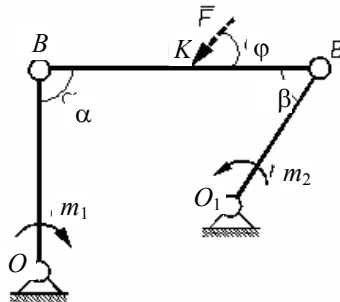
8. (Брянск, 1987)

В стержневой системе $AB = AC$, $BD = 2 AB$, сила T приложена к ползуну C, который может двигаться вдоль стержня BD. Пренебрегая трением и весом стержней, определить, при каком соотношении между силами T и F система остается в равновесии в положении, показанном на рисунке.



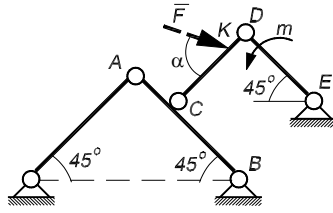
9. (Тамбовск. ин-т хим. машиностр., 1984)

На звено OA шарнирного четырехзвенника действует пара сил с моментом m_1 . Определить момент пары m_2 , которую надо приложить к звену O_1B для того, чтобы механизм находился в равновесии, если $\alpha = 90^\circ$, $\beta = 30^\circ$, $O_1A = O_1B = l$. Весом звеньев пренебречь. Под каким углом φ надо приложить в точке K звена AB произвольную силу F, чтобы она не нарушила равновесие системы? Для определенности положим $AB = l\sqrt{2}$, $AK = l$. Трением пренебречь.



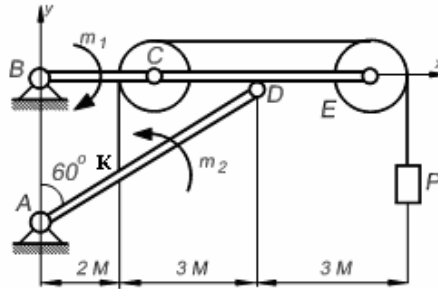
10. (Тамбовск. ин-т хим. машиностр., 1985)

В стержневой системе точки O, A, B, C, D, E – шарниры. Все стержни невесомые. На стержень DE действует пара сил с моментом m . Определить реакцию в точке O , если $DE = a, AC = CB$. Под каким углом α надо приложить в некоторой точке K звена CD любую силу F , чтобы она не изменила реакцию в точке O ?



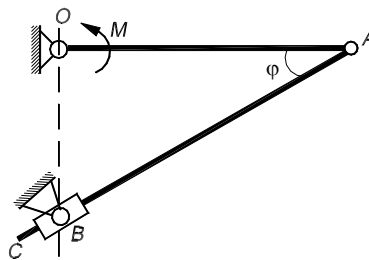
11. (Тамбовск. ин-т хим. машиностр., 1987)

Два стержня BE и AD шарнирно соединены между собой и с опорами. В точках C и E стержня BE шарнирно укреплены два одинаковых блока, через которые перекинута нить, закрепленная в точке K на стержне AD и несущая на свободном конце груз весом P . Методом возможных перемещений определить составляющие реакции шарниров y_A, x_D ; $P = 20$ Н; $m_1 = m_2 = 120$ Н м. Массой стержней, блоков и нити пренебречь, трение не учитывать.



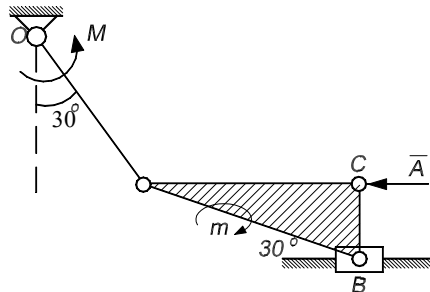
12. (Россия, 1999, 3 балла)

Два однородных стержня (OA длиной a , весом P и AC длиной b , весом Q) соединены шарниром A и находятся в вертикальной плоскости. Стержень OA укреплен шарнирно, а стержень AC проходит через гладкую муфту B . Определить уравновешивающий момент M , удерживающий стержень OA в горизонтальном положении под углом φ к стержню AC .



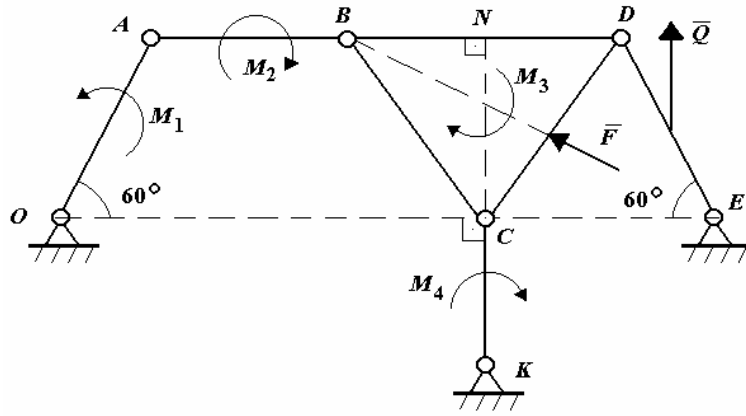
13. (Тамбов, ТИХМ, 1992, 6 баллов)

В кривошипно-шатунном механизме шатун выполнен в виде прямоугольного треугольника ABC (с горизонтальным катетом AC в данном положении), при этом $OA = AB = r$. Зная моменты пар сил M и $m = M\sqrt{3}$, приложенных к кривошипу и шатуну, определить силу F , направленную вдоль AC и уравновешивающую механизм.



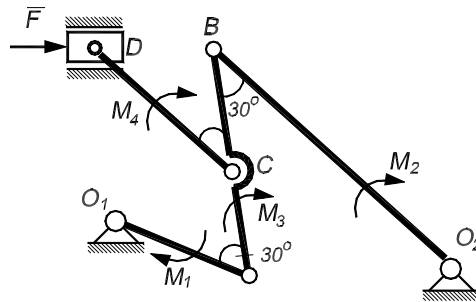
14. (Тамбов, ТИХМ, 1993, 6 баллов)

Механизм находится в равновесии под действием моментов M_1, M_2, M_3, M_4 и сил F, Q . Сила F приложена в середине отрезка CD перпендикулярно к нему, а сила Q приложена в середине DE параллельно CK ; $CK = CN$. Выразить силу Q через другие силовые факторы. Трение в шарнирах не учитывать.



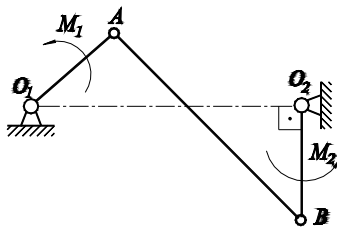
15. (Гамбов, ТГТУ, 1996, 3 балла)

Плоский механизм находится в горизонтальной плоскости в равновесии под действием силы F и системы пар сил с моментами M_1, M_2, M_3, M_4 . Углы указаны на рисунке, размеры звеньев $O_1A = l, O_2B = 2l, CD = 1,5l$. Выразить момент M_4 через остальные данные.



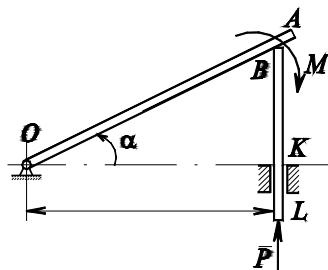
16. (СССР, 1989, 5 баллов)

В антипараллелограмме O_1ABO_2 длины звеньев равны, соответственно, $O_1A = O_2B = a, AB = O_1O_2 = b$ ($b > a$). Механизм находится в равновесии под действием вращающихся моментов M_1 и M_2 , приложенных к звеньям O_1A и O_2B . Определить отношение M_2/M_1 , если $O_2B_1 \perp O_1O_2$.



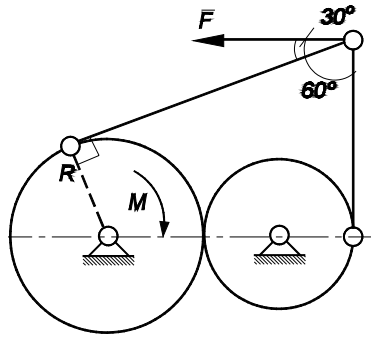
17. (СССР, 1985, 5 балла)

В плоском механизме стержень OA может вращаться вокруг шарнира O , перемещая шток BC в идеально гладких направляющих KL . Расстояние между шарниром и направляющими – l . Поверхность контакта между стержнем и штоком в точке B – шероховатая, коэффициент трения скольжения – f . Найти минимальное значение момента M пары сил, действующей на стержень OA и обеспечивающей равновесие механизма при заданных значениях угла α и силы P . Весом стержней пренебречь.



18. (РСФСР, 1985, 3 балла)

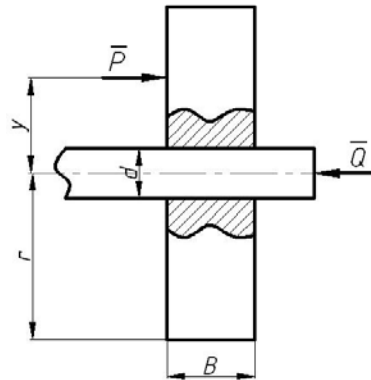
Механизм, расположенный в горизонтальной плоскости, состоит из двух зубчатых колес и стержней, связанных шарнирами. Считая связи идеальными, определить величину силы F , уравновешивающей действие момента M . Радиус левого колеса R .



3.7. ПРОФЕССИОНАЛЬНО-ОРИЕНТИРОВАННЫЕ ЗАДАЧИ

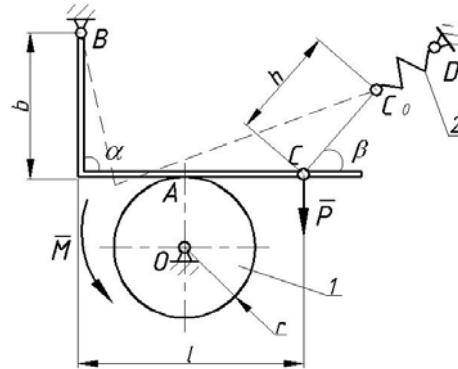
1. (РСФСР, 1983, 3 балла)

Шестерня напрессована на вал и сила трения между ними, вызванная напрессовкой, равна Q , коэффициент трения сцепления равен f_0 . Определить закон изменения силы $P = f(y)$, которую нужно приложить для снятия шестерни с вала.



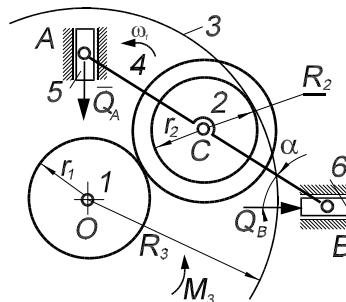
2. (РСФСР, 1986, 5 баллов)

При какой минимальной тормозной силе P и жесткости пружины s будет тормозиться и растормаживаться диск 1, на который действует постоянный момент внешних сил $M = 600 \text{ Н}\cdot\text{см}$? Для соприкосновения тормозной колодки с диском пружину нужно растянуть на величину $h = 1 \text{ см}$. Коэффициент трения в паре А $f = 0,3$, трение в шарнирах не учитывать. Размеры механизма: $r = 10 \text{ см}$, $a = 4 \text{ см}$, $b = l = 20 \text{ см}$, $\alpha = 90^\circ$, $\beta = 45^\circ$.



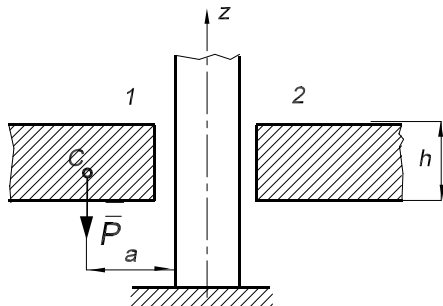
3. (РСФСР, 1989, 5 баллов)

Определить величину момента M_3 , при котором зубчато-рычажный механизм в данном положении будет находиться в равновесии. Массами тел и трением в связях пренебречь. Дано: $AC = BC = l$, $r_1 = R_2 = 0,5l$, $r_2 = 0,25l$, угол $\alpha = 30^\circ$, угол $AOB = 90^\circ$, угловая скорость $\omega_3 = 0$, сила $Q_A = Q_B = Q$.



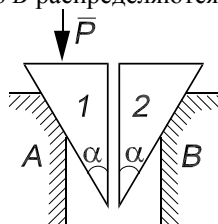
4. (Лит. ССР, 1985, 3 балла)

По вертикальному столбу 1 скользит пластина 2 толщины h с круглым отверстием. Определить наименьшую силу тяжести P и наименьшее расстояние a между центром тяжести C пластины и осью столба при условии равновесия пластины за счет сил трения. Коэффициент трения между столбом и пластиной равен f .



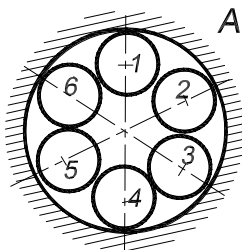
5. (Л., 1985, 3 балла)

Между неподвижными телами A и B установлены два клина 1 и 2. Грани клина 1 и поверхность тела A гладкие. Вертикальная грань клина 2 гладкая, а наклонная грань и поверхность тела B шероховатые. При каком значении коэффициента трения f между поверхностями контакта клина 2 и тела B наступит момент предельного равновесия, если давить на клин 1 силой P ? Считать, что силы давления клина 2 на тело B распределяются по поверхности тела равномерно.



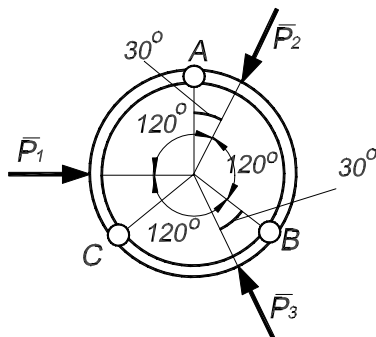
6. (Зап.-Сиб. зона, Томск, политех. ин-т, 1986)

В цилиндрическое отверстие тела A радиуса $R = 3r$ вставлены без натяга шесть цилиндров радиуса r и веса Q каждый. Определить давление цилиндра 4 на стенку отверстия в точке их контакта. Система расположена в вертикальной плоскости.



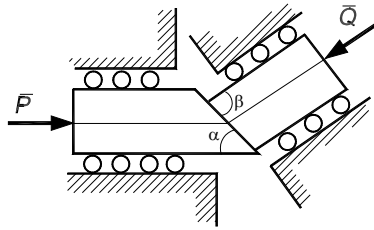
7. (Зап.-Сиб. зона, Томск. инж.-строит. ин-т, 1988)

Кольцо радиуса R состоит из трех одинаковых дуг AB , BC и CA , соединенных между собой шарнирами. К каждой из дуг на равных расстояниях от шарниров в плоскости кольца приложены силы P_i , линии действия которых проходят через центр O ; кольцо расположено в горизонтальной плоскости. Определить реакции в шарнирах A , B и C . Принять $P_1 = P_2 = P_3 = P$.



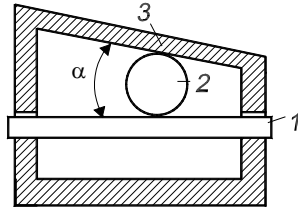
8. (Зап.-Сиб. зона, Томск. инж.-строит. ин-т, 1988)

Два клина A и B , коэффициент трения между которыми равен f , могут двигаться без трения в своих направляющих. К клину A приложена сила P . Какую силу Q нужно приложить к клину B , чтобы клин A двигался равномерно в сторону действия силы P ?



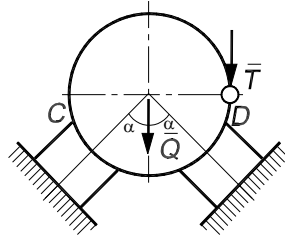
9. (Томск. область, 1979)

Храповое устройство позволяет двигаться направляющей 1 только влево. Считая, что коэффициент трения скольжения между шариком 2 и корпусом 3 значительно больше коэффициента трения скольжения f между шариком и направляющей, определить, при каком угле α храповое устройство работоспособно.



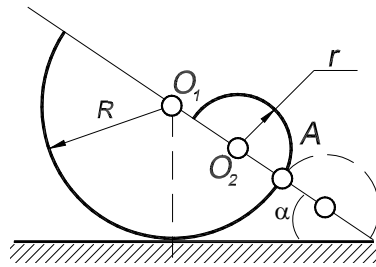
10. (Белорусск. политех. ин-т, 1984)

Цилиндр веса Q лежит на двух опорах C и D , расположенных симметрично относительно вертикали, проходящей через центр цилиндра. Коэффициент трения между цилиндром и опорами равен f . При какой величине тангенциальной силы T цилиндр начнет вращаться?



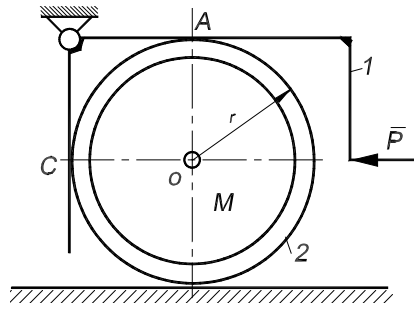
11. (Белорус. с.-х. акад., 1987)

Два однородных полудиска радиусов R и r жестко связаны между собой, как показано на рисунке. Исследовать положение равновесия системы. Указание: найти тангенс угла α , который образует общая прямая этих тел с горизонтом. Очевидно, что из $r \rightarrow 0$ следует $\alpha \rightarrow 0$ (т.е. имеем один нижний полудиск, находящийся в устойчивом положении равновесия). Будем увеличивать радиус малого полудиска. Может сложиться впечатление, что с возрастанием r должен увеличиваться до каких-то пределов и α , а затем при дальнейшем увеличении r угол α будет уменьшаться; при $r \rightarrow 0$ ожидаем $\alpha \rightarrow 0$. Так ли это? Из формулы для $\tan(\alpha)$ из $r \rightarrow R$ не следует $\alpha \rightarrow 0$. Почему? Найти интервал для α при устойчивом положении системы, если $0 < r < \infty$. То же найти и для случая, когда верхний полудиск располагается справа от точки A (показано пунктиром).



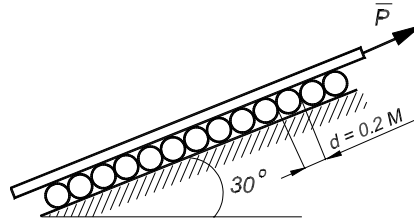
12. (МИИТ, 1978)

Определить условия, которым должны удовлетворять сила P , приложенная к жесткому рычагу l , момент пары M , приложенный к твердому кольцу 2 радиуса R , и коэффициенты сцепления (трения покоя) f_A и f_B в точках A и B , для того, чтобы кольцо вращалось вокруг неподвижной оси O . Трением в точке C , весом кольца и рычага пренебречь.



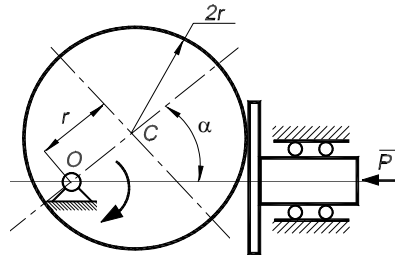
13. (Омск. политех. ин-т, 1984)

Бетонный блок массой $m = 500$ кг равномерно поднимают вверх по наклонной шероховатой плоскости на невесомых катках. Коэффициенты трения качения в парах: каток – наклонная плоскость $\delta_1 = 0,01$ см, каток – поверхность блока $\delta_2 = 0,005$ см. Коэффициент трения скольжения в паре блок – наклонная плоскость – $f = 0,1$. Определить тяговое усилие, приложенное к блоку параллельно плоскости, при вкатывании и при втягивании волоком.



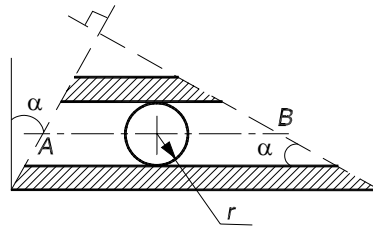
14. (Тольяттинск. политехн. ин-т., 1987)

При каких условиях система будет в равновесии, если $\alpha = 30^\circ$ и коэффициент трения покоя $f = 0,15$? Трением в подшипниках пренебречь. Каково условие самоторможения при $M = 0$?



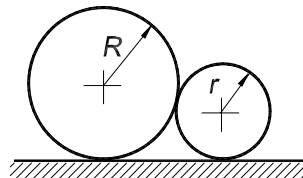
15. (Тольяттинск. политехн. ин-т., 1986)

Из цилиндрической трубы радиуса r двумя взаимно перпендикулярными сечениями вырезан патрубок. На его внутреннюю поверхность действует равномерное давление P . Определить величину и линию действия равнодействующей R .



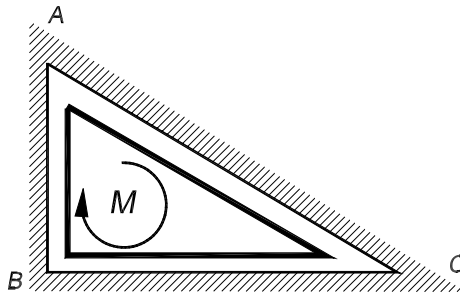
16. (Тольяттинск. политехн. ин-т, 1986)

При каком условии автомобильное колесо радиуса R сможет медленно переехать через свободно лежащий на дороге цилиндр радиуса r ? Коэффициент трения цилиндра с колесом и дорогой f . Весом цилиндра пренебречь.



17. (Уфимск. нефтян. ин-т, 1983)

К треугольному ключу с сечением в виде прямоугольного треугольника с катетами $AB = a$ и $BC = b$ приложена пара сил с моментом M . Определить давления, производимые вершинами A , B и C на грани гнезда замка. Трением пренебречь. Зазор между ключом и гнездом считать малым.



ОТВЕТЫ

Глава 3.1

$$\begin{aligned} 1. \quad m_x &= m_1 A_1 / R_1 + m_2 A_2 / R_2; \\ m_y &= m_1 B_1 / R_1 + m_2 B_2 / R_2; \\ m_z &= m_1 C_1 / R_1 + m_2 C_2 / R_2; \end{aligned}$$

$$R_1 = \sqrt{A_1^2 + B_1^2 + C_1^2}; \quad R_2 = \sqrt{A_2^2 + B_2^2 + C_2^2}.$$

Здесь принято, что векторы m_1 и m_2 направлены в сторону соответствующих плоскостей (вверх).

2. Векторы составляют с плоскостью XOY одинаковые углы

$$\alpha = \arccos(V\sqrt{a^2 + b^2} / 2m).$$

$$3. \quad R = 5M / l.$$

4. $\vec{M}_O \cdot \vec{R} \neq 0$ – система не приводится к равнодействующей,

$$R_{XZ} = \sqrt{M_A^2 + M_O^2} / h.$$

$$5. \quad (P_{1x} + P_{2x})(b_1 P_{1z} - c_1 P_{1y} + b_2 P_{2z} - c_2 P_{2y}) + (P_{1y} + P_{2y})(c_1 P_{1x} - a_1 P_{1z} + c_2 P_{2x} - a_2 P_{2z}) + (P_{1z} + P_{2z})(a_1 P_{1y} - b_1 P_{1z}) = 0.$$

$$6. \quad R = 4F.$$

$$7. \quad Q_X = -1,5F.$$

$$8. \quad a + b + c = 0.$$

$$9. \quad M = \sqrt{29} \text{ Н} \cdot \text{м}.$$

Глава 3.2

$$1. \quad l_{\max} = 3,3a(1 + f).$$

$$2. \quad S = P / 2.$$

$$3. \quad \Delta l = Q(R + r) / (4c\sqrt{Rr}).$$

4. $\varphi = \varphi_1 = 0$; $\varphi = \varphi_2 = \arccos(h / l\sqrt{1 - k})$ (при $k < 1$); положение равновесия $\varphi = \varphi_1$ устойчиво в случае, когда оно единственно (при $k \geq 1 - h^2 / l^2$), при $k < 1 - h^2 / l^2$ устойчиво только положение равновесия $\varphi = \varphi_2$.

$$5. \quad T = P / 2, \quad q = P / 2R.$$

$$6. \quad T_\alpha = P / 4 + P \sin \alpha / 2\pi.$$

$$7. \quad P = Q 2 \sin 15^\circ / (1 - 2 \sin 15^\circ) \approx 1,073Q.$$

$$8. \quad S_A = 5F / c.$$

$$9. \quad N_2 = 2P - 36Pl / 25r.$$

$$10. \quad \operatorname{tg} \varphi_K = 2Q / P / (2(n - k) + 1).$$

$$11. \quad c = mg\sqrt{2} / l.$$

$$12. \quad S_E = 2,4P, \quad S_D = 2,1P, \quad y_A = 1,3P, \quad y_B = 1,2P, \quad P - \text{вес балки AD}.$$

$$13. \quad M_{\min} = 0,75 Pr.$$

14. Центр тяжести нити переместится вверх.

15. Расстояние пластины от верхней опоры

$$x = (Pl - mg\Delta_2)\Delta_1 / (P(\Delta_1 + \Delta_2)).$$

16. $n_{\min} = 9$.

$$17. y_1(2R_0 + k_0(y_1 + y_2)) = 2P\sqrt{l_0^2 - y_1^2},$$

$$(R_0 + k_0y_2)(y_2 - y_1) = P\sqrt{l_0^2 - (y_2 - y_1)^2}.$$

18. $x_B = -x_A = 17,2$ кН, $y_A = 3$ кН, $y_B = 9$ кН, $N_C = 6$ кН,
 $M_C = 89,5$ кН·м.

19. $\sin(\varphi - \alpha) - \sin(\varphi + \beta) > 0$.

20. $y_A = 0,5P(1 - (a/l)^n)/(1 - a/l)$.

21. $T = 2P(1 - 1/4^n)/3$.

$$22. L = a/2 \sum_{i=1}^n (1/i).$$

$$23. r = 2a\sqrt{2} - 4aP\cos\varphi/Q$$

$$24. \operatorname{tg}\varphi = (1 - \cos\alpha)/(3\pi - 1,5\alpha + \sin\alpha),$$

$$\operatorname{tg}\varphi_1 = (1 - \cos\alpha)/(2\pi - \alpha + \sin\alpha).$$

25. $\sin\alpha = 0,5$, $T_{\min} = 4Qr/l$.

26. $F = (P_1 + P_2)cg\alpha$.

$$27. \cos\varphi = (l + \sqrt{l^2 + 32R^2})/8R.$$

$$28. Q_{\min} = P_2(2a - r_1 - r_2)/a.$$

29. $F = 3P$.

30. $\cos\varphi = \sqrt[3]{a/l}$, $N_A = Q \operatorname{tg}\varphi$, $N_C = Q/\cos\varphi$, $a \leq l$, $Q_0 = P/2\operatorname{tg}^2\varphi$.

31. $y_A = P$, $x_B = 3Q$, $y_B = P$, $M_B = -6Qa$.

32. $\operatorname{tg}\beta = (2G + Q)\operatorname{tg}\alpha/Q$.

$$33. x = (GR + (G + Q)r - \sqrt{r^2(G + Q)^2 - R^2G(G + 2Q)})/(G + Q).$$

34. Не раскатятся, $R_A = 1,384P$, $R_B = 2,268P$.

35. $\lambda = (2m + M)g/(c_1 + c_2)$.

36. $T_1 = P$.

37. $S_6 = 0$.

38. $\operatorname{tg}\alpha = 3\pi p/8P$, $\operatorname{tg}\beta = 3\pi p/8Q$.

39. $P_{\min} = 4Q/3\pi(1 - \cos\alpha)$, $x_B = 4Q/3\pi$,

$$y_B = 2(Q + 4Q/3\pi(1 - \cos\alpha)).$$

40. $Q = 2F$.

41. $x_{A1} = -3\sqrt{3}P/8$, $y_{A1} = P/8$, $x_{A2} = 3\sqrt{3}P/8$, $y_{A2} = -5P/8$, $x_{A3} = 0$, $y_{A3} = P/2$.

$$42. \operatorname{tg}\varphi_k = \frac{2Q\cos\alpha}{P(2k-1) - 2Q\sin\alpha}.$$

$$43. \varphi = \operatorname{arctg}\frac{\sqrt{3}}{9}.$$

$$44. \varphi = \arccos((1 + \sqrt{51})/10).$$

45. $x_C = 2r\cos^3\varphi$, $y_C = r\cos\varphi(2 - \sin 2\varphi)$.

46. $\operatorname{tg}\alpha = M \operatorname{tg}\beta/(2m + M)$.

$$47. T = P\frac{b}{a}.$$

48. Трубы не раскатятся при $R < 6,3r$.

Глава 3.3

1. $\alpha = \operatorname{arctg}(\sqrt{3}/9)$.
2. $\varphi = 2\alpha - 90^\circ$, равновесие неустойчивое.
3. Часть эллипса $x^2/a^2 + (y-a/2)^2/(a/2)^2 = 1$, $0 \leq x \leq a$, $0 \leq y \leq a/2$.
4. $P_{\min} = G \cos(\alpha + \operatorname{arctg} f)$.
5. $\varphi = \alpha$, $N_A = P \cos \alpha$, $N_B = P \sin \alpha$.

Глава 3.4

1. $Y_A = -(P+Q)\operatorname{tg}\gamma/2$.
2. $F = P/3\sqrt{2}$.
3. $M_o = \sqrt{15} \text{ Н}\cdot\text{м}$.
4. $\sin \beta = 2Q/P \sin \alpha$, $x_0 = (2aPQ \cos \alpha - bmQ)/n$,
 $y_0 = (2bQ^2 - bP^2 \sin^2 \alpha + Pam \cos \alpha)/n$, $z_0 = P \cos \alpha$,
 $x_D = -(2aPQ \cos \alpha + bmQ)/n$, $y_D = (2bQ^2 - P^2 b \sin^2 \alpha - Pam \cos \alpha)/n$,
 $m = \sqrt{P^2 \sin^2 \alpha - 4Q^2}$, $n = 2bP \sin \alpha$.
5. $T = Mg/\sqrt{6}$.
6. $x_A = 3\sqrt{2}(P+2Q) \operatorname{ctg}\alpha/2$, $y_A = -\sqrt{2}(P+2Q) \operatorname{ctg}\alpha/2$, $z_A = -Q$, $T_{CG} = (P+2Q)/\sin \alpha$, $T_{DE} = 2(P+2Q) \operatorname{ctg}\alpha$.
7. $S_1 = S_2 = 0,4\sqrt{2} \text{ кН}$.
8. $b = a\sqrt{2}/2$.
9. $\operatorname{tg}\alpha = af/\sqrt{l^2 - a^2}$
10. $T = P/4$.
11. $x_A = -2P\sqrt{2}/9$; $y_A = -P\sqrt{2}/6$; $z_A = 7P/9$; $R_c = 2P\sqrt{3}/9$; $N_B = P\sqrt{2}/6$.
12. $OO_1/OO_2 = 1,5$.
13. $\cos(\angle AOB) = 1/4$, $\cos(\angle AOC) = -7/8$.
14. (123456), (123457), (124567), (234567).
15. $x_B = 2P \cos \alpha$; $R_E = \frac{Q}{2} + \frac{P}{5} \sin \alpha$; $z_B = \frac{Q}{2} + \frac{2}{5} P \cos \alpha$;
 $y_B = P(\sin \alpha - 2 \cos \alpha)$; $y_A = P(\sin \alpha + 2 \cos \alpha)$; $z_A = -\frac{P}{5}(\sin \alpha + 2 \cos \alpha)$.
16. $R_A = P$, $\alpha = 30^\circ$.
17. $R_A = 1,09g\rho l^3$.
18. $F = P\sqrt{6}/3$.

Глава 3.5

1. $\operatorname{tg}(\alpha/2) \leq f$.
2. $f \geq Q/(P+2Q)$.
3. $\alpha_{\max} = 2\operatorname{arctg} f$; $f_{O(\min)} = fQ_1/(Q_1+Q_2)$.
4. $h \geq H(1-f^2/4)$.
5. $DQ(\sin \alpha - \delta \cos \alpha/R)/d < P < DQ(\sin \alpha + \delta \cos \alpha/R)/d$.
6. $F \leq \min[f_2P_2/(\cos \alpha - f_2 \sin \alpha), f_1(P_1+P_2)/(\cos \alpha - f_1 \sin \alpha)]$.
7. $f \geq \operatorname{tg}(\alpha/2)$.
8. $\operatorname{tg}\varphi = (P_1 - P_2)(1+f^2)/((P_1+P_2)(1-f^2)) - 2f/(1-f^2)$.
9. $M_{\max} = QfR$, $x_A = -4fQ/\pi$, $x_B = 2fQ/\pi$, $y_A = -2Q/\pi$, $y_B = 2Q/\pi$.

10. 1 случай: а) при $0 \leq \alpha \leq 45^\circ$ безразличное равновесие; б) при $0 < \beta < \varphi_0$, $\beta = \alpha - 45^\circ$, $\varphi_0 = \arctg f$ – устойчивое равновесие; в) при $\beta = \varphi_0$ – неустойчивое равновесие; г) при $\beta > \varphi_0$ равновесия нет. 2 случай: а) при $\alpha < 45^\circ - \varphi_0$ безразличное равновесие; б) при $-\varphi_0 < \beta < \varphi_0$ – устойчивое равновесие; в) при $\beta > \varphi_0$ равновесия нет.

11. $P = G/f$, $R_A = 0$.

12. $\cos \alpha = 2f/(1+f^2)$ – при поступательном движении катка; $\cos \alpha > 2f/(1+f^2)$ – при качении без проскальзывания.

13. $f \geq r/l$, $G_2 \leq G_1(Lr/l)(fl-r)/(l^2+r^2)$.

14. $\lambda = 4,5G/c$.

15. $\operatorname{tg} \alpha_{\min} = (m_1 + m_2)/(f(3m_1 + m_2))$.

16. $\operatorname{tg} \alpha > (af_1 + bf_2)/b$.

17. $b \leq 6Rf/\sqrt{1+9f^2}$, $b \leq 4Ra/\sqrt{4a^2+h^2}$.

18. $f \geq \sqrt{3}/3$.

19. $f_{\min} = 0,4$.

20. $P_{\min} = G \cos \alpha / (\sin \alpha + 2f \cos \alpha)$, $P_{\max} = G \cos \alpha / (\sin \alpha - 2f \cos \alpha)$.

21. $(-fan^2 + b)/(n^2 - 1) \leq x \leq (fan^2 + b)/(n^2 - 1)$, $n > 1$, $b = a\sqrt{f^2 n^2 + n^2 - 1}$.

22. $\sin \alpha - f \cos \alpha \leq Q/P \leq \sin \alpha + f \cos \alpha$, $\operatorname{tg} \alpha = x_0$.

23. $F_{\min} = P(f + \sqrt{h(2R-h)/(R-h)})$.

24. 1) $x > (2f-1)l/(1+f)$; 2) $f = 1$, $x = l/2$.

25. $l \geq (\operatorname{tg} \alpha / f + 1)a + 2b$, $\operatorname{tg} \alpha \geq f$.

26. $\operatorname{tg} \alpha \leq f$, $\operatorname{tg} \alpha \leq \delta / r \cos \beta$.

27. $P_{\min} = G \operatorname{tg} \varphi + Q \cos \beta \sin(2\varphi - \alpha) / (\cos \varphi \cos(\alpha + \beta - \varphi))$.

28. $f_1 = \sqrt{3} - \sqrt{2}$, $f_2 = (\sqrt{3} - \sqrt{2})/4$.

29. Стержень будет находиться в равновесии.

30. $P = fQ/(1-f)$.

31. Не сдвинется. Тележка сдвинется при $F_{\text{топ}} \geq 0,43N$.

32. $h \leq 0,2$.

33. $\varphi = \arctg(1/4f)$.

34. $\operatorname{tg} \alpha \leq f$, $Q_{\min} = P(\sin \alpha \cos \beta + \sqrt{f^2 \cos \alpha - \sin^2 \alpha \sin^2 \beta})$.

35. Если $f < 1/2\sqrt{3}$, то равновесие невозможно при любом Q ; если $1/2\sqrt{3} < f < 1/\sqrt{3}$, то равновесие будет при $2P/3\sqrt{3} \leq Q \leq 2fP/(1+f\sqrt{3})$; если $f \geq 1/\sqrt{3}$, то равновесие возможно при $2P/3\sqrt{3} \leq Q \leq P/\sqrt{3}$.

36. $Q = (R(r(\cos 30^\circ - \sin 30^\circ) - \delta \sin 30^\circ) - P_1 \delta) / r$,

$R = P_2 r / (f(0,6r + 2cf) \cos 30^\circ - 0,5r)$.

37. $Qe^{-f(\pi/2+\alpha)} \leq T \leq Qe^{f(\pi/2+\alpha)}$.

38. $Q = Pf \cos \alpha / 2$.

39. $f_1 = 0,576$, $f_2 = 0,812$.

40. $M > 2PR/3$.

41. 1) $\alpha = 30^\circ$, 2) $P_{\min} = Q/\sqrt{65}$, $\operatorname{tg} \beta = 1/8$, $\alpha \approx 32,7^\circ$.

42. $\sin \alpha - f \cos \alpha \leq P_2 r / (P_1 R) \leq \sin \alpha + f \cos \alpha$.

43. $h < 10\delta$ при $f < 0,1$ (при $f > 0,1$ возможно качение и скольжение одновременно).

44. $\sin \alpha_2 = \frac{1-f^2}{1+f^2}$; $\alpha_2 \leq \alpha \leq \frac{\pi}{2}$.

45. $f \geq 2 \sin \varphi / (\pi - 2 \cos \varphi)$.

$\varphi_1 = \arccos(2/\pi)$; $(f_{\min})_{\max} = 2/\sqrt{\pi^2 - 4}$.

46. $F_A = f_1 P_1 \left[1 + \frac{f_1(1+f_2 \operatorname{tg} \alpha)}{(1-f_1 f_2) \operatorname{tg} \alpha - f_1 - f_2} \right] = 0,238 \text{ кН}$.

$$47. T_A = \frac{1}{4}P, \quad T_B = \frac{1}{3}P, \quad T_C = \frac{5}{12}P.$$

$$48. Q = 12P.$$

$$49. \operatorname{arctg} \frac{1}{2f} \leq \alpha \leq \frac{\pi}{2}; \quad 0 \leq \beta \leq \frac{\pi}{2}.$$

$$50. \operatorname{tg} \delta = \frac{(f^2 - 1)(e^{-f\alpha} - e^{f\alpha}) - 2f \operatorname{tg} \alpha (e^{-f\alpha} + e^{f\alpha})}{(f^2 - 1) \operatorname{tg} \alpha (e^{-f\alpha} + e^{f\alpha}) + 2f(e^{-f\alpha} - e^{f\alpha})}.$$

$$51. a/l \leq 4f / \sqrt{1 + 16f^2}.$$

$$52. \text{ При } f > \delta/r \quad 4(1 - \delta/r) \leq \operatorname{tg} \alpha \leq 4(1 + \delta/r).$$

$$\text{ При } f \leq \delta/r \quad 4(1 - f) \leq \operatorname{tg} \alpha \leq 4(1 + f).$$

$$53. f = \sqrt{2}/5.$$

54. 1) Раскатятся, 2) При абсолютно твердых трубах и поверхности пола количество труб теоретически неограниченно велико, 3) Зависит, так как необходимо преодолеть трение качения и трения скольжения в местах контакта труб, вызванное сопротивлением труб перекачиванию.

$$55. l_{\max} = 8Rf / (1 + f^2), \quad f \geq 2 - \sqrt{3}.$$

$$56. P \leq Qa/2h, \quad P \leq Q/2, \quad P \leq Qf / \sqrt{1 + f^2}.$$

57. Система сходящихся сил. Из формул равновесия получаются формулы для координаты центра масс.

$$58. x = l/2.$$

$$59. l = L/2.$$

$$60. P_2(1 - 2f \operatorname{ctg} \alpha) \leq P_1 \leq P_2(1 + 2f \operatorname{ctg} \alpha).$$

Глава 3.6

$$1. \lambda = (M_{\text{вп}} \cos^2 \varphi) / (ca).$$

$$2. M_{2\min} = (aM_1) / (a \sin^2 \alpha + fr \cos \alpha).$$

3. Учесть, что точка L – МЦС звена AE , точка S – МЦС ползуна в его относительном движении по отношению к звену OAB , K – МЦС ползуна в абсолютном движении.

$$4. M_2 = Pl, \quad R_C = 2P/\sqrt{3}, \quad R_D = P\sqrt{13}/\sqrt{3}, \quad R_E = 0.$$

$$5. Q = M\sqrt{2}/3l.$$

$$6. M_1 = Pl\sqrt{3}/2.$$

$$7. x_A = 0, \quad y_A = -14 \text{ Н}, \quad M_A = -32 \text{ Н} \cdot \text{м}, \quad R_C = 2 \text{ Н}.$$

$$8. F = 3T.$$

$$9. m_2 = 0,5m_1, \text{ линия действия силы } F \text{ должна пройти через МЦС звена } AB, \text{ при } AB = l\sqrt{2}, AK = l, \cos \varphi = \sqrt{0,6}.$$

$$10. R_O = m/2a, \quad \alpha = 90^\circ.$$

$$11. Y_A = 44 \text{ Н}, \quad X_D = 32\sqrt{3} \text{ Н}.$$

$$12. M = Pa/2 + Q(a - b \cos^3 \varphi/2).$$

$$13. F = \frac{4M}{r\sqrt{3}}.$$

$$14. Q = 4(M_1 + M_3 - 2M_4 + Fa) / a.$$

$$15. M_4 = \frac{3}{4}(M_2 - 2M_1).$$

$$16. M_2 / M_1 = (b^2 - a^2) / (b^2 + a^2).$$

$$17. M = (Pl) / ((\cos \alpha + f \sin \alpha) \cos \alpha).$$

$$18. F = M\sqrt{3} / R.$$

Глава 3.7

1. $P = bQ/(b - 2f_0y)$.
2. $c_{\min} = 10\sqrt{2}$ (Н/см), $P_{\min} = 20$ Н.
3. $M_3 = 5(\sqrt{3} + 1)Q/6$.
4. $a_{\min} = h/2f$, $P_{\min} \rightarrow 0$.
5. $f = \operatorname{tg}\alpha$.
6. $N = 4Q$.
7. $R_A = R_B = R_C = P/\sqrt{3}$.
8. $Q = P(\sin\beta + f \cos\beta)/(\sin\alpha + f \cos\alpha)$.
9. $\alpha < 2\operatorname{arctg} f$.
10. $T = Qf/((1 - f^2)\cos\alpha + f)$.
11. 1) $r > 0$, $\operatorname{tg}\alpha = 3\pi r^2/4(R^2 + rR + r^2)$,
($r \rightarrow R$, $\alpha \rightarrow 38,1^\circ$; $r \rightarrow \infty$, $\alpha \rightarrow 67^\circ$; $r = 2R$, $\alpha = 53,6^\circ$; $r = 0,5R$, $\alpha = 18,6^\circ$).
- 2) $r < 0$, $\operatorname{tg}\alpha = 3\pi r^2(R + r)/4(R^3 - r^3)$,
($r \rightarrow R$, $\alpha \rightarrow \pi/2$; $r \rightarrow \infty$, $\alpha = 113^\circ$).
12. $f_A \leq f_B < f_A + 1$, $M > (PR(f_A + f_B))/(1 + f_A - f_B)$.
13. 1) При вкатывании $P = 2453H$; 2) При вытягивании $P = 2874H$.
14. $0,17 \leq M/Pr \leq 0,83$, $f \geq 0,175$.
15. $R = \pi r^2 P / \sin\alpha \cos\alpha$, \bar{R} проходит через точку C на прямой AB ($R \perp AB$), причем $BC = AC \operatorname{tg}^2\alpha$.
16. $r \leq f^2 R$.
17. $N_A = M/\sqrt{a^2 + b^2}$, $N_B = Ma/(a^2 + b^2)$, $N_C = Mb/(a^2 + b^2)$.

Список литературы

1. Бутенин, Н.В. Курс теоретической механики / Н.В. Бутенин, Я.Л. Лунц, Д.Р. Меркин. – СПб., 1998. – Т. 1.
2. Курс теоретической механики / В.И. Дронг, В.В. Дубинин, М.М. Ильин и др. / под общ. ред. К.С. Колесникова. – М., 2000.
3. Лойцянский, Л.Г. Курс теоретической механики / Л.Г. Лойцянский, А.И. Лурье. – М., 1982. – Т. 1.
4. Никитин, Н.Н. Курс теоретической механики / Н.Н. Никитин. – М., 2003.
5. Тарг, С.М. Краткий курс теоретической механики / С.М. Тарг. – М., 2001.
6. Яблонский, А.А. Курс теоретической механики / А.А. Яблонский, В.Л. Никифорова. – СПб., 2001.
7. Цывильский, В.Л. Теоретическая механика / В.Л. Цывильский. – М., 2004.
8. Примеры и задачи в теоретической механике. Статика. Кинематика. Часть 1 / В.Д. Бертяев, П.П. Макарова, С.С. Маркелов и др. – М., 2004.
9. Зернов, Б.С. Сборник задач по теоретической механике / Б.С. Зернов. – М.-Л., 1980. – Ч. 1. – 172 с.
10. Мещерский, И.В. Сборник задач по теоретической механике / И.В. Мещерский. – М. : Наука, 1986. – 448 с.
11. Сборник задач по теоретической механике / под общ. ред. Н.А. Бражниченко. – М. : Высшая школа, 1986. – 480 с.
12. Сборник задач по теоретической механике / под ред. К.С. Колесникова. – М. : Наука, 1983. – 320 с.
13. Файн, А.М. Сборник задач по теоретической механике / А.М. Файн. – М. : Высшая школа, 1978. – 189 с.
14. Будник, Ф.Г. Сборник задач по теоретической механике / Ф.Г. Будник, Ю.М. Зингерман, Е.И. Селенский. – М. : Высшая школа, 1987. – 176 с.
15. Сборник задач по теоретической механике / Е.С. Пятницкий, Н.М. Трухан, Ю.И. Ханукаев, Г.Н. Яковенко. – М. : Наука, 1980. – 210 с.
16. Попов, А.И. Олимпиадные задачи по теоретической механике : учебное пособие / А.И. Попов, В.И. Галаев. – Тамбов : Изд-во Тамб. гос. техн. ун-та, 2001. – 84 с.
17. Сборник олимпиадных задач по теоретической механике / А.И. Попов, В.И. Попов, В.А. Тышкевич, М.П. Шумский. – Тамбов : Изд-во Тамб. гос. техн. ун-та, 2006. – 96 с.

ОГЛАВЛЕНИЕ

ПРЕДИСЛОВИЕ	3
ВВЕДЕНИЕ	4
1. ТВОРЧЕСТВО В ПРОФЕССИОНАЛЬНОЙ ДЕЯТЕЛЬНОСТИ СПЕЦИАЛИСТА В ОБЛАСТИ ИННОВАТИКИ	7
2. МЕХАНИКА – ОСНОВА ПОДГОТОВКИ К ИННОВАЦИОННОЙ ДЕЯТЕЛЬНОСТИ НА ПРЕДПРИЯТИЯХ МАШИНОСТРОЕНИЯ	23
3. ЗАДАНИЯ ДЛЯ САМОСТОЯТЕЛЬНОЙ РАБОТЫ ПО СТАТИКЕ	27
3.1. Основные теоремы статики	27
3.2. Равновесие плоской системы сил	30
3.3. Система сходящихся сил	48
3.4. Равновесие пространственной системы сил	50
3.5. Задачи с трением	59
3.6. Принцип возможного перемещения	84
3.7. Профессионально-ориентированные задачи	91
ОТВЕТЫ	98
СПИСОК ЛИТЕРАТУРЫ	107